

Όνομα:.....

1) Υπολογίζω τα παρακάτω γινόμενα:

15×30

25×400

14×8



2) Ο παρακάτω πίνακας δείχνει το ημερήσιο πρόγραμμα προπονήσεων δύο αθλητών στίβου. Με τα στοιχεία του πίνακα διατυπώνω ένα πρόβλημα:

αθλητές προπόνηση	α'	β'
πρωινή	3.250 μ.	7.230 μ.
απογευματινή	6.745 μ.
Σύνολο	8.250 μ.




.....

.....

.....

.....

3) Ένας φούρναρης έψωσε 117 τσουρέκια σε ταψιά. Σε κάθε ταψί έβαλε 9 τσουρέκια. Πόσα ταψιά χρειάστηκε; Επιλύω και επαληθεύω.





2η ΑΞΙΟΛΟΓΗΣΗ

- 4) Η καμπλοπάρδαλη καταναλώνει περίπου 180 κ. τροφή την ημέρα. Το μικρό της καταναλώνει τροφή ίση με το ένα τρίτο της τροφής της μητέρας. Πόσα κιλά συνολικά καταναλώνουν σε μια εβδομάδα μια μητέρα με το μικρό της;

α) Διατυπώνω ένα ενδιαμέσο ερώτημα:

β) Εκτιμώ: Η καμπλοπάρδαλη καταναλώνει περίπου κ.
ενώ το μικρό της κ.

γ) Υπολογίζω με το συντομότερο τρόπο που θα σκεφτώ:



- 5) Θέλουμε να φτιάξουμε ένα πολύγωνο με περίμετρο 24 εκ. Όλες του οι πλευρές θα έχουν το ίδιο μήκος μεταξύ τους. Πόσες πλευρές μπορεί να έχει;



- 6) Γράφω 3 αριθμούς που είναι πολλαπλάσια:

του 15

.....,,

του 10

.....,,

του 12

.....,,