













Ασκήσεις













1. Συμπληρώνω τα ζευγαράκια του 10:

 1 +	 2 +	 3 +	 4 +	 5 +
 6 +	 7 +	 8 +	 9 +	 10 +



2. Βρίσκω το μισό του αριθμού:





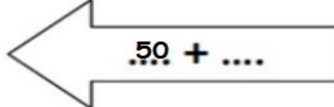


3. Γράφω τους παρακάτω αριθμούς με λέξεις και το αντίστροφο:

12 →		δεκαοχτώ →	
25 →		τριάντα τέσσερα →	
58 →		εβδομήντα έξι →	
89 →		ενενήντα εννιά →	
100 →		εκατόν δέκα →	




















4. Συμπληρώνω τους αριθμούς για να φτάσω στον αριθμό στόχο:



5. Συμπληρώνω με τα σωστά νομίσματα:

	+		+		=			
	+		=					
	+		+		+		=	
	+		+		+		=	