

Όνομα: _____

Ημερομηνία: _____

ΜΑΘΗΜΑΤΙΚΑ
Δ' ΔΗΜΟΤΙΚΟΥ
ΚΕΦΑΛΑΙΑ 52-56
Δάσκαλος: Αναστασιάδης Χαράλαμπος

1) Υπολογίζω τον χρόνο που διαρκεί κάθε εκπομπή.

Παιδικό κανάλι	
7.00	Μπεν ο αρκούδος _____
7.20	Ελληνικά παραμύθια _____
8.05	Θέατρο σκιών _____
9.00	Τζιν-τζιν το σκανταλιάρικο τζίνι _____
10.15	Παιδική χορωδία _____
10.45	Κίνηση και μουσική _____
11.10	Κλασικά παραμύθια (ταινία, μεταγλωττισμένο) _____
12.40	Ώρα για χειροτεχνία _____
13.30	Τέλος πρωινής ζώνης

Άνθρωπος και φύση	
8.05	Η ζωή των δελφινιών _____
8.30	Τα ζώα της ζούγκλας _____
9.15	Αιώνιοι πάγοι _____
9.45	Πύρινος γίγαντας-Ηφαίστειο _____
10.20	Ο πολιτισμός της Κίνας _____
10.40	Πανίδα και κλωρίδα της Στέπας _____
11.15	Μετεωρίτες _____
11.35	Οι Βεδουίνοι _____
12.35	Το φαινόμενο Ελ-Νίνιο _____
13.05	Τέλος πρωινής ζώνης

2) Η μητέρα του Σαλ εργάζεται σε παιδικό σταθμό. Σήμερα θα φτιάξει κρέμα και ρυζόγαλο για τα παιδάκια. Χρειάζεται τριάμισι λίτρα γάλα.



- Πόσα χρήματα θα ξοδέψει αν αγοράσει ;

α) Εκτιμώ: _____ Υπολογίζω με ακρίβεια: _____



β) Εκτιμώ: _____ Υπολογίζω με ακρίβεια: _____

_____ + _____ + _____ + _____ = _____


- Με ποιον τρόπο μπορεί να ξοδέψει λιγότερα χρήματα αγοράζοντας την ποσότητα γάλακτος που χρειάζεται;


3) Αντιστοιχίζω:

- | | |
|---------------------------|-----------------------|
| 1 λίτρο ● | ● 0,500 λίτρα |
| μισό λίτρο ● | ● 250 χιλιοστόλιτρα |
| ένα τέταρτο του λίτρου ● | ● 750 χιλιοστόλιτρα |
| τρία τέταρτα του λίτρου ● | ● 1.000 χιλιοστόλιτρα |

4) Με τον δοκιμαστικό σωλήνα του μισού λίτρου  μπορώ να γεμίσω δύο ποτηράκια  :

Χρωματίζω κάθε φορά:

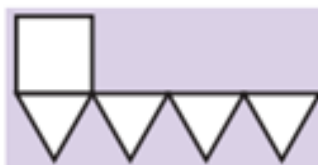

όσα  μπορώ να γεμίσω



όσους  και  μπορώ να γεμίσω



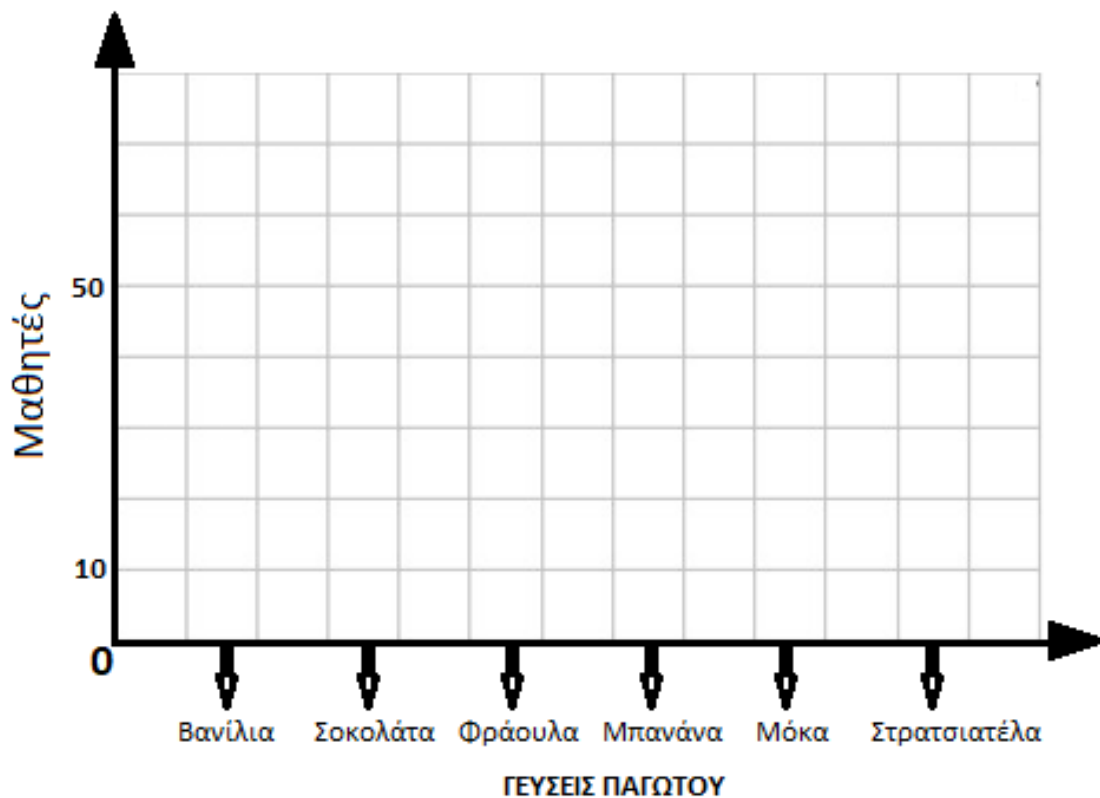
5) Με το μυαλό μου διπλώνω κατάλληλα τα παρακάτω αναπτύγματα και κατασκευάζω στερεά. Βάφω τις απέναντι πλευρές των στερεών με το ίδιο χρώμα.



6) Οι μαθητές ενός σχολείου ρωτήθηκαν τι γεύσεις παγωτού προτιμούν και έδωσαν τις παρακάτω απαντήσεις:

Γεύσεις παγωτού	Βανίλια	Σοκολάτα	Φράουλα	Μπανάνα	Μόκα	Στρατσιατέλα
Μαθητές	50	80	40	30	10	30

α. Να σχεδιάσεις ένα ραβδόγραμμα και να απαντήσεις στις επόμενες ερωτήσεις:










- β. Πόσους μαθητές έχει το σχολείο; _____
- γ. Ποια γεύση προτιμούν οι περισσότεροι μαθητές; _____
- δ. Ποια γεύση προτιμούν οι λιγότεροι μαθητές; _____
- ε. Πόσοι περισσότεροι είναι οι μαθητές που προτιμούν σοκολάτα από αυτούς που προτιμούν τη μόκα; _____

7) Βρίσκω τον κανόνα και συνεχίζω το αριθμητικό μοτίβο:



Κανόνας: _____

8) Συμπληρώνω τον πίνακα:

Γεωμετρικά στερεά	Όνομα στερεού	Αριθμός κορυφών	Αριθμός ακμών	Αριθμός εδρών
	κύβος			
				
				
				
				
				
				

ΚΑΛΗ ΕΠΙΤΥΧΙΑ!