

Όνομα:

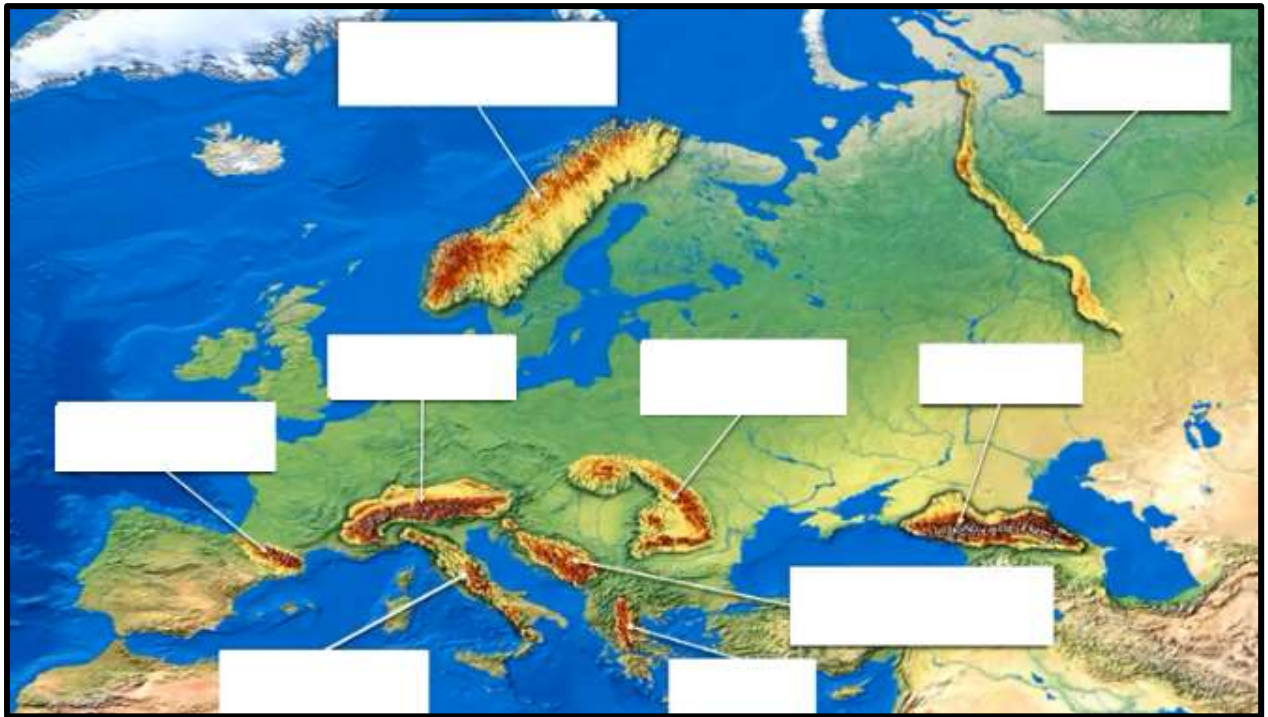
Ημερομηνία:

ΣΤ΄ ΤΑΞΗ

ΚΑΤΑΚΟΡΥΦΟΣ ΔΙΑΜΕΛΙΣΜΟΣ ΕΥΡΩΠΗΣ

Δάσκαλος: Αναστασιάδης Χαράλαμπος

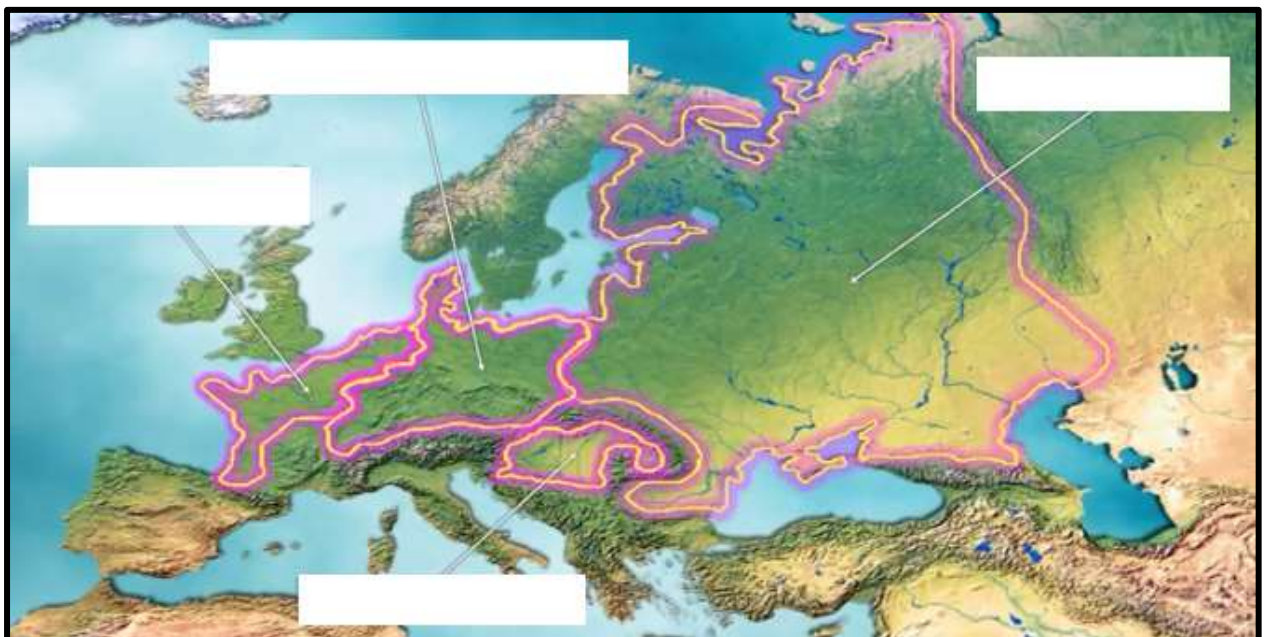
ΒΟΥΝΑ ΕΥΡΩΠΗΣ



Τοποθέτησε τα βουνά της Ευρώπης:

- | | | |
|----------------|-----------------|----------------------|
| α. Πυρηναία | δ. Απέννινα Όρη | ζ. Πίνδος |
| β. Ουράλια Όρη | ε. Καρπάθια Όρη | η. Δειναρικές Άλπεις |
| γ. Άλπεις | στ. Καύκασος | θ. Σκανδιναβικά Όρη |

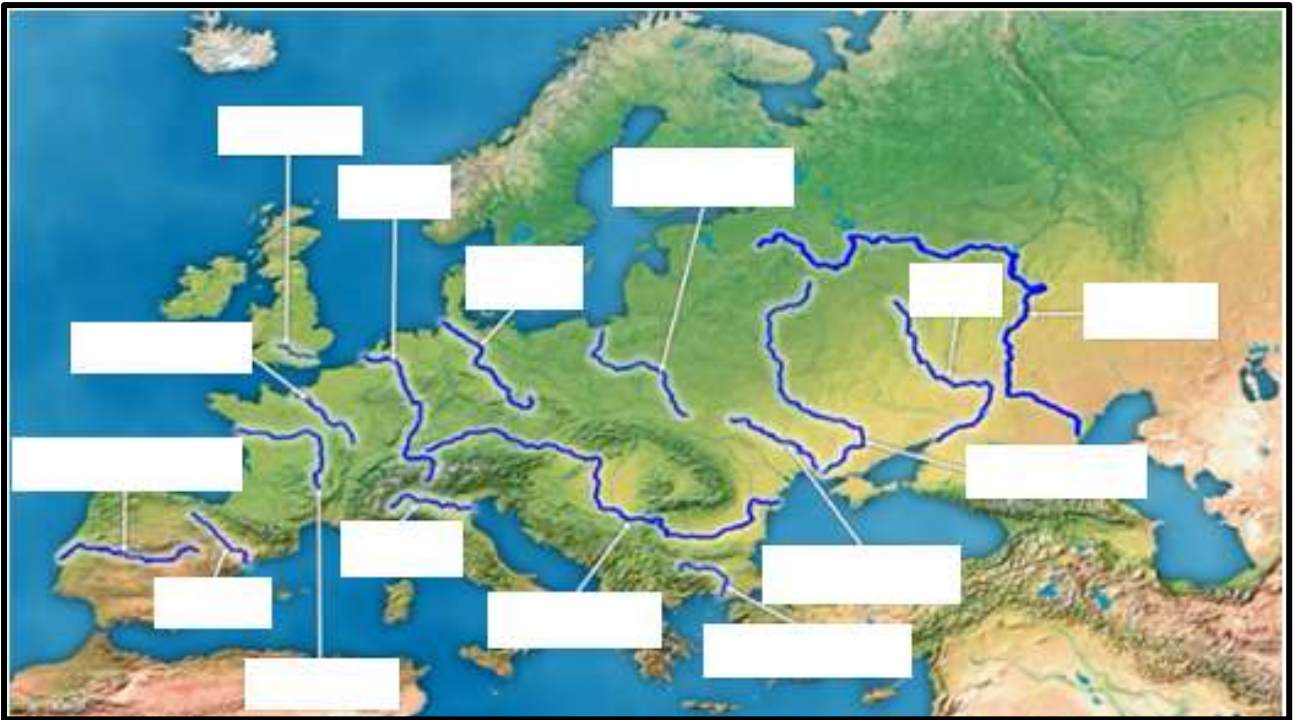
ΠΕΔΙΑΔΕΣ ΕΥΡΩΠΗΣ



Τοποθέτησε τις πεδιάδες της Ευρώπης:

- | | | | |
|-----------|------------|--------------------|-------------|
| α. Ρωσική | β. Γαλλική | γ. Γερμανοπολωνική | δ. Ουγγρική |
|-----------|------------|--------------------|-------------|

ΠΟΤΑΜΙΑ ΕΥΡΩΠΗΣ



Τοποθέτησε τα ποτάμια της Ευρώπης:

- | | | |
|---------------|-------------------|-------------------|
| 1. Δούναβης | 6. Σηκουάνας | 11. Τάμεσης |
| 2. Βιστούλας | 7. Βόλγας | 12. Ρήνος |
| 3. Τάγος | 8. Λίγηρας | 13. Πάδος |
| 4. Δνείπερος | 9. Έβρος Ισπανίας | 14. Έβρος Ελλάδος |
| 5. Δνείστερος | 10. Έλβας | 15. Ντον |

Διαλέγω τη σωστή απάντηση:

- Η Ευρώπη με βάση τη μορφολογία της χωρίζεται σε:
α. τέσσερις περιοχές **β.** τρεις περιοχές
- Σ' αυτή την περιοχή της Ευρώπης τα βουνά είναι χαμηλά:
α. Ανατολική **β.** Νότια **γ.** Βόρεια και Κεντροδυτική
- Σ' αυτή την περιοχή της Ευρώπης υπάρχουν μεγάλες πεδιάδες:
α. Ανατολική **β.** Νότια **γ.** Βόρεια και Κεντροδυτική
- Σ' αυτή την περιοχή της Ευρώπης το υψόμετρο σπάνια ξεπερνά το 100 μέτρα:
α. Ανατολική **β.** Νότια **γ.** Βόρεια και Κεντροδυτική
- Σ' αυτή την περιοχή της Ευρώπης δεν υπάρχουν μεγάλα ποτάμια;
α. Ανατολική **β.** Νότια **γ.** Βόρεια και Κεντροδυτική

ΚΑΛΗ ΕΠΙΤΥΧΙΑ!