

Κρούσεις**1^ο ΘΕΜΑ****A. Ερωτήσεις πολλαπλής επιλογής**

Στην παρακάτω ερώτηση να γράψετε στο τετράδιό σας τον αριθμό της ερώτησης και δίπλα το γράμμα που αντιστοιχεί στη σωστή απάντηση.

1. Σε κάθε κρούση ισχύει

- α. η αρχή διατήρησης της μηχανικής ενέργειας.
 γ. η αρχή διατήρησης του ηλεκτρικού φορτίου.

- β. η αρχή διατήρησης της ορμής.
 δ. όλες οι παραπάνω αρχές.

Εσπερ. 2002

2. Κατά την κεντρική ανελαστική κρούση δύο σφαιρών (οι οποίες κατά τη διάρκεια της κρούσης αποτελούν μονωμένο σύστημα), διατηρείται σταθερή

- α. η κινητική ενέργεια κάθε σφαίρας.
 β. η κινητική ενέργεια του συστήματος των δύο σφαιρών.
 γ. η ορμή κάθε σφαίρας.
 δ. η ορμή του συστήματος των δύο σφαιρών.

Ομογ. 2002

3. Μια κρούση λέγεται πλάγια όταν

- α. δεν ικανοποιεί την αρχή διατήρησης της ορμής.
 β. δεν ικανοποιεί την αρχή διατήρησης της ενέργειας.
 γ. οι ταχύτητες των κέντρων μάζας των σωμάτων πριν από την κρούση έχουν τυχαία διεύθυνση.
 δ. οι ταχύτητες των κέντρων μάζας των σωμάτων πριν από την κρούση είναι παράλληλες.

Ημερ. 2005

4. Σε μια κρούση δύο σφαιρών

- α. το άθροισμα των κινητικών ενεργειών των σφαιρών πριν από την κρούση είναι πάντα ίσο με το άθροισμα των κινητικών ενεργειών τους μετά από την κρούση.
 β. οι διευθύνσεις των ταχυτήτων των σφαιρών πριν και μετά από την κρούση βρίσκονται πάντα στην ίδια ευθεία.
 γ. το άθροισμα των ορμών των σφαιρών πριν από την κρούση είναι πάντα ίσο με το άθροισμα των ορμών τους μετά από την κρούση.
 δ. το άθροισμα των ταχυτήτων των σφαιρών πριν από την κρούση είναι πάντα ίσο με το άθροισμα των ταχυτήτων τους μετά από την κρούση.

Εσπερ. 2006

5. Σε μια ελαστική κρούση δεν διατηρείται

- α. η ολική κινητική ενέργεια του συστήματος.
 γ. η μηχανική ενέργεια του συστήματος.

- β. η ορμή του συστήματος.
 δ. η κινητική ενέργεια κάθε σώματος.

Ημερ. 2007

6. Μια ανελαστική κρούση μεταξύ δύο σωμάτων χαρακτηρίζεται ως πλαστική όταν

- α. η ορμή του συστήματος δεν διατηρείται.
- β. τα σώματα μετά την κρούση κινούνται χωριστά.
- γ. η ολική κινητική ενέργεια του συστήματος διατηρείται.
- δ. οδηγεί στη συγκόλληση των σωμάτων, δηλαδή στη δημιουργία συσσωματώματος.

Ομογ. 2007

7. Σώμα μάζας m κινείται οριζόντια με ταχύτητα μέτρου v . Στην πορεία συγκρούεται μετωπικά με άλλο σώμα και επιστρέφει κινούμενο με ταχύτητα μέτρου $2v$. Το μέτρο της μεταβολής της ορμής του είναι

- α. 0.
- β. mv .
- γ. $2mv$.
- δ. $3mv$.

Επαν. Ημερ. 2007

8. Η κρούση στην οποία διατηρείται η κινητική ενέργεια του συστήματος των συγκρουόμενων σωμάτων, ονομάζεται

- α. ελαστική
- β. ανελαστική
- γ. πλαστική
- δ. έκκεντρη

Ημερ. 2008

9. Σε μια ελαστική κρούση δύο σωμάτων

- α. ένα μέρος της κινητικής ενέργειας μετατρέπεται σε θερμική.
- β. η ορμή κάθε σώματος παραμένει σταθερή.
- γ. η κινητική ενέργεια του συστήματος παραμένει σταθερή.
- δ. η κινητική ενέργεια του συστήματος ελαττώνεται.

Εσπερ. 2008

10. Σε κάθε κρούση

- α. η συνολική ορμή του συστήματος των συγκρουόμενων σωμάτων διατηρείται.
- β. η συνολική κινητική ενέργεια του συστήματος παραμένει σταθερή.
- γ. η μηχανική ενέργεια κάθε σώματος παραμένει σταθερή.
- δ. η ορμή κάθε σώματος διατηρείται σταθερή.

Επαν. Ημερ. 2008

11. Η ανελαστική κρούση μεταξύ δύο σφαιρών

- α. είναι πάντα μη κεντρική.
- β. είναι πάντα πλαστική.
- γ. είναι πάντα κεντρική.
- δ. είναι κρούση, στην οποία πάντα μέρος της κινητικής ενέργειας των δύο σφαιρών μετατρέπεται σε θερμότητα.

Επαν. Ημερ. 2009

12. Έκκεντρη ονομάζεται η κρούση κατά την οποία οι ταχύτητες των κέντρων μάζας των δύο συγκρουόμενων σωμάτων είναι μεταξύ τους

- α. κάθετες.
- β. παράλληλες.
- γ. ίσες.
- δ. σε τυχαίες διευθύνσεις.

Εσπερ. 2010

13. Όταν μια μικρή σφαίρα προσπίπτει πλάγια σε κατακόρυφο τοίχο και συγκρούεται με αυτόν ελαστικά, τότε

- α.** η κινητική ενέργεια της σφαίρας πριν την κρούση είναι μεγαλύτερη από την κινητική ενέργεια που έχει μετά την κρούση.
- β.** η ορμή της σφαίρας δεν μεταβάλλεται κατά την κρούση.
- γ.** η γωνία πρόσπτωσης της σφαίρας είναι ίση με τη γωνία ανάκλασης.
- δ.** η δύναμη που ασκεί ο τοίχος στη σφαίρα έχει την ίδια διεύθυνση με την αρχική ταχύτητα της σφαίρας.

Επαν. Ημερ. 2010

14. Στην ανελαστική κρούση μεταξύ δύο σφαιρών διατηρείται

- α.** η ορμή κάθε σφαίρας.
- β.** η ορμή του συστήματος.
- γ.** η μηχανική ενέργεια του συστήματος.
- δ.** η κινητική ενέργεια του συστήματος.

Επαν. Εσπερ. 2010

15. Σε μία πλαστική κρούση

- α.** δε διατηρείται η ορμή.
- β.** η τελική κινητική ενέργεια του συστήματος είναι μεγαλύτερη της αρχικής.
- γ.** η κινητική ενέργεια του συστήματος διατηρείται.
- δ.** η αρχική κινητική ενέργεια του συστήματος είναι μεγαλύτερη της τελικής.

Επαν. Ημερ. 2011

16. Σφαίρα, μάζας m_1 , κινούμενη με ταχύτητα \vec{v}_1 , συγκρούεται μετωπικά και ελαστικά με ακίνητη σφαίρα μάζας m_2 . Οι ταχύτητες \vec{v}'_1 και \vec{v}'_2 των σφαιρών μετά την κρούση

- α.** έχουν πάντα την ίδια φορά.
- β.** σχηματίζουν μεταξύ τους γωνία 90° .
- γ.** έχουν πάντα αντίθετη φορά.
- δ.** έχουν πάντα την ίδια διεύθυνση.

Επαν. Ημερ. 2012

17. Σε μία ελαστική κρούση

- α.** η ορμή και η ενέργεια του συστήματος των σωμάτων διατηρούνται σταθερές.
- β.** η ορμή του συστήματος των σωμάτων αυξάνεται ενώ η ολική ενέργεια του συστήματος των σωμάτων μειώνεται.
- γ.** η ορμή του συστήματος των σωμάτων μειώνεται ενώ η ολική ενέργεια του συστήματος των σωμάτων αυξάνεται.
- δ.** η ορμή του συστήματος των σωμάτων παραμένει σταθερή ενώ η ολική ενέργεια του συστήματος των σωμάτων μειώνεται.

Ομογ. 2012

18. Κατά την πλαστική κρούση δύο σφαιρών

- α. διατηρείται η μηχανική ενέργεια του συστήματος των σφαιρών
- β. διατηρείται η ορμή του συστήματος των σφαιρών
- γ. αυξάνεται η μηχανική ενέργεια του συστήματος των σφαιρών
- δ. διατηρείται η μηχανική ενέργεια και η ορμή του συστήματος των σφαιρών.

Ημερ. 2013

19. Σφαίρα Σ₁ συγκρούεται μετωπικά και ελαστικά με ακίνητη σφαίρα Σ₂ τετραπλάσιας μάζας. Μετά την κρούση

- α. η σφαίρα Σ παραμένει ακίνητη.
- β. η σφαίρα Σ₁ συνεχίζει να κινείται στην ίδια κατεύθυνση.
- γ. όλη η κινητική ενέργεια της σφαίρας Σ₁ μεταφέρθηκε στη σφαίρα Σ₂.
- δ. ισχύει $\Delta\vec{p}_1 = -\Delta\vec{p}_2$, όπου $\Delta\vec{p}_1$, $\Delta\vec{p}_2$ οι μεταβολές των ορμών των δύο σφαιρών.

Επαν. Ημερ. 2014

20. Στην κεντρική ελαστική κρούση δύο σωμάτων

- α. διατηρείται μόνο η ορμή του συστήματος.
- β. διατηρείται μόνο η μηχανική ενέργεια του συστήματος.
- γ. διατηρείται και η ορμή και η μηχανική ενέργεια του συστήματος.
- δ. δεν διατηρείται ούτε η ορμή, ούτε η μηχανική ενέργεια του συστήματος.

Ομογ. 2014

21. Δύο σφαίρες Α και Β με ίσες μάζες, μία εκ των οποίων είναι ακίνητη, συγκρούονται κεντρικά και ελαστικά. Το ποσοστό της μεταβιβαζόμενης ενέργειας από τη σφαίρα που κινείται στην αρχικά ακίνητη σφαίρα είναι

- α. 100%.
- β. 50%.
- γ. 40%.
- δ. 0%.

Ημερ. 2015

22. Σφαίρα Α συγκρούεται μετωπικά και ελαστικά με ακίνητη σφαίρα Β μεγαλύτερης μάζας. Η ταχύτητα της σφαίρας Α μετά την κρούση

- α. θα είναι ίση με την ταχύτητα που είχε πριν την κρούση.
- β. θα μηδενισθεί.
- γ. θα έχει αντίθετη κατεύθυνση από την αρχική.
- δ. θα είναι ίση με την ταχύτητα που θα αποκτήσει η σφαίρα Β.

Ομογ. 2015

23. Κατά την πλαστική κρούση δύο σωμάτων ισχύει ότι:

- α) η μηχανική ενέργεια του συστήματος των δύο σωμάτων παραμένει σταθερή
- β) η μηχανική ενέργεια του συστήματος των δύο σωμάτων αυξάνεται
- γ) η κινητική ενέργεια του συστήματος των δύο σωμάτων παραμένει σταθερή
- δ) η ορμή του συστήματος των δύο σωμάτων παραμένει σταθερή.

Μονάδες 5

HMEP 2017

24. Δύο μικρά σώματα με μάζες m και 4m, που κινούνται στην ίδια ευθεία με αντίθετες κατευθύνσεις και ταχύτητες υ₁ και υ₂ αντίστοιχα, συγκρούονται μετωπικά και πλαστικά. Αν η χρονική διάρκεια της κρούσης είναι αμελητέα

και το συσσωμάτωμα ακινητοποιείται, τότε τα δύο σώματα πριν την κρούση είχαν

- α) αντίθετες ταχύτητες
- β) ίσες ορμές
- γ) αντίθετες ορμές
- δ) ίσες κινητικές ενέργειες.

Μονάδες 5

(2018)

B. Ερωτήσεις Σωστού – Λάθους

Για κάθε μια από τις επόμενες προτάσεις να μεταφέρετε στο τετράδιό σας το γράμμα της και δίπλα να γράψετε την ένδειξη (**Σ**), αν αυτή είναι **Σωστή**, ή (**Λ**), αν αυτή είναι **Λανθασμένη**.

1. Κατά την πλαστική κρούση δύο σωμάτων η μηχανική ενέργεια του συστήματος παραμένει σταθερή.
2. Έκκεντρη ονομάζεται η κρούση στην οποία οι ταχύτητες των κέντρων μάζας των σωμάτων που συγκρούονται είναι παράλληλες.
3. Όταν μια σφαίρα προσκρούει ελαστικά σε ένα τοίχο, τότε πάντα ισχύει $\vec{v}' = \vec{v}$ (\vec{v} η ταχύτητα της σφαίρας πριν την κρούση, \vec{v}' η ταχύτητα της σφαίρας μετά την κρούση).
4. Κατά τη πλαστική κρούση δύο σωμάτων πάντα ισχύει $\vec{p}_{\text{πριν}} = \vec{p}_{\text{μετά}}$ ($\vec{p}_{\text{πριν}}$ η ορμή του συστήματος πριν την κρούση, $\vec{p}_{\text{μετά}}$ η ορμή του συστήματος μετά την κρούση).
5. Κατά την κρούση δύο σωμάτων η κινητική ενέργεια του συστήματος πάντα διατηρείται.
6. Σώμα Α συγκρούεται ελαστικά και κεντρικά με ακίνητο αρχικά σώμα Β που έχει την ίδια μάζα με το Α. Τότε η ταχύτητα του Α μετά την κρούση μηδενίζεται.
7. Έκκεντρη ονομάζεται η κρούση αν οι ταχύτητες των σωμάτων βρίσκονται σε τυχαία διεύθυνση.
8. Σε κάθε κρούση ισχύει η αρχή διατήρησης της ενέργειας.
9. Στις ανελαστικές κρούσεις δεν διατηρείται η ορμή.
10. Όταν μια σφαίρα μικρής μάζας προσκρούει ελαστικά και κάθετα στην επιφάνεια ενός τοίχου, ανακλάται με ταχύτητα ίδιου μέτρου και αντίθετης φοράς από αυτή που είχε πριν από την κρούση.
11. Κρούση στο μικρόκοσμο ονομάζεται το φαινόμενο στο οποίο τα «συγκρουόμενα» σωματίδια αλληλεπιδρούν με σχετικά μεγάλες δυνάμεις για πολύ μικρό χρονικό διάστημα.
12. Μικρή σφαίρα, που κινείται ευθύγραμμα και ομαλά σε οριζόντιο επίπεδο, συγκρούεται ελαστικά και πλάγια με κατακόρυφο τοίχο. Στην περίπτωση αυτή η γωνία πρόσπτωσης της σφαίρας είναι ίση με τη γωνία ανάκλασης.
13. Μία ειδική περίπτωση ανελαστικής κρούσης είναι η πλαστική κρούση.
14. Σε μια πλαστική κρούση διατηρείται η μηχανική ενέργεια του συστήματος των συγκρουόμενων σωμάτων.
15. Σε μία πλαστική κρούση μεταξύ δύο σωμάτων η κινητική ενέργεια του συστήματος διατηρείται.

16. Κατά την ελαστική κρούση μεταξύ δύο σφαιρών ελαττώνεται η κινητική ενέργεια του συστήματος των σφαιρών.
17. Κατά την πλαστική κρούση δύο σωμάτων η μηχανική ενέργεια του συστήματος παραμένει σταθερή.
18. Στην ελαστική κρούση δύο σφαιρών η κινητική ενέργεια του συστήματος ελαττώνεται.
19. Η ορμή ενός μονωμένου συστήματος σωμάτων δεν διατηρείται κατά τη διάρκεια μιας ανελαστικής κρούσης.
20. Στις μη κεντρικές κρούσεις δεν ισχύει η αρχή διατήρησης της ορμής για το συγκρουόμενο σύστημα σωμάτων.
21. Έκκεντρη ονομάζεται η κρούση κατά την οποία οι ταχύτητες των κέντρων μάζας των δύο σωμάτων που συγκρούονται είναι παράλληλες αλλά μη συγγραμμικές.
22. Κατά την κεντρική ελαστική κρούση δύο σφαιρών, οι οποίες έχουν ίσες μάζες, οι σφαίρες ανταλλάσσουν ταχύτητες.
23. Σε κάθε κρούση η κινητική ενέργεια του συστήματος παραμένει σταθερή.
24. Σκέδαση ονομάζεται κάθε φαινόμενο του μικρόκοσμου στο οποίο τα «συγκρουόμενα» σωματίδια αλληλεπιδρούν με σχετικά μικρές δυνάμεις για πολύ μικρό χρόνο.
25. Σε μια κρούση αμελητέας χρονικής διάρκειας η δυναμική ενέργεια των σωμάτων, που εξαρτάται από τη θέση τους στο χώρο, δεν μεταβάλλεται.
26. Κατά την πλαστική κρούση δύο σωμάτων, η μηχανική ενέργεια του συστήματος παραμένει σταθερή.

Γ. Ερωτήσεις συμπλήρωσης κενού

Να γράψετε στο τετράδιό σας το γράμμα της πρότασης και δίπλα τη λέξη που τη συμπληρώνει σωστά.

1. Η κρούση στην οποία οι ταχύτητες των κέντρων μάζας των σωμάτων που συγκρούονται είναι παράλληλες ονομάζεται

Επαν. Ημερ. 2003

2^ο ΘΕΜΑ

1. Σφαίρα μάζας m κινούμενη με ταχύτητα μέτρου v_1 συγκρούεται κεντρικά και ελαστικά με ακίνητη σφαίρα ίσης μάζας. Να βρείτε τις σχέσεις που δίνουν τις ταχύτητες των δύο σφαιρών, μετά την κρούση, με εφαρμογή των αρχών που διέπουν την ελαστική κρούση.

Ημερ. 2002

2. Σφαίρα Α που κινείται σε λείο οριζόντιο επίπεδο συγκρούεται κεντρικά και πλαστικά με άλλη όμοια αλλά ακίνητη σφαίρα Β που βρίσκεται στο ίδιο επίπεδο. Να αποδείξετε ότι η κινητική ενέργεια

του συσσωματώματος μετά την κρούση είναι ίση με το μισό της κινητικής ενέργειας της σφαίρας Α, πριν από την κρούση.

Ημερ. 2003

3. Σώμα μάζας m κινείται οριζόντια με ταχύτητα μέτρου v_1 . Το σώμα συγκρούεται με κατακόρυφο τοίχο και ανακλάται με ταχύτητα μέτρου v_2 όπου $v_2 < v_1$. Η κρούση είναι :

α. Ελαστική. **β.** Ανελαστική.

Ποια από τις δύο περιπτώσεις είναι η σωστή;

Να δικαιολογήσετε την απάντησή σας.

Ομογ. 2003

4. Μια μικρή σφαίρα μάζας m_1 συγκρούεται μετωπικά και ελαστικά με ακίνητη μικρή σφαίρα μάζας m_2 . Μετά την κρούση οι σφαίρες κινούνται με αντίθετες ταχύτητες ίσων μέτρων. Ο λόγος των μαζών

$\frac{m_1}{m_2}$ των δύο σφαιρών είναι

α. 1. **β.** $\frac{1}{3}$. **γ.** $\frac{1}{2}$.

Να αιτιολογήσετε την απάντησή σας.

Ημερ. 2004

5. Σφαίρα Α μάζας m_A συγκρούεται κεντρικά και ελαστικά με δεύτερη ακίνητη σφαίρα Β μάζας m_B . Το ποσοστό της μηχανικής ενέργειας που έχει μεταφερθεί από την Α στη Β μετά την κρούση γίνεται μέγιστο όταν:

α. $m_A = m_B$ **β.** $m_A < m_B$ **γ.** $m_A > m_B$

Να αιτιολογήσετε την απάντησή σας.

Επαν. Ημερ. 2004

6. Σε μετωπική κρούση δύο σωμάτων Α και Β που έχουν μάζες m και $2m$, αντίστοιχα, δημιουργείται συσσωμάτωμα που παραμένει ακίνητο στο σημείο της σύγκρουσης. Ο λόγος των μέτρων των ορμών των δύο σωμάτων πριν από την κρούση, είναι

α. $\frac{1}{2}$. **β.** 2. **γ.** 1.

Να δικαιολογήσετε την επιλογή σας.

Ομογ. 2004

7. Σώμα μάζας m , το οποίο έχει κινητική ενέργεια K , συγκρούεται πλαστικά με σώμα μάζας $4m$. Μετά την κρούση, το συσσωμάτωμα μένει ακίνητο. Η μηχανική ενέργεια που χάθηκε κατά την κρούση, είναι

- α. $\frac{5}{4}K$. β. K . γ. $\frac{7}{4}K$.

Να αιτιολογήσετε την απάντησή σας.

Επαν. Ημερ. 2005

8. Σώμα μάζας m που κινείται με ταχύτητα v συγκρούεται κεντρικά και πλαστικά με ακίνητο σώμα διπλάσιας μάζας. Η ταχύτητα του συσσωματώματος μετά την κρούση έχει μέτρο

- α. $2v$. β. $\frac{v}{2}$. γ. $\frac{v}{3}$.

Να δικαιολογήσετε την απάντησή σας.

Εσπερ. 2005

9. Σφαίρα Σ_1 κινούμενη προς ακίνητη σφαίρα Σ_2 , ίσης μάζας με την Σ_1 , συγκρούεται μετωπικά και ελαστικά με αυτήν. Το ποσοστό της αρχικής κινητικής ενέργειας της Σ_1 που μεταβιβάζεται στη Σ_2 κατά την κρούση είναι

- α. 50%. β. 100%. γ. 75%.

Να αιτιολογήσετε την απάντησή σας.

Επαν. Ημερ. 2006

10. Ένα αυτοκίνητο Α μάζας M βρίσκεται σταματημένο σε κόκκινο φανάρι. Ένα άλλο αυτοκίνητο Β μάζας m , ο οδηγός του οποίου είναι απρόσεκτος, πέφτει στο πίσω μέρος του αυτοκινήτου Α. Η κρούση

θεωρείται κεντρική και πλαστική. Αν αμέσως μετά την κρούση το συσσωμάτωμα έχει το $\frac{1}{3}$ της

κινητικής ενέργειας που είχε αμέσως πριν την κρούση, τότε θα ισχύει:

- α. $\frac{m}{M} = \frac{1}{6}$. β. $\frac{m}{M} = \frac{1}{2}$. γ. $\frac{m}{M} = \frac{1}{3}$.

Να αιτιολογήσετε την απάντησή σας.

Ημερ. 2007

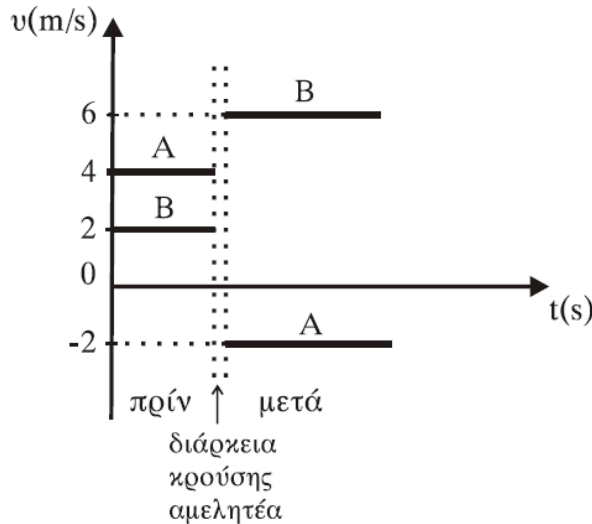
11. Δύο σώματα Α και Β, με μάζες $3m$ και m αντίστοιχα, βρίσκονται ακίνητα πάνω σε λείο οριζόντιο επίπεδο. Δίνουμε στο σώμα Β αρχική ταχύτητα v έτσι ώστε να συγκρουστεί κεντρικά και ελαστικά με το ακίνητο σώμα Α. Ποια είναι η ταχύτητα του σώματος Β μετά την κρούση;

- α. $-\frac{v}{2}$. β. $\frac{v}{2}$. γ. $\frac{v}{4}$.

Να επιλέξετε το γράμμα που αντιστοιχεί στη σωστή απάντηση. Να δικαιολογήσετε την επιλογή σας.

Ομογ. 2007

12. Δύο σώματα Α και Β με μάζες m_A και m_B , αντίστοιχα, συγκρούονται μετωπικά. Οι ταχύτητές τους πριν και μετά την κρούση, σε συνάρτηση με το χρόνο φαίνονται στο παρακάτω διάγραμμα.



Ο λόγος των μαζών m_A και m_B είναι

α. $\frac{m_A}{m_B} = \frac{3}{5}$. β. $\frac{m_A}{m_B} = \frac{1}{2}$. γ. $\frac{m_A}{m_B} = \frac{2}{3}$. δ. $\frac{m_A}{m_B} = \frac{3}{2}$.

Να αιτιολογήσετε την απάντησή σας.

Επαν. Ημερ. 2007

13. Ακίνητο σώμα Σ μάζας M βρίσκεται πάνω σε λείο οριζόντιο επίπεδο. Βλήμα μάζας m κινείται οριζόντια με ταχύτητα $v = 100 \frac{m}{s}$ σε διεύθυνση που διέρχεται από το κέντρο μάζας του σώματος Σ και σφηνώνεται σ' αυτό. Αν η ταχύτητα του συσσωματώματος αμέσως μετά την κρούση είναι $V = 2$

$\frac{m}{s}$, τότε ο λόγος των μαζών $\frac{M}{m}$ είναι ίσος με

α. 50. β. $\frac{1}{25}$. γ. 49.

Να επιλέξετε το γράμμα που αντιστοιχεί στη σωστή απάντηση. Να δικαιολογήσετε την επιλογή σας.

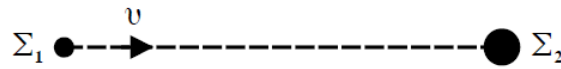
Ομογ. 2008

14. Σώμα μάζας m_A κινείται σε λείο οριζόντιο επίπεδο με ταχύτητα μέτρου v_A και συγκρούεται κεντρικά και πλαστικά με ακίνητο σώμα μάζας $m_B = 2m_A$. Η μεταβολή της κινητικής ενέργειας του συστήματος των δύο σωμάτων, η οποία παρατηρήθηκε κατά την κρούση, είναι

α. $\Delta K = -\frac{m_A v_A^2}{6}$. β. $\Delta K = -\frac{m_A v_A^2}{3}$. γ. $\Delta K = -\frac{2m_A v_A^2}{3}$

Να δικαιολογήσετε την επιλογή σας.

15. Μικρό σώμα Σ_1 μάζας m που κινείται με ταχύτητα v συγκρούεται κεντρικά με αρχικά ακίνητο μικρό σώμα Σ_2 μάζας $2m$.



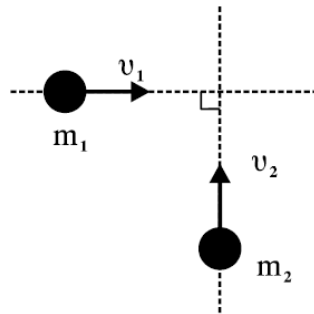
Μετά την κρούση το σώμα Σ_1 παραμένει ακίνητο. Μετά την κρούση η κινητική ενέργεια του συστήματος των δύο σωμάτων

- α. αυξήθηκε. β. παρέμεινε η ίδια. γ. ελαττώθηκε.

Να αιτιολογήσετε την απάντησή σας.

Εσπερ. 2009

16. Δύο σώματα με μάζες $m_1=2\text{kg}$ και $m_2=3\text{kg}$ κινούνται χωρίς τριβές στο ίδιο οριζόντιο επίπεδο και σε κάθετες διευθύνσεις με ταχύτητες $v_1=4\frac{m}{s}$ και $v_2=2\frac{m}{s}$ (όπως στο σχήμα) και συγκρούονται πλαστικά.



Η κινητική ενέργεια του συσσωματώματος είναι

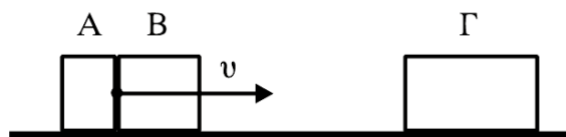
- α. 5 J. β. 10 J. γ. 20 J.

Να επιλέξετε τη σωστή απάντηση.

Να δικαιολογήσετε την επιλογή σας.

Ημερ. 2010

17. Δύο σώματα, το Α με μάζα m_1 και το Β με μάζα m_2 , είναι διαρκώς σε επαφή και κινούνται σε λείο οριζόντιο επίπεδο με την ίδια ταχύτητα v . Τα σώματα συγκρούονται κεντρικά με σώμα Γ μάζας $4m_1$, το οποίο αρχικά είναι ακίνητο.



Μετά την κρούση το Α σταματά, ενώ το Β κολλάει στο Γ και το συσσωμάτωμα αυτό κινείται με ταχύτητα $v/3$. Τότε θα ισχύει:

α. $\frac{m_1}{m_2} = 2$.

β. $\frac{m_1}{m_2} = \frac{1}{2}$.

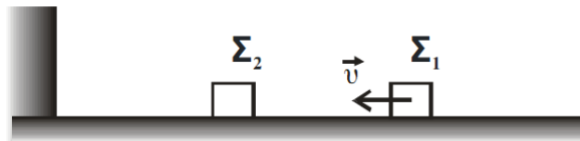
γ. $\frac{m_1}{m_2} = 1$.

Να επιλέξετε τη σωστή απάντηση.

Να δικαιολογήσετε την επιλογή σας.

Ημερ. 2011

18. Στο παρακάτω σχήμα



τα δύο σώματα Σ_1 και Σ_2 είναι όμοια, το δάπεδο είναι λείο και οριζόντιο και το κατακόρυφο τοίχωμα είναι λείο και ακλόνητο. Το Σ_2 είναι αρχικά ακίνητο και το Σ_1 κινείται προς το Σ_2 με ταχύτητα v . Οι κρούσεις μεταξύ των Σ_1 και Σ_2 είναι κεντρικές και ελαστικές και η κρούση του Σ_2 με το τοίχωμα είναι ελαστική. Μετά από όλες τις κρούσεις που θα μεσολαβήσουν

α. το Σ_1 κινείται με ταχύτητα $-\bar{v}$, ενώ το Σ_2 είναι ακίνητο.

β. τα Σ_1 και Σ_2 κινούνται με ταχύτητα $-\frac{\bar{v}}{2}$.


γ. το Σ_1 ακινητοποιείται, ενώ το Σ_2 κινείται με ταχύτητα $2\bar{v}$.

Να επιλέξετε τη σωστή απάντηση.

Να δικαιολογήσετε την επιλογή σας.

Ομογ. 2011

19. Ανάμεσα σε δύο παράλληλους τοίχους ΑΓ και ΒΔ, υπάρχει λείο οριζόντιο δάπεδο. Τα ευθύγραμμα τμήματα ΑΒ και ΓΔ είναι κάθετα στους τοίχους. Σφαίρα Σ_1 κινείται πάνω στο δάπεδο, με σταθερή ταχύτητα, μέτρου v , παράλληλη στους τοίχους και καλύπτει τη διαδρομή από το ΑΒ μέχρι το ΓΔ σε χρόνο t_1 . Στη συνέχεια δεύτερη σφαίρα Σ_2 που έχει ταχύτητα μέτρου v συγκρούεται ελαστικά με τον ένα τοίχο υπό γωνία $\varphi = 60^\circ$ και ύστερα από διαδοχικές ελαστικές κρούσεις με τους τοίχους, καλύπτει τη διαδρομή από το ΑΒ μέχρι το ΓΔ σε χρόνο t_2 . Οι σφαίρες εκτελούν μόνο μεταφορική κίνηση.



Τότε θα ισχύει:

α. $t_2 = 2t_1$.

β. $t_2 = 4t_1$.

γ. $t_2 = 8t_1$.

Να επιλέξετε τη σωστή πρόταση

Να δικαιολογήσετε την επιλογή σας

Δίνονται: $\eta\mu 60^\circ = \frac{\sqrt{3}}{2}$, $\sigma\upsilon\nu 60^\circ = \frac{1}{2}$.

Ημερ. 2012

20. Σφαίρα μάζας m_1 κινείται έχοντας κινητική ενέργεια K_1 και συγκρούεται πλαστικά με σφαίρα μάζας $m_2 = 3m_1$, η οποία είναι αρχικά ακίνητη. Η μηχανική ενέργεια που χάθηκε κατά την κρούση είναι ίση με:

α. $\frac{3}{4} K_1$.

β. $\frac{1}{4} K_1$.

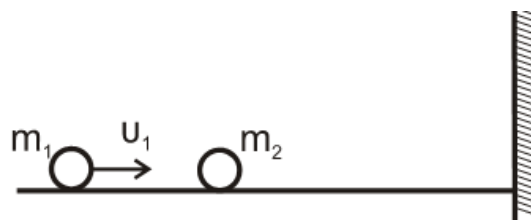
γ. $\frac{1}{2} K_1$.

Να επιλέξετε τη σωστή πρόταση

Να δικαιολογήσετε την επιλογή σας

Ομογ. 2013

21. Σε λείο οριζόντιο επίπεδο και σε διεύθυνση κάθετη σε κατακόρυφο τοίχο κινείται σφαίρα μάζας m_1 με ταχύτητα μέτρου v_1 . Κάποια χρονική στιγμή η σφαίρα μάζας m_1 συγκρούεται κεντρικά και ελαστικά με ακίνητη σφαίρα μάζας m_2 ($m_2 > m_1$). Μετά την κρούση με τη μάζα m_1 , η m_2 συγκρούεται ελαστικά με τον τοίχο.



Παρατηρούμε ότι η απόσταση των μαζών m_1 και m_2 , μετά την κρούση της m_2 με τον τοίχο, παραμένει σταθερή. Ο λόγος των μαζών $\frac{m_1}{m_2}$ είναι

α. 3.

β. $\frac{1}{2}$.

γ. $\frac{1}{3}$.

Να επιλέξετε τη σωστή πρόταση

Να δικαιολογήσετε την επιλογή σας

Ημερ. 2014

22. Σώμα μάζας m_1 με κινητική ενέργεια K_1 συγκρούεται κεντρικά και πλαστικά με αρχικά ακίνητο σώμα μάζας $m_2 = 3m_1$. Το ποσοστό απωλειών της κινητικής ενέργειας κατά την κρούση είναι

α. 75%.

β. 50%.

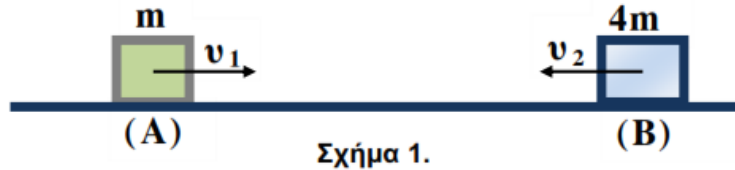
γ. 64%.

Να επιλέξετε τη σωστή πρόταση

Να δικαιολογήσετε την επιλογή σας

Εσπερ. 2014

23.



Δύο σώματα **A** και **B** με μάζες m και $4m$ αντίστοιχα, κινούνται πάνω στην ίδια ευθεία με αντίθετη φορά, όπως φαίνεται στο Σχήμα 1. Τα δύο σώματα έχουν ίσες κινητικές ενέργειες και συγκρούονται μετωπικά και πλαστικά. Αν v_1 είναι το μέτρο της ταχύτητας του σώματος και V το μέτρο της ταχύτητας του συσσωματώματος που δημιουργείται μετά την κρούση, τότε:

i. $V = \frac{v_1}{5}$.

ii. $V = \frac{2v_1}{5}$.

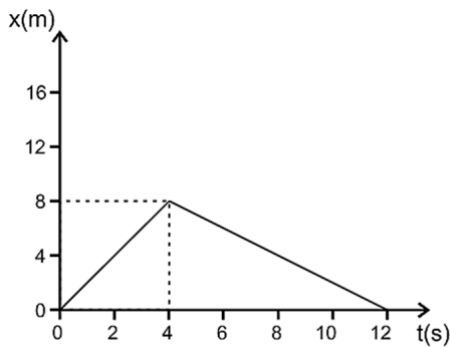
iii. $V = \frac{3v_1}{5}$.

Να επιλέξετε τη σωστή πρόταση.

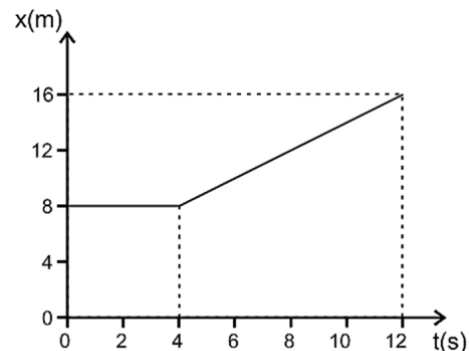
Να δικαιολογήσετε την επιλογή σας.

Ομογ. 2014

24. Δύο σώματα αμελητέων διαστάσεων με μάζες m_1 και m_2 συγκρούονται κεντρικά σε λείο οριζόντιο επίπεδο. Η θέση x κάθε σώματος στην ευθεία γραμμή, που τα ενώνει, μετρείται από κοινή αρχή. Η γραφική παράσταση της θέσης του σώματος m_1 φαίνεται στο Σχήμα 4 και του σώματος m_2 στο Σχήμα 5. Δίνεται ότι $m_1 = 1 \text{ kg}$ και ότι η διάρκεια της επαφής των δύο σωμάτων κατά την κεντρική κρούση είναι αμελητέα.



Σχήμα 4



Σχήμα 5

Η κρούση των δύο σωμάτων είναι

i. ελαστική.

ii. ανελαστική.

iii. πλαστική.

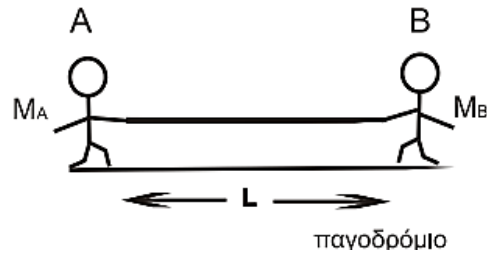
α. Να επιλέξετε τη σωστή απάντηση

β. Να δικαιολογήσετε την επιλογή σας

Επαν. Ημερ. 2015

25. Δύο μαθητές **A** και **B**, με μάζες M_A και M_B ($M_A < M_B$), στέκονται αρχικά ακίνητοι πάνω στο λείο οριζόντιο επίπεδο ενός παγοδρομίου, όπως φαίνεται στο παρακάτω σχήμα. Οι δύο μαθητές

κρατάνε τις άκρες ενός σχοινιού σταθερού μήκους L . Κάποια στιγμή οι μαθητές αρχίζουν να μαζεύουν ταυτόχρονα το σχοινί και κινούνται στην ίδια ευθεία. Μετά από κάποιο χρονικό διάστημα οι μαθητές αγκαλιάζονται και παραμένουν αγκαλιασμένοι.



Οι αγκαλιασμένοι μαθητές

i. θα κινηθούν προς τα αριστερά.

ii. θα κινηθούν προς τα δεξιά.

iii. θα παραμείνουν ακίνητοι.

α. Να επιλέξετε τη σωστή απάντηση

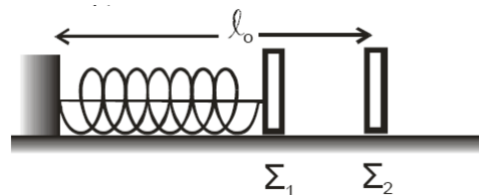
β. Να δικαιολογήσετε την επιλογή σας

Επαν. Ημερ. 2016 (παλαιού τύπου)

3^ο ΘΕΜΑ

1. Τα σώματα Σ_1 και Σ_2 , αμελητέων διαστάσεων, με μάζες $m_1=1\text{kg}$ και $m_2=3\text{kg}$ αντίστοιχα είναι τοποθετημένα σε λείο οριζόντιο επίπεδο. Το σώμα Σ_1 είναι δεμένο στη μία άκρη οριζώντιου ιδανικού ελατηρίου σταθεράς $K=100 \frac{N}{m}$. Η άλλη άκρη του ελατηρίου, είναι ακλόνητα στερεωμένη.

Το ελατήριο με τη βοήθεια νήματος είναι συσπειρωμένο κατά $0,2\text{m}$, όπως φαίνεται στο σχήμα. Το Σ_2 ισορροπεί στο οριζόντιο επίπεδο στη θέση που αντιστοιχεί στο φυσικό μήκος ℓ_0 του ελατηρίου.



Κάποια χρονική στιγμή κόβουμε το νήμα και το σώμα Σ_1 κινούμενο προς τα δεξιά συγκρούεται κεντρικά και ελαστικά με το σώμα Σ_2 . Θεωρώντας ως αρχή μέτρησης των χρόνων τη στιγμή της κρούσης και ως θετική φορά κίνησης την προς τα δεξιά, να υπολογίσετε

α. την ταχύτητα του σώματος Σ_1 λίγο πριν την κρούση του με το σώμα Σ_2 .

β. τις ταχύτητες των σωμάτων Σ_1 και Σ_2 , αμέσως μετά την κρούση.

γ. την απομάκρυνση του σώματος Σ_1 , μετά την κρούση, σε συνάρτηση με το χρόνο.

δ. την απόσταση μεταξύ των σωμάτων Σ_1 και Σ_2 όταν το σώμα Σ_1 ακινητοποιείται στιγμιαία για δεύτερη φορά.

Δεχθείτε την κίνηση του σώματος Σ_1 τόσο πριν, όσο και μετά την κρούση ως απλή αρμονική ταλάντωση σταθεράς K .

Δίνεται $\pi=3,14$

Ημερ. 2006

2. Ένα σώμα Σ_1 με μάζα $m_1=1\text{kg}$ κινείται με ταχύτητα $v_1=10\frac{m}{s}$ σε λείο οριζόντιο επίπεδο και κατά μήκος του άξονα $x'x$, όπως φαίνεται στο σχήμα.

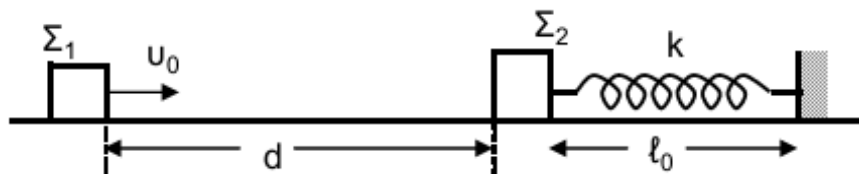


Το σώμα Σ_1 συγκρούεται κεντρικά και ελαστικά με ακίνητο σώμα Σ_2 μάζας $m_2=3\text{kg}$ που βρίσκεται στο ίδιο οριζόντιο επίπεδο με το Σ_1 . Η διάρκεια της κρούσης θεωρείται αμελητέα και η φορά της ταχύτητας v_1 θετική. Να υπολογίσετε:

- την ταχύτητα του Σ_1 μετά την κρούση.
- την ταχύτητα του Σ_2 μετά την κρούση.
- την κινητική ενέργεια του συστήματος των δύο σωμάτων μετά την κρούση τους.
- την αλγεβρική τιμή της μεταβολής της ορμής του σώματος Σ_1 , λόγω της κρούσης.

Ομογ. 2010

3. Σώμα Σ_1 με μάζα m_1 κινείται σε οριζόντιο επίπεδο ολισθαίνοντας προς άλλο σώμα Σ_2 με μάζα $m_2=2m_1$, το οποίο αρχικά είναι ακίνητο. Έστω v_0 η ταχύτητα που έχει το σώμα Σ_1 τη στιγμή $t_0=0$ και ενώ βρίσκεται σε απόσταση $d=1\text{m}$ από το σώμα Σ_2 . Αρχικά, θεωρούμε ότι το σώμα Σ_2 είναι ακίνητο πάνω στο επίπεδο δεμένο στο ένα άκρο οριζόντιου ιδανικού ελατηρίου με αμελητέα μάζα και σταθερά ελατηρίου k , και το οποίο έχει το φυσικό του μήκος ℓ_0 . Το δεύτερο άκρο του ελατηρίου είναι στερεωμένο σε ακλόνητο τοίχο, όπως φαίνεται στο σχήμα:



Αμέσως μετά την κρούση, που είναι κεντρική και ελαστική, το σώμα Σ_1 αποκτά ταχύτητα με μέτρο $v_1'=\sqrt{10}\text{m/s}$ και φορά αντίθετη της αρχικής ταχύτητας.

Δίνεται ότι ο συντελεστής τριβής ολίσθησης των δύο σωμάτων με το οριζόντιο επίπεδο είναι $\mu = 0,5$ και ότι η επιτάχυνση της βαρύτητας είναι $g = 10 \text{ m/s}^2$.

Γ1. Να υπολογίσετε την αρχική ταχύτητα v_0 του σώματος Σ_1 .

Γ2. Να υπολογίσετε το ποσοστό της κινητικής ενέργειας που μεταφέρθηκε από το σώμα Σ_1 στο σώμα Σ_2 κατά την κρούση.

Γ3. Να υπολογίσετε το συνολικό χρόνο κίνησης του σώματος Σ_1 από την αρχική χρονική στιγμή t_0 μέχρι να ακινητοποιηθεί τελικά.

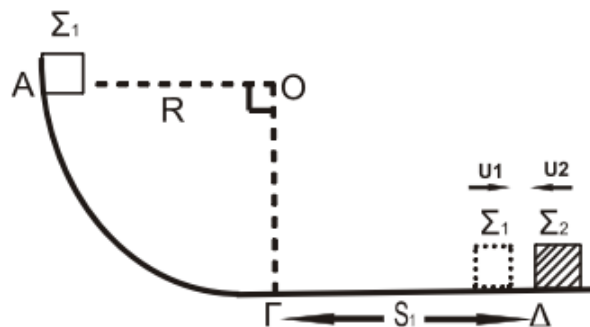
Δίνεται: $\sqrt{10} = 3,2$.

Γ4. Να υπολογίσετε τη μέγιστη συσπίρωση του ελατηρίου, αν δίνεται ότι $m_2 = 1 \text{ kg}$ και $k = 10^5 \text{ N/m}$.

Θεωρήστε ότι η χρονική διάρκεια της κρούσης είναι αμελητέα και τα δύο σώματα συγκρούονται μόνο μία φορά.

Ημερ. 2013

4. Σώμα Σ_1 μάζας m_1 βρίσκεται στο σημείο Α λείου κατακόρυφου τεταρτοκυκλίου (ΑΓ). Η ακτίνα ΟΑ είναι οριζόντια και ίση με $R = 5 \text{ m}$. Το σώμα αφήνεται να ολισθήσει κατά μήκος του τεταρτοκυκλίου. Φθάνοντας στο σημείο Γ του τεταρτοκυκλίου, το σώμα συνεχίζει την κίνησή του σε οριζόντιο επίπεδο με το οποίο εμφανίζει συντελεστή τριβής $\mu = 0,5$. Αφού διανύσει διάστημα $S_1 = 3,6 \text{ m}$, συγκρούεται κεντρικά και ελαστικά στο σημείο Δ με σώμα Σ_2 μάζας $m_2 = 3m_1$, το οποίο τη στιγμή της κρούσης κινείται αντίθετα ως προς το Σ_1 , με ταχύτητα μέτρου $v_2 = 4 \text{ m/s}$, όπως φαίνεται στο σχήμα.



Γ1. Να υπολογίσετε το μέτρο της ταχύτητας του σώματος Σ_1 στο σημείο Γ, όπου η ακτίνα ΟΓ είναι κατακόρυφη.

Γ2. Να υπολογίσετε τα μέτρα των ταχυτήτων των σωμάτων Σ_1 και Σ_2 αμέσως μετά την κρούση.

Γ3. Δίνεται η μάζα του σώματος Σ_2 , $m_2 = 3 \text{ kg}$. Να υπολογίσετε το μέτρο της μεταβολής της ορμής του σώματος Σ_2 κατά την κρούση και να προσδιορίσετε την κατεύθυνσή της.

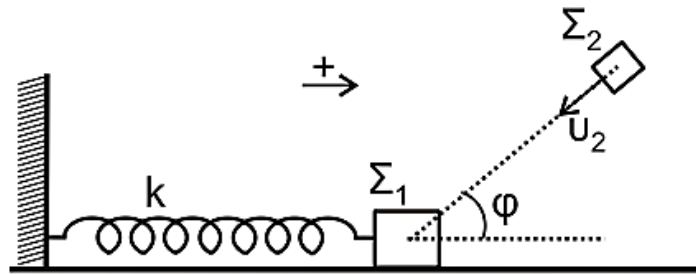
Γ4. Να υπολογίσετε το ποσοστό της μεταβολής της κινητικής ενέργειας του σώματος Σ_1 κατά την κρούση.

Δίνεται: η επιτάχυνση της βαρύτητας $g = 10\text{m/s}^2$.

Θεωρήστε ότι η χρονική διάρκεια της κρούσης είναι αμελητέα.

Ημερ. 2016

5. Σώμα Σ_1 , μάζας $m_1 = 1\text{ kg}$, είναι δεμένο στο άκρο οριζώντιου ιδανικού ελατηρίου σταθεράς $k = 100\text{ N/m}$. Το άλλο άκρο του ελατηρίου είναι ακλόνητα στερεωμένο. Το σώμα Σ_1 εκτελεί απλή αρμονική ταλάντωση, πλάτους $A = 0,4\text{ m}$, σε λείο οριζόντιο επίπεδο. Τη χρονική στιγμή που το σώμα Σ_1 έχει απομάκρυνση $x_1 = +\frac{A\sqrt{3}}{2}$ κινούμενο κατά τη θετική φορά, συγκρούεται πλαστικά με σώμα Σ_2 , μάζας $m_2 = 3\text{ kg}$. Το σώμα Σ_2 κινείται, λίγο πριν την κρούση, με ταχύτητα $v_2 = 8\text{ m/s}$ σε διεύθυνση που σχηματίζει γωνία φ (όπου $\sin\varphi = \frac{1}{3}$) με το οριζόντιο επίπεδο, όπως φαίνεται στο σχήμα. Το συσσωμάτωμα που προκύπτει μετά την κρούση, εκτελεί απλή αρμονική ταλάντωση.



Γ1. Να υπολογίσετε την ταχύτητα του σώματος Σ_1 λίγο πριν την κρούση και την ταχύτητα του συσσωματώματος, αμέσως μετά την κρούση.

Γ2. Να υπολογίσετε το πλάτος της ταλάντωσης του συσσωματώματος.

Γ3. Να εκφράσετε την κινητική ενέργεια του συσσωματώματος σε συνάρτηση με την απομάκρυνση. Να σχεδιάσετε (με στυλό) σε βαθμολογημένους άξονες την κινητική ενέργεια του συσσωματώματος σε συνάρτηση με την απομάκρυνση.

Γ4. Να υπολογίσετε το ποσοστό επί τοις εκατό (%) της κινητικής ενέργειας του συστήματος των σωμάτων Σ_1 και Σ_2 , ακριβώς πριν την κρούση που μετατράπηκε σε θερμότητα, κατά την κρούση.

Να θεωρήσετε ότι:

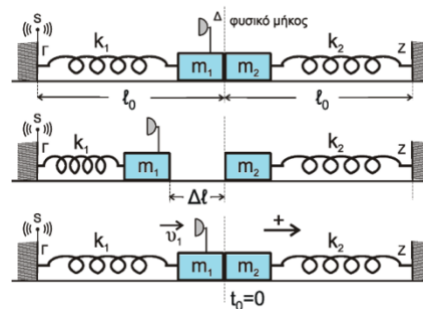
- η διάρκεια της κρούσης είναι αμελητέα.
- η θετική φορά είναι αυτή που φαίνεται στο σχήμα.

Επαν. Ημερ. 2016

6. Τα ιδανικά ελατήρια του σχήματος με σταθερές K_1 και K_2 ($K_1 = K_2 = k = 50\text{ N/m}$) έχουν το ένα άκρο τους στερεωμένο σε ακλόνητο σημείο (Γ και Z , αντίστοιχα). Στα ελεύθερα άκρα των ελατηρίων συνδέονται τα σώματα m_1 και m_2 με $m_1 = m_2 = 2\text{ kg}$.

Τα δύο σώματα αρχικά εφάπτονται μεταξύ τους και είναι ακίνητα. Τα ελατήρια βρίσκονται στο φυσικό τους μήκος και οι άξονές τους βρίσκονται στην ίδια ευθεία.

Στο άκρο Γ του ελατηρίου K_1 υπάρχει ακίνητη ηχητική πηγή S που εκπέμπει



συνεχώς ήχο συχνότητας f_s . Στο σώμα m_1 έχει τοποθετηθεί αβαρής σημειακός δέκτης ηχητικών κυμάτων Δ .

Εκτρέπουμε το σώμα m_1 από τη θέση ισορροπίας, συμπιέζοντας το ελατήριο K_1 κατά $\Delta l = 0,4 \text{ m}$ και το αφήνουμε ελεύθερο. Τη στιγμή που το σώμα m_1 διέρχεται από τη θέση ισορροπίας του συγκρούεται πλαστικά με το σώμα m_2 .

F1. Να υπολογίσετε το λόγο της συχνότητας f_1 του ήχου που καταγράφει ο δέκτης λίγο πριν την κρούση προς την αντίστοιχη συχνότητα f_2 που καταγράφει αμέσως μετά την κρούση.

Μονάδες 7

F2. Να δείξετε ότι το συσσωμάτωμα εκτελεί απλή αρμονική ταλάντωση με σταθερά επαναφοράς $D = 2k$ και να υπολογίσετε το πλάτος της ταλάντωσης.

Μονάδες 6

F3. Να υπολογίσετε σε πόσο χρόνο μετά την κρούση ο δέκτης καταγράφει για πρώτη φορά συχνότητα ίση με τη συχνότητα $\square\square$ που εκπέμπει η ηχητική πηγή.

Μονάδες 6

F4. Να υπολογίσετε το μέτρο του μέγιστου ρυθμού μεταβολής της ορμής του συσσωματώματος κατά τη διάρκεια της ταλάντωσης του.

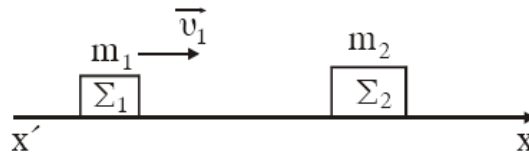
Μονάδες 6

Να θεωρήσετε :

- ότι κατά την κρούση τα δύο σώματα δεν παραμορφώνονται
- θετική κατεύθυνση την κατεύθυνση κίνησης του συσσωματώματος αμέσως μετά την κρούση
- αμελητέες τις τριβές, την αντίσταση του αέρα και το χρόνο κρούσης.
- ότι ο ηχητικός δέκτης δεν καταστρέφεται κατά την κρούση.
- Δίνεται η ταχύτητα του ήχου στον αέρα: $v_{\eta\chi} = 340 \text{ m/s}$.

4^ο ΘΕΜΑ

1. Σώμα Σ_1 με μάζα $m_1 = 1 \text{ kg}$ και ταχύτητα \vec{v}_1 κινείται σε οριζόντιο επίπεδο και κατά μήκος του άξονα $x'x$ χωρίς τριβές, όπως στο σχήμα. Το σώμα Σ_1 συγκρούεται με σώμα Σ_2 μάζας $m_2 = 3 \text{ kg}$ που αρχικά είναι ακίνητο. Η κρούση οδηγεί στη συγκόλληση των σωμάτων.



α. Να δικαιολογήσετε γιατί το συσσωμάτωμα που προκύπτει από τη συγκόλληση θα συνεχίσει να κινείται κατά μήκος του άξονα $x'x$.

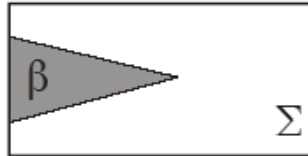
β. Να εξηγήσετε γιατί η θερμοκρασία του συσσωματώματος θα είναι μεγαλύτερη από την αρχική κοινή θερμοκρασία των δύο σωμάτων.

γ. Να υπολογίσετε το λόγο $\frac{K_2}{K_1}$ όπου K_2 η κινητική ενέργεια του συσσωματώματος και K_1 η κινητική ενέργεια του σώματος Σ_1 πριν την κρούση.

δ. Να δικαιολογήσετε αν ο λόγος $\frac{K_2}{K_1}$ μεταβάλλεται ή όχι στην περίπτωση που το σώμα μάζας m_1 κινείται με ταχύτητα διπλάσια της v_1 .

Επαν. Εσπερ. 2004

2. Έστω σώμα (Σ) μάζας $M=1\text{kg}$ και κωνικό βλήμα (β) μάζας $m=0,2\text{kg}$. Για να σφηνώσουμε με τα χέρια μας ολόκληρο το βλήμα στο σταθερό σώμα (Σ), όπως φαίνεται στο σχήμα, πρέπει να δαπανήσουμε ενέργεια 100J.



Έστω τώρα ότι το σώμα (Σ) που είναι ακίνητο σε λείο οριζόντιο επίπεδο, πυροβολείται με το βλήμα (β). Το βλήμα αυτό κινούμενο οριζόντια με κινητική ενέργεια K προσκρούει στο σώμα (Σ) και ακολουθεί πλαστική κρούση.

α. Για $K = 100\text{J}$ θα μπορούσε το βλήμα να σφηνωθεί ολόκληρο στο σώμα (Σ);

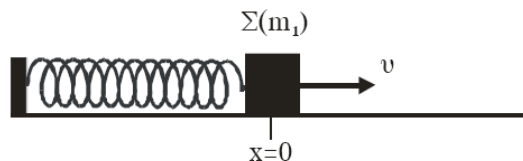
Να αιτιολογήσετε την απάντησή σας.

β. Ποια είναι η ελάχιστη κινητική ενέργεια K που πρέπει να έχει το βλήμα, ώστε να σφηνωθεί ολόκληρο στο σώμα (Σ);

γ. Για ποια τιμή του λόγου m/M το βλήμα με κινητική ενέργεια $K=100\text{ J}$ σφηνώνεται ολόκληρο στο (Σ); Να αιτιολογήσετε την απάντησή σας.

Ημερ. 2005

3. Ένα σώμα Σ μάζας m_1 είναι δεμένο στο ένα άκρο οριζόντιου ελατηρίου σταθεράς K . Το άλλο άκρο του ελατηρίου είναι ακλόνητα στερεωμένο. Το σύστημα ελατήριο-μάζα εκτελεί απλή αρμονική ταλάντωση σε λείο οριζόντιο επίπεδο και τη χρονική στιγμή $t=0$ το σώμα Σ διέρχεται από τη θέση ισορροπίας του, κινούμενο κατά τη θετική φορά.



Η εξίσωση της απομάκρυνσης της ταλάντωσης του σώματος Σ δίνεται από τη σχέση $x = 0,1\mu 10t$ (SI). Η ολική ενέργεια της ταλάντωσης είναι $E=6\text{J}$. Τη χρονική στιγμή $t = \frac{\pi}{10}\text{s}$ στο σώμα Σ

σφηνώνεται βλήμα μάζας $m_2 = \frac{m_1}{2}$ κινούμενο με ταχύτητα v_2 κατά την αρνητική φορά. Το

συσσωμάτωμα που προκύπτει μετά την κρούση εκτελεί νέα απλή αρμονική ταλάντωση πλάτους

$$A' = 0,1\sqrt{6} \text{ m.}$$

α. Να υπολογίσετε τη σταθερά k του ελατηρίου και τη μάζα m_1 του σώματος Σ.

β. Να υπολογίσετε την ολική ενέργεια E' και τη γωνιακή συχνότητα ω' της ταλάντωσης του συσσωματώματος.

γ. Να υπολογίσετε την ταχύτητα v_2 του βλήματος πριν από την κρούση.

Επαν. Ημερ. 2007

4. Σώμα μάζας m_1 κινούμενο σε οριζόντιο επίπεδο συγκρούεται με ταχύτητα μέτρου $v_1 = 15 \frac{m}{s}$ κεντρικά και ελαστικά με ακίνητο σώμα μάζας m_2 . Η χρονική διάρκεια της κρούσης θεωρείται αμελητέα.



Αμέσως μετά την κρούση, το σώμα μάζας m_1 κινείται αντίρροπα με ταχύτητα μέτρου $v_1' = 9 \frac{m}{s}$.

α. Να προσδιορίσετε το λόγο των μαζών $\frac{m_1}{m_2}$.

β. Να βρεθεί το μέτρο της ταχύτητας του σώματος μάζας m_2 αμέσως μετά την κρούση.

γ. Να βρεθεί το ποσοστό της αρχικής κινητικής ενέργειας του σώματος μάζας m_1 που μεταβιβάστηκε στο σώμα μάζας m_2 λόγω της κρούσης.

δ. Να υπολογισθεί πόσο θα απέχουν τα σώματα όταν σταματήσουν.

Ο συντελεστής τριβής ολίσθησης μεταξύ του επιπέδου και κάθε σώματος είναι $\mu = 0,1$.

$$\text{Δίνεται } g = 10 \frac{m}{s^2}.$$

Ημερ. 2008

5. Το σώμα Σ_1 μάζας $m_1 = 1 \text{ kg}$ του επόμενου σχήματος



αφήνεται να ολισθήσει από την κορυφή λείου κατακόρυφου τεταρτοκυκλίου ακτίνας $R = 1,8 \text{ m}$. Στη συνέχεια το σώμα Σ_1 κινείται πάνω σε λείο οριζόντιο επίπεδο και συγκρούεται κεντρικά και πλαστικά

με ακίνητο σώμα Σ_2 μάζας $m_2=2\text{kg}$. Το σώμα Σ_2 είναι στερεωμένο στο ένα άκρο οριζόντιου ελατηρίου

σταθεράς $K=300 \frac{N}{m}$, το άλλο άκρο του οποίου είναι στερεωμένο σε ακλόνητο σημείο. Τη στιγμή της

κρούσης η ταχύτητα του Σ_1 είναι παράλληλη με τον άξονα του ελατηρίου. Μετά την κρούση το συσσωμάτωμα εκτελεί απλή αρμονική ταλάντωση.

Να βρείτε:

A. Την ταχύτητα του σώματος Σ_1 , στο οριζόντιο επίπεδο, πριν συγκρουστεί με το Σ_2 .

B. Την ταχύτητα του συσσωματώματος, αμέσως μετά την κρούση.

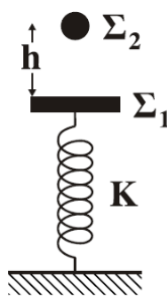
Γ. Το διάστημα που διανύει το συσσωμάτωμα, μέχρι η ταχύτητά του να μηδενιστεί για πρώτη φορά.

Δ. Το χρονικό διάστημα από τη στιγμή της κρούσης, μέχρι τη στιγμή που η ταχύτητα του συσσωματώματος μηδενίζεται για δεύτερη φορά.

Δίνεται η επιτάχυνση της βαρύτητας: $g = 10 \frac{m}{s^2}$.

Εσπερ. 2008

6.



Σώμα Σ_1 μάζας $m_1=7\text{Kg}$ ισορροπεί δεμένο στο πάνω άκρο κατακόρυφου ιδανικού ελατηρίου σταθεράς $K=$

$100 \frac{N}{m}$, το άλλο άκρο του οποίου είναι στερεωμένο στο δάπεδο. Από ύψος $h=3,2\text{m}$ πάνω από το Σ_1 στην

ίδια κατακόρυφο με τον άξονα του ελατηρίου αφήνεται ελεύθερο σώμα Σ_2 μάζας $m_2 = 1\text{kg}$, το οποίο συγκρούεται με το Σ_1 κεντρικά και πλαστικά. Να υπολογίσετε:

α. το μέτρο της ταχύτητας v_2 του Σ_2 οριακά πριν αυτό συγκρουστεί με το Σ_1 .

β. το μέτρο της ταχύτητας του συσσωματώματος αμέσως μετά την κρούση.

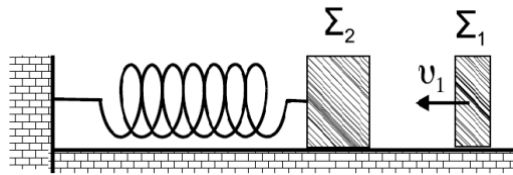
γ. το πλάτος A της ταλάντωσης του συσσωματώματος.

δ. τη μέγιστη δυναμική ενέργεια του ελατηρίου.

Δίνεται η επιτάχυνση της βαρύτητας: $g = 10 \frac{m}{s^2}$.

Ομογ. 2009

7.



Το σώμα Σ_1 του σχήματος έχει μάζα 1kg , κινείται με ταχύτητα $v_1=8\frac{m}{s}$ σε λείο και οριζόντιο επίπεδο και συγκρούεται κεντρικά και ελαστικά με ακίνητο σώμα Σ_2 , μάζας 3kg . Το Σ_2 είναι δεμένο στην άκρη οριζώντιου ελατηρίου σταθεράς $300\frac{N}{m}$, που βρίσκεται στο φυσικό μήκος του.

Να υπολογίσετε:

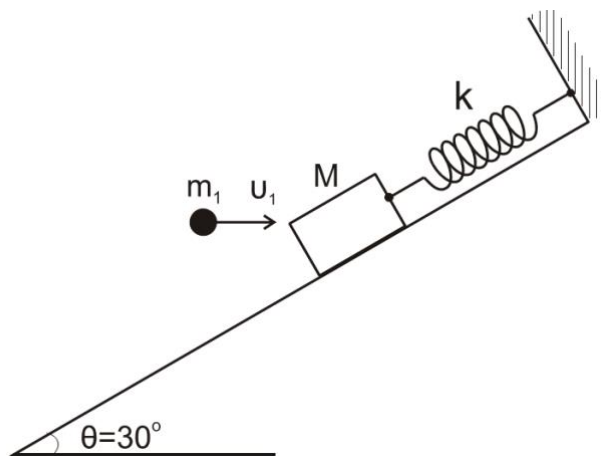
- α. τις ταχύτητες των δύο σωμάτων μετά την κρούση.
 - β. την περίοδο της ταλάντωσης του σώματος Σ_2 .
 - γ. την ενέργεια με την οποία ταλαντώνεται το σώμα Σ_2 .
 - δ. την απόσταση μεταξύ των σωμάτων όταν το Σ_2 επιστρέφει για πρώτη φορά στο σημείο της κρούσης.
- Εσπερ. 2010

8. Σε λείο οριζόντιο επίπεδο σφαίρα μάζας $m_1=1\text{kg}$, κινούμενη με ταχύτητα $v=\frac{4}{3}\frac{m}{s}$, συγκρούεται ελαστικά αλλά όχι κεντρικά με δεύτερη όμοια σφαίρα μάζας $m_2=m$, που είναι αρχικά ακίνητη. Μετά την κρούση οι σφαίρες έχουν ταχύτητες μέτρων v_1 και $v_2=\frac{v_1}{\sqrt{3}}$, αντίστοιχα.

Δ1. Να βρείτε τη γωνία φ που σχηματίζει το διάνυσμα της ταχύτητας \vec{v}_2 με το διάνυσμα της ταχύτητας \vec{v}_1 .

Δ2. Να υπολογίσετε τα μέτρα των ταχυτήτων v_1 και v_2 .

Σώμα μάζας $M=3m$ ισορροπεί δεμένο στο άκρο ελατηρίου, σταθεράς $k=100\frac{N}{m}$, που βρίσκεται κατά μήκος κεκλιμένου επιπέδου γωνίας $\theta=30^\circ$, όπως στο σχήμα.



Η σφαίρα, μάζας m_1 , κινούμενη οριζόντια με την ταχύτητα \vec{v}_1 , σφηνώνεται στο σώμα M .

Δ3. Να βρείτε τη μεταβολή της κινητικής ενέργειας του συστήματος των σωμάτων (M, m_1) κατά την κρούση.

Δ4. Δεδομένου ότι το συσσωμάτωμα (M, m_1) μετά την κρούση εκτελεί απλή αρμονική ταλάντωση, να βρείτε το πλάτος A της ταλάντωσης αυτής.

Δίνονται: η επιτάχυνση βαρύτητας $g = 10 \frac{m}{s^2}$, $\eta\mu 30^\circ = \frac{1}{2}$, $\sigma\upsilon\nu 30^\circ = \frac{\sqrt{3}}{2}$.

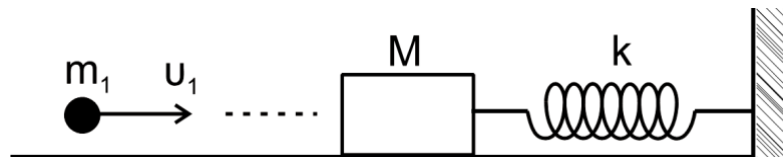
Επαν. Ημερ. 2012

9. Σε λείο οριζόντιο επίπεδο σφαίρα μάζας $m_1 = 1\text{kg}$, κινούμενη με ταχύτητα $v = \frac{4}{3} \frac{m}{s}$, συγκρούεται ελαστικά αλλά όχι κεντρικά με δεύτερη όμοια σφαίρα μάζας $m_2 = m$, που είναι αρχικά ακίνητη. Μετά την κρούση οι σφαίρες έχουν ταχύτητες μέτρων v_1 και $v_2 = \frac{v_1}{\sqrt{3}}$, αντίστοιχα.

Δ1. Να βρείτε τη γωνία φ που σχηματίζει το διάνυσμα της ταχύτητας \vec{v}_2 με το διάνυσμα της ταχύτητας \vec{v}_1 .

Δ2. Να υπολογίσετε τα μέτρα των ταχυτήτων v_1 και v_2 .

Σώμα μάζας $M = 3m$ ισορροπεί δεμένο στο άκρο ελατηρίου, σταθεράς k , που βρίσκεται σε οριζόντιο επίπεδο. Το ελατήριο βρίσκεται στη θέση του φυσικού του μήκους.



Η σφαίρα μάζας m_1 , κινούμενη οριζόντια με ταχύτητα v_1 , σφηνώνεται στο σώμα M .

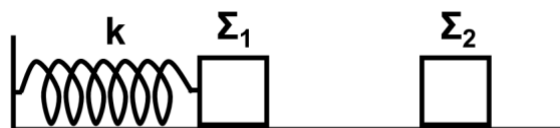
Δ3. Να βρείτε τη μεταβολή της κινητικής ενέργειας του συστήματος των σωμάτων (M, m_1) κατά την κρούση.

Δ4. Αν ο συντελεστής τριβής μεταξύ συσσωματώματος (M, m_1) και οριζοντίου επιπέδου είναι $\mu = \frac{1}{12}$ και η μέγιστη συσπίρωση του ελατηρίου μετά την κρούση είναι $x_{\max} = 0,02\text{m}$, να βρεθεί η σταθερά k του ελατηρίου.

Δίνεται: η επιτάχυνση βαρύτητας $g = 10 \frac{m}{s^2}$.

Επαν. Εσπερ. 2012

10. Σώμα Σ_1 μάζας $M = 3\text{ kg}$, είναι στερεωμένο στο άκρο οριζόντιου ιδανικού ελατηρίου σταθεράς $k = 100 \frac{N}{m}$. Το άλλο άκρο του ελατηρίου στηρίζεται σε ακλόνητο σημείο.



Το σώμα Σ_1 εκτελεί απλή αρμονική ταλάντωση πάνω σε λείο οριζόντιο επίπεδο με πλάτος $A=0,2\text{m}$. Κατά την διάρκεια της ταλάντωσης το σώμα Σ_1 συγκρούεται πλαστικά και κεντρικά με άλλο ακίνητο σώμα Σ_2 μάζας $m = 1 \text{ kg}$. Η κρούση συμβαίνει στη θέση $x = \frac{A}{2}$, όταν το σώμα Σ_1 κινείται προς τα δεξιά.

Να υπολογίσετε:

Δ1. Το μέτρο της ταχύτητας του σώματος Σ_1 ελάχιστα πριν την κρούση.

Δ2. Το ποσοστό ελάττωσης (επί τοις εκατό) της κινητικής ενέργειας του συστήματος των σωμάτων λόγω της κρούσης.

Δ3. Το πλάτος της ταλάντωσης του συσσωματώματος μετά την κρούση.

Δ4. Την απόλυτη τιμή του ρυθμού μεταβολής της κινητικής ενέργειας του συσσωματώματος αμέσως μετά την κρούση.

Ομογ. 2012

11. Τα σώματα Σ_1 , μάζας $m_1 = 1\text{kg}$, και Σ_2 , μάζας $m_2 = 3\text{kg}$, του σχήματος είναι τοποθετημένα σε λείο οριζόντιο επίπεδο και εφάπτονται μεταξύ τους. Το σώμα Σ_1 είναι δεμένο στην άκρη οριζόντιου ιδανικού ελατηρίου σταθεράς $k = 100\text{N/m}$. Το ελατήριο με τη βοήθεια νήματος είναι συσπειρωμένο κατά $d = 0,4\text{m}$ από τη θέση φυσικού μήκους, όπως φαίνεται στο παρακάτω σχήμα.



Κάποια χρονική στιγμή το νήμα κόβεται και το σύστημα των σωμάτων Σ_1 και Σ_2 κινείται προς τα δεξιά. Μετά την αποκόλληση το σώμα Σ_2 συνεχίζει να κινείται σε λείο δάπεδο και συγκρούεται κεντρικά και πλαστικά με το σώμα Σ_3 , μάζας $m_3 = 2\text{kg}$.

Δ1. Να προσδιορίσετε τη θέση στην οποία θα αποκολληθεί το σώμα Σ_2 από το σώμα Σ_1 , τεκμηριώνοντας την απάντησή σας.

Δ2. Να υπολογίσετε το μέτρο της μέγιστης ταχύτητας του σώματος Σ_1 , καθώς και το πλάτος της απλής αρμονικής ταλάντωσης που θα εκτελεί το σώμα Σ_1 αφού αποκολληθεί από το σώμα Σ_2 .

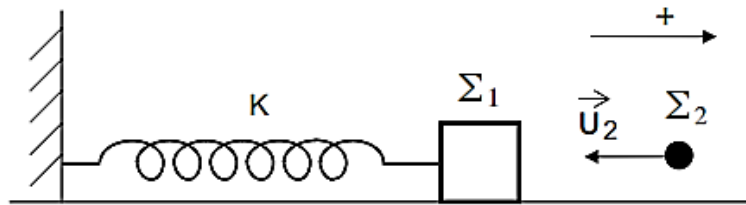
Δ3. Να υπολογίσετε την ταχύτητα του συσσωματώματος των σωμάτων Σ_2 και Σ_3 μετά την κρούση.

Δ4. Να υπολογίσετε το ποσοστό της κινητικής ενέργειας που μετατράπηκε σε θερμική ενέργεια κατά την κρούση.

Εσπερ. 2016 (παλαιού τύπου)

12. Σώμα Σ_1 , μάζας $m_1 = 1\text{kg}$ βρίσκεται πάνω σε λείο οριζόντιο επίπεδο και είναι προσδεμένο στο άκρο οριζόντιου ιδανικού ελατηρίου σταθεράς $K = 100\text{N/m}$. Το άλλο άκρο του ελατηρίου είναι

στερεωμένο ακλόνητα. Το σύστημα ελατήριο - σώμα Σ_1 εκτελεί απλή αρμονική ταλάντωση με εξίσωση απομάκρυνσης $x = 0,4\eta\mu\omega t$ (SI). Τη χρονική στιγμή $t_1 = \frac{\pi}{10}$ s το σώμα Σ_1 συγκρούεται πλαστικά με ένα άλλο σώμα Σ_2 μάζας $m_2 = 3\text{kg}$, που κινείται οριζόντια στη διεύθυνση του άξονα του ελατηρίου με ταχύτητα $v_2 = \frac{20}{3}$ m/s, όπως φαίνεται στο σχήμα.



- Δ1.** Να υπολογίσετε την απομάκρυνση, το μέτρο και τη φορά της ταχύτητας του σώματος Σ_1 τη χρονική στιγμή t_1 .
- Δ2.** Να υπολογίσετε το μέτρο της ταχύτητας του συσσωματώματος, αμέσως μετά την κρούση και να προσδιορίσετε τη φορά της.
- Δ3.** Να γράψετε την εξίσωση της απομάκρυνσης σε συνάρτηση με τον χρόνο της νέας αρμονικής ταλάντωσης που εκτελεί το συσσωμάτωμα, αμέσως μετά την κρούση. Θεωρήστε ως $t = 0$ τη στιγμή της κρούσης και θετική φορά αυτή που φαίνεται στο σχήμα.
- Δ4.** Να υπολογίσετε το ποσοστό μεταβολής επί τοις εκατό (%) της κινητικής ενέργειας του σώματος Σ_1 , κατά τη διάρκεια της κρούσης.

Ομογ. 2016