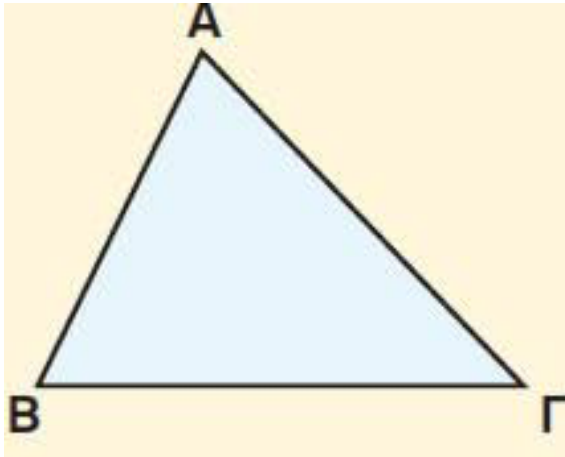
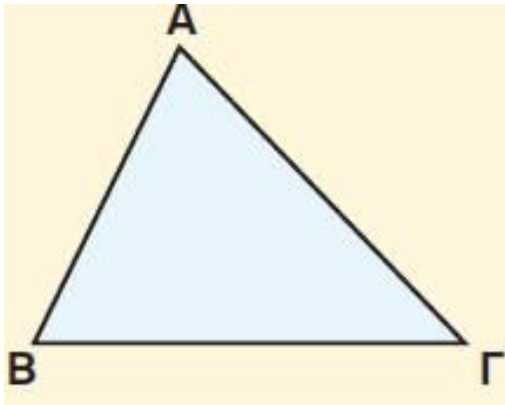
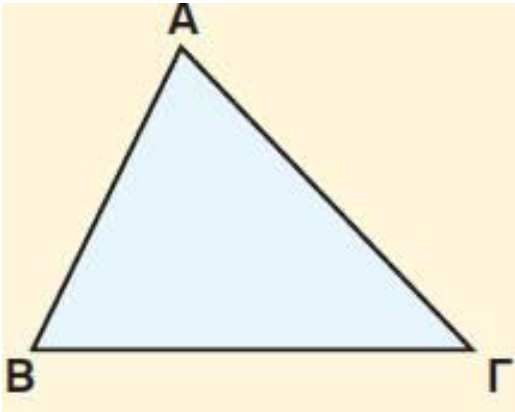


ΟΝΟΜΑΤΕΠΩΝΥΜΟ:.....



Να σχηματίσετε τα **ύψη** και να βρείτε το **ορθόκεντρο**

Να σχηματίσετε τις **διχοτόμους**, να βρείτε το **έγκεντρο** και τον **εγγεγραμμένο κύκλο**



Να σχηματίσετε τις **μεσοκαθέτους**, να βρείτε το **περίκεντρο** και τον **περιγεγραμμένο κύκλο**

Να σχηματίσετε τις **διαμέσους** και να βρείτε το **βαρύκεντρο**

