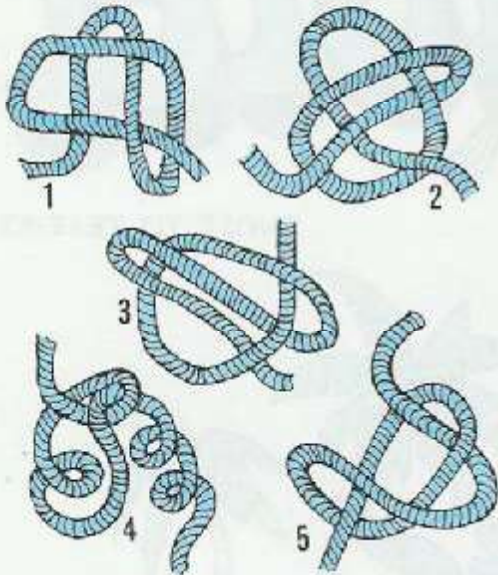


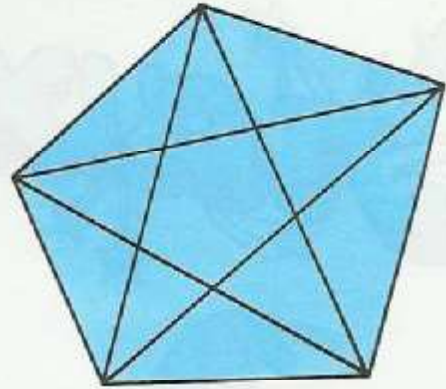
ΚΟΜΠΟΔΕΣΙΜΑΤΑ

Τράβα τις άκρες των σχοινιών που βλέπεις και θά δεις ότι δύο από τα πέντε δεν θά δεθούν σε κόμπο. Ποιά είναι αυτά;



ΤΑ ΤΡΙΓΩΝΑ ΣΤΟ ΠΕΝΤΑΓΩΝΟ

Πόσα τρίγωνα βλέπεις σε αυτό τό Πεντάγωνο;



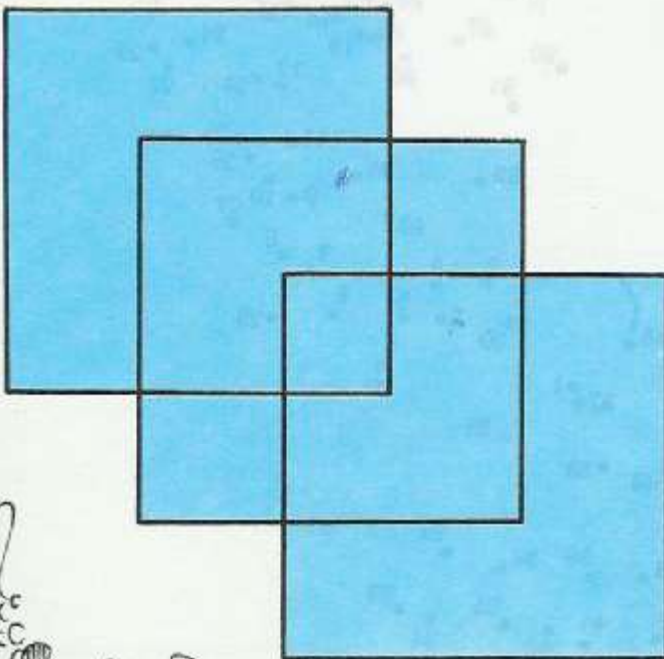
ΠΟΝΗΡΗ ΠΡΑΞΗ

Μπορείς νά κάνεις αυτή τήν πράξη σωστή, βάζοντας + ή × ανάμεσα στους αριθμούς, χωρίς νά αλλάξεις τή σειρά τους;

1 2 3 4 5 6 7 8 9 = 100

ΜΟΝΟΚΟΝΤΥΛΙΑ

Δοκίμασε νά σχεδιάσεις αυτά τά 3 τετράγωνα μέ μιά συνεχή γραμμή, χωρίς δηλαδή νά ξαναπρνάς από τό ίδιο μέρος 2 φορές και χωρίς νά σηκώσεις καθόλου τό μολύβι από τό χαρτί.



ΣΚΟΠΟΒΟΛΗ

Ρίξε 4 βελάκια — και πρόσεχε — μὴν ἀστοχήσεις!
 α) Ποιό είναι τό πιό μεγάλο ἄθροισμα πού μπορείς νά πετύχεις;
 β) Μέ 4 βελάκια προσπάθησε νά βγάλεις ἄθροισμα 60 μέ δύο τρόπους!

γ) Ποιό είναι τό μικρότερο ἄθροισμα πού μπορείς νά πετύχεις;

- α
- β
- γ

