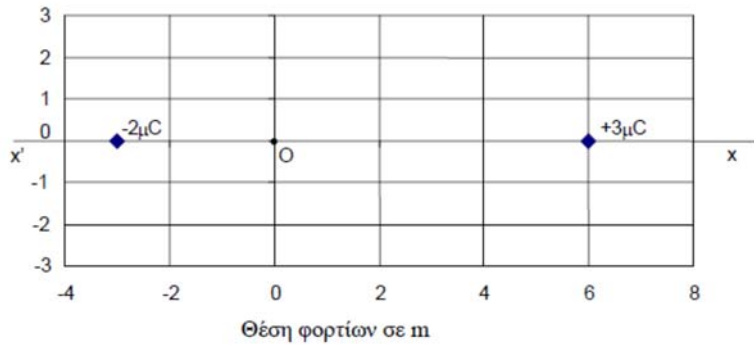


ΘΕΜΑ Δ (15732)

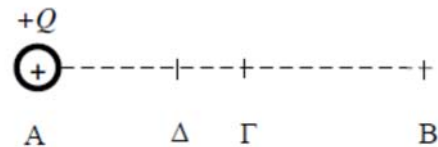
Δύο ακίνητα σημειακά ηλεκτρικά φορτία $q_1 = -2 \mu\text{C}$ και $q_2 = +3 \mu\text{C}$, βρίσκονται αντίστοιχα στις θέσεις $x_1 = -3 \text{ m}$ και $x_2 = +6 \text{ m}$ ενός άξονα $x'x$, όπως φαίνεται στο παρακάτω σχήμα.



- Δ1) Να υπολογίσετε το δυναμικό του ηλεκτρικού πεδίου στη θέση O (σημείο (0,0)).
- Δ2) Να σχεδιάσετε το διάνυσμα της έντασης του ηλεκτρικού πεδίου και να υπολογίσετε το μέτρο της στη θέση O (σημείο (0,0)).
- Δ3) Να προσδιορίσετε σε ποιο σημείο Σ_1 του άξονα $x'x$, μεταξύ των δύο ηλεκτρικών φορτίων, το δυναμικό του ηλεκτρικού πεδίου μηδενίζεται.
- Δ4) Υπάρχει άλλο σημείο στον άξονα $x'x$, εκτός από το Σ_1 , εντός του ηλεκτρικού πεδίου των δύο φορτίων με δυναμικό μηδέν; Αν υπάρχει να προσδιορίσετε τη θέση του.

ΘΕΜΑ Δ (15309)

Στο σημείο A υπάρχει ένα ακλόνητο θετικό σημειακό ηλεκτρικό φορτίο Q , όπως φαίνεται στο πιο κάτω σχήμα. Ένα άλλο B απέχει απόσταση r από το σημείο A, ενώ τα σημεία Γ και Δ του ευθύγραμμου τμήματος (AB) απέχουν αποστάσεις $r/2$ και $r/3$ αντίστοιχα από το σημείο A.



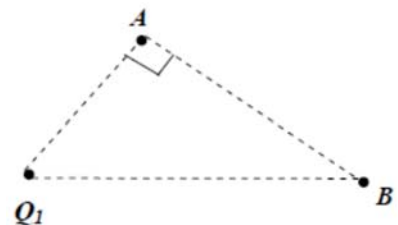
- Δ1) Να συγκρίνετε (βρίσκοντας το λόγο τους) τα ηλεκτρικά δυναμικά V_Γ και V_Δ στα σημεία Γ και Δ του ηλεκτροστατικού πεδίου που δημιουργείται από το φορτίο Q . Στη συνέχεια τοποθετούμε ένα άλλο θετικό σημειακό ηλεκτρικό φορτίο q στο σημείο B. Για τα δύο φορτία ισχύει $Q = q$.
- Δ2) Να συγκρίνετε (βρίσκοντας το λόγο τους) τα ηλεκτρικά δυναμικά V_Γ και V_Δ στα σημεία Γ και Δ του ηλεκτροστατικού πεδίου που δημιουργείται από τα φορτία Q και q . Αντικαθιστούμε το ηλεκτρικό φορτίο q που βρίσκεται στο σημείο B με ένα αρνητικό σημειακό ηλεκτρικό φορτίο q' , ίσο κατά απόλυτη τιμή με το Q . Να υπολογίσετε :
- Δ3) τις τιμές του ηλεκτρικού δυναμικού στα σημεία Γ και Δ του ηλεκτροστατικού πεδίου που δημιουργείται από τα δύο φορτία Q και q' , καθώς και τη διαφορά δυναμικού $V_{\Delta\Gamma}$.
- Δ4) την ένταση του ηλεκτροστατικού πεδίου που δημιουργείται από τα φορτία Q και q' στο σημείο Γ.

ΘΕΜΑ Δ (15327)

Ακλόνητο σημειακό φορτίο πηγή $Q_1 = 6 \mu\text{C}$, δημιουργεί ηλεκτρικό πεδίο.

- Δ1) Να προσδιορίσετε την ένταση του ηλεκτρικού πεδίου (μέτρο και κατεύθυνση) καθώς και το δυναμικό του, στο σημείο A που απέχει 3 cm από το ηλεκτρικό φορτίο πηγή.

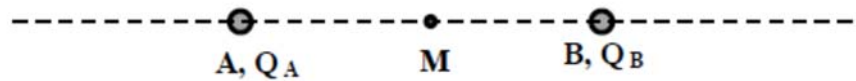
Στη συνέχεια τοποθετείται στο σημείο B που απέχει 5 cm από το φορτίο Q_1 , ένα δεύτερο σημειακό ηλεκτρικό φορτίο $Q_2 = -5 \mu\text{C}$. Το τρίγωνο που σχηματίζουν τα σημεία A, B και το φορτίο Q_1 είναι ορθογώνιο στο A. Να υπολογίσετε :



- Δ2) την ηλεκτρική δύναμη αλληλεπίδρασης μεταξύ των δύο φορτίων (μέτρο και κατεύθυνση),
- Δ3) το δυναμικό του ηλεκτρικού πεδίου στο σημείο A,
- Δ4) το έργο της δύναμης του ηλεκτρικού πεδίου για να μεταφερθεί δοκιμαστικό φορτίο $q = 1 \mu\text{C}$ από το A στο άπειρο.

ΘΕΜΑ Δ (15329)

Δύο ακλόνητα φορτισμένα μικρά σφαιρίδια A και B με ηλεκτρικά φορτία $Q_A = 16q$ και $Q_B = q$ αντίστοιχα (όπου q αρνητικό ηλεκτρικό φορτίο), απέχουν μεταξύ τους $d = 2 \text{ cm}$. Αν η ηλεκτρική δύναμη με την οποία αλληλεπιδρούν έχει μέτρο 360 N , να υπολογίσετε:



- Δ1) το ηλεκτρικό φορτίο του σφαιριδίου A,
- Δ2) το μέτρο της έντασης του ηλεκτρικού πεδίου στο μέσο του ευθύγραμμου τμήματος που τα συνδέει (σημείο M),
- Δ3) το ηλεκτρικό δυναμικό σε σημείο Γ της ευθείας που ορίζουν τα σφαιρίδια, όπου η ένταση του ηλεκτρικού πεδίου είναι μηδέν,
- Δ4) το έργο που χρειάζεται για να μετακινηθεί ένα δοκιμαστικό ηλεκτρικό φορτίο $q_1 = 1 \mu\text{C}$ από το σημείο Γ στο σημείο M.

ΘΕΜΑ Δ (15332)

Ένα ακίνητο σημειακό ηλεκτρικό φορτίο $Q = +4 \mu\text{C}$, όπως φαίνεται στο παραπάνω σχήμα, δημιουργεί γύρω του ηλεκτρικό πεδίο. Ένα σημείο A πάνω στην ευθεία ϵ , βρίσκεται σε απόσταση 3 cm από το φορτίο Q .



- Δ1) Να υπολογίσετε την ένταση και το δυναμικό του ηλεκτρικού πεδίου, που δημιουργεί το φορτίο Q , στο σημείο A.
- Στο σημείο A τοποθετείται θετικό σημειακό ηλεκτρικό φορτίο $q = +2 \mu\text{C}$.
- Δ2) Να υπολογίσετε το μέτρο της ηλεκτρικής δύναμης που θα δεχτεί το φορτίο q .
- Δ3) Εάν το έργο της δύναμης που δέχεται το φορτίο q από το ηλεκτρικό πεδίο, κατά τη μετακίνησή του από το σημείο A σε ένα άλλο σημείο B, όπως φαίνεται στο παραπάνω σχήμα, είναι $1,6 \text{ J}$, να υπολογίσετε τη τιμή του δυναμικού του πεδίου στο σημείο B.
- Δ4) Να υπολογίσετε την απόσταση του σημείου B από το ηλεκτρικό φορτίο Q .

ΘΕΜΑ Δ (15345)

Ακίνητο σημειακό ηλεκτρικό φορτίο Q δημιουργεί γύρω του ηλεκτροστατικό πεδίο. Σε σημείο A του πεδίου αυτού, το μέτρο της έντασης είναι 2 N/C και το δυναμικό είναι -6 V .

- Δ1) Να παραστήσετε σε ένα σχήμα το ηλεκτρικό φορτίο Q και το σημείο A και κατόπιν να σχεδιάσετε το διάνυσμα της έντασης του ηλεκτροστατικού πεδίου στο σημείο αυτό.
 - Δ2) Να υπολογίσετε την απόσταση r_A του σημείου A από το σημειακό φορτίο Q καθώς και τη τιμή του ηλεκτρικού φορτίου Q .
 - Δ3) Να υπολογίσετε τη τιμή του δυναμικού σε ένα άλλο σημείο B του ηλεκτρικού πεδίου, το οποίο απέχει 6 m από το Q .
- Ένα άλλο σημειακό φορτίο $q = -1 \text{ nC}$ μετακινείται από το σημείο A στο σημείο B του ηλεκτρικού πεδίου.
- Δ4) Να υπολογίσετε το έργο της ηλεκτρικής δύναμης του πεδίου κατά τη μετακίνηση αυτή.

ΘΕΜΑ Δ (15353)

Δύο ακίνητα σημειακά σώματα με θετικά ηλεκτρικά φορτία, $q_1 = 4 \mu\text{C}$ και $q_2 = 1 \mu\text{C}$ βρίσκονται σε απόσταση $r = 3 \text{ m}$.

- Δ1) Να βρείτε το μέτρο της δύναμης που ασκεί το ένα σώμα στο άλλο.
- Δ2) Να υπολογίσετε τη τιμή του δυναμικού του ηλεκτρικού πεδίου που δημιουργείται από τα δύο φορτία σε σημείο A που βρίσκεται στο ευθύγραμμο τμήμα με άκρα τα δύο φορτία και απέχει 2 m από το q_1 .
- Δ3) Να υπολογίσετε τη διαφορά δυναμικού $V_A - V_B$ μεταξύ των σημείων A και B, όπου B είναι σημείο της ευθείας που ορίζουν τα δύο φορτία και απέχει 6 m από το q_1 και 3 m από το q_2 .

Δ4) Να αποδείξετε ότι αν τοποθετηθεί ένα τρίτο σημειακό σώμα με αρνητικό φορτίο q είτε στο Α είτε στο Β τότε θα ασκεί δυνάμεις με ίσα μέτρα στα άλλα δύο φορτισμένα σώματα με φορτία q_1 και q_2 . Αν το σωματίδιο με φορτίο q δέχεται μόνο τις ηλεκτρικές δυνάμεις από τα άλλα δύο φορτία, ισορροπεί σε κάποια από τις θέσεις Α ή Β; Αν ναι σε ποια και γιατί;

ΘΕΜΑ Δ (15354)

Δίνονται δύο σημειακά φορτία $q_1 = 1 \mu\text{C}$, $q_2 = -4 \mu\text{C}$, τα οποία βρίσκονται ακίνητα σε απόσταση $r = 3 \text{ m}$. Να βρείτε:

- Δ1) Την ηλεκτρική δύναμη που ασκεί το ένα φορτίο στο άλλο.
- Δ2) Το μέτρο της έντασης που δημιουργεί το φορτίο q_2 στο σημείο που βρίσκεται το q_1 .
- Δ3) Το έργο της δύναμης του ηλεκτρικού πεδίου κατά τη μετακίνηση του φορτίου q_1 από τη θέση που βρίσκεται στο άπειρο, ενώ το q_2 διατηρείται ακίνητο.
- Δ4) Το σημείο της ευθείας που ενώνει τα δύο φορτία, στο οποίο μπορούμε να τοποθετήσουμε ένα τρίτο φορτίο και αυτό να ισορροπεί.

ΘΕΜΑ Δ (15356)

Σε τρία διαδοχικά συνευθειακά σημεία Α, Β και Γ βρίσκονται τρία σημειακά φορτισμένα σώματα με ηλεκτρικά φορτία αντίστοιχα: $q_1 = 4 \mu\text{C}$, $q_2 = 1 \mu\text{C}$, $q_3 = -1 \mu\text{C}$. Δίνονται επίσης: $AB = 2 \text{ m}$, $B\Gamma = 1 \text{ m}$. Να βρείτε:

- Δ1) Την ηλεκτρική δύναμη που ασκεί το φορτίο q_1 στο φορτίο q_3 .
- Δ2) Τη συνολική ηλεκτρική δύναμη που ασκείται στο σώμα που έχει φορτίο q_2 .
- Δ3) Το συνολικό δυναμικό που δημιουργούν στο σημείο Β τα φορτία q_1 και q_3 .
- Δ4) Τη τιμή και το είδος ενός άλλου φορτίου q_3 , το οποίο θα αντικαταστήσει το q_3 , έτσι ώστε το q_2 , να ισορροπεί στο σημείο Β. Το φορτίο q_1 είναι σταθερό στη θέση Α.

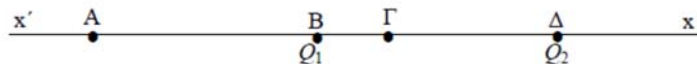
ΘΕΜΑ Δ (15362)

Δύο σημειακά ηλεκτρικά φορτία $q_1 = 2 \mu\text{C}$, $q_2 = -1 \mu\text{C}$ βρίσκονται σε απόσταση $r = 3 \text{ m}$,

- Δ1) Να βρείτε την ηλεκτρική δύναμη που αναπτύσσεται ανάμεσα στα δύο ηλεκτρικά φορτία
- Δ2) Να υπολογίσετε το δυναμικό στο μέσο της απόστασης των δύο ηλεκτρικών φορτίων,
- Δ3) Να προσδιορίσετε το σημείο Σ του ευθυγράμμου τμήματος που συνδέει τα δύο φορτία, στο οποίο μηδενίζεται το δυναμικό,
- Δ4) Να υπολογίσετε το μέτρο της έντασης του ηλεκτρικού πεδίου στο σημείο Σ,

ΘΕΜΑ Δ (15367)

Πάνω σε μία ευθεία βρίσκονται τα σημεία Α, Β, Γ, Δ, όπως φαίνεται στο σχήμα. Δίνονται οι αποστάσεις $(AB) = (B\Delta) = 6 \text{ cm}$ και $(B\Gamma) = 1,2 \text{ cm}$. Στα σημεία Β και Δ είναι ακλόνητα τοποθετημένα σημειακά ηλεκτρικά φορτία $Q_1 = +1 \mu\text{C}$ και $Q_2 = -4 \mu\text{C}$. Θεωρούμε ότι στα σημεία Α και Γ το ηλεκτρικό πεδίο οφείλεται μόνο στα φορτία Q_1 και Q_2 .



- Δ1) Να σχεδιάσετε την ηλεκτρική δύναμη που ασκείται στο φορτίο Q_1 από το Q_2 και να υπολογίσετε το μέτρο της.
- Δ2) Να υπολογίσετε το δυναμικό του ηλεκτροστατικού πεδίου στο σημείο Γ.
- Δ3) Να βρείτε την ένταση του ηλεκτροστατικού πεδίου στο σημείο Α.
- Δ4) Να υπολογίσετε τη διαφορά δυναμικού $V_{\Gamma A} = V_{\Gamma} - V_A$.

ΘΕΜΑ Δ (15373)

Δύο σφαιρίδια Α, Β αμελητέων διαστάσεων έχουν ηλεκτρικά φορτία $Q_A = +1 \mu\text{C}$ και $Q_B = -4 \mu\text{C}$ αντίστοιχα. Τα σφαιρίδια είναι στερεωμένα ακίνητα σε απόσταση 6 cm , το ένα από το άλλο. Ονομάζουμε Μ το μέσο του ευθυγράμμου τμήματος ΑΒ.

- Δ1) Να σχεδιάσετε τα δύο σφαιρίδια, καθώς και την ηλεκτρική δύναμη που ασκείται στο σφαιρίδιο Β από το σφαιρίδιο Α. Να υπολογίσετε το μέτρο της δύναμης αυτής.

- Δ2) Να υπολογίσετε στο σημείο M το δυναμικό του ηλεκτρικού πεδίου που δημιουργείται από τα φορτία Q_A και Q_B .
- Δ3) Να υπολογίσετε το μέτρο και να σχεδιάσετε το διάνυσμα της έντασης του ηλεκτρικού πεδίου που δημιουργείται από τα φορτία Q_A και Q_B στο σημείο M.
- Δ4) Να υπολογίσετε το μέτρο και να προσδιορίσετε την κατεύθυνση της ηλεκτρικής δύναμης που θα ασκηθεί σε ένα σφαιρίδιο αμελητέων διαστάσεων, με φορτίο $Q = -2 \mu\text{C}$, αν αυτό τοποθετηθεί στο σημείο M.

ΘΕΜΑ Δ (15378)

Δύο σημειακά ηλεκτρικά φορτία $Q_1 = 8 \mu\text{C}$ και $Q_2 = 2 \mu\text{C}$ τοποθετούνται στα άκρα A και B ευθυγράμμου τμήματος AB μήκους $AB = r = 0,6 \text{ cm}$.

- Δ1) Να σχεδιάσετε κατάλληλο σχήμα, όπου να φαίνονται τα διανύσματα των ηλεκτρικών δυνάμεων που αναπτύσσονται ανάμεσα στα δύο ηλεκτρικά φορτία Q_1 και Q_2 .
- Δ2) Να υπολογίσετε το μέτρο της ηλεκτρικής δύναμης που αναπτύσσεται ανάμεσα στα δύο ηλεκτρικά φορτία Q_1 και Q_2 .
- Δ3) Να υπολογίσετε τη συνολική ένταση του ηλεκτροστατικού πεδίου στο μέσο M του ευθυγράμμου τμήματος AB.
- Δ4) Τοποθετούμε στο μέσο M του ευθυγράμμου τμήματος AB, ένα δοκιμαστικό ηλεκτρικό φορτίο $q = 10^{-12} \text{ C}$. Να υπολογίσετε το μέτρο της συνολικής δύναμης που δέχεται το δοκιμαστικό ηλεκτρικό φορτίο q , από τα ηλεκτρικά φορτία Q_1 και Q_2 .

ΘΕΜΑ Δ (15384)

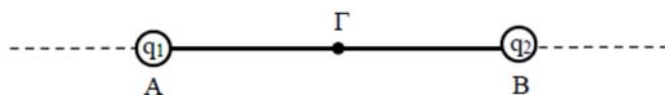
Δύο σημειακά ηλεκτρικά φορτία $Q_1 = 12 \mu\text{C}$ και $Q_2 = -3 \mu\text{C}$ τοποθετούνται αντίστοιχα στα σημεία A και B ευθείας (ϵ) όπως φαίνεται στο παρακάτω σχήμα. Δίνονται: $AB = r = 3 \text{ cm}$



- Δ1) Να υπολογίσετε το μέτρο της ηλεκτρικής δύναμης που αναπτύσσεται ανάμεσα στα δύο ηλεκτρικά φορτία Q_1 και Q_2 .
- Δ2) Να υπολογίσετε το δυναμικό του ηλεκτρικού πεδίου που δημιουργείται από τα ηλεκτρικά φορτία Q_1 και Q_2 στο μέσο M του ευθυγράμμου τμήματος AB.
- Τοποθετούμε στο μέσο M του ευθυγράμμου τμήματος AB, ένα δοκιμαστικό ηλεκτρικό φορτίο $q = -2 \mu\text{C}$.
- Δ3) Να βρείτε το έργο της δύναμης που δέχεται το δοκιμαστικό φορτίο q από το ηλεκτρικό πεδίο των Q_1 και Q_2 κατά την μετακίνησή του από το σημείο M στο άπειρο.
- Δ4) Να βρείτε σε ποιο σημείο Σ της ευθείας (ϵ) και δεξιά του σημείου B, μηδενίζεται η ένταση του ηλεκτρικού πεδίου, που δημιουργείται από τα ηλεκτρικά φορτία Q_1 και Q_2 .

ΘΕΜΑ Δ (15386)

Δύο θετικά σημειακά ηλεκτρικά φορτία $q_1 = 3 \cdot 10^{-9} \text{ C}$ και $q_2 = 27 \cdot 10^{-9} \text{ C}$ βρίσκονται αντίστοιχα στα άκρα A και B ευθυγράμμου τμήματος AB, όπως φαίνεται στο διπλανό σχήμα. Τα ηλεκτρικά φορτία q_1 και q_2 απέχουν μεταξύ τους 2 cm .



- Δ1) Να σχεδιάσετε το διάνυσμα της έντασης του ηλεκτρικού πεδίου των ηλεκτρικών φορτίων q_1 και q_2 στο μέσο Γ του ευθυγράμμου τμήματος AB και να υπολογίσετε το μέτρο της.

Δ2) Να προσδιορίσετε το σημείο Δ της ευθείας πάνω στην οποία βρίσκονται τα σημεία Α και Β, όπου η ένταση του ηλεκτρικού πεδίου των q_1 και q_2 είναι μηδέν.

Στο σημείο Γ τοποθετούμε αρνητικό σημειακό ηλεκτρικό φορτίο $q = -2 \cdot 10^{-12}$ C.

Δ3) Να σχεδιάσετε το διάνυσμα της δύναμης που ασκείται στο ηλεκτρικό φορτίο q από το πεδίο των q_1 και q_2 και να υπολογίσετε το μέτρο της.

Το δυναμικό στο σημείο Δ λόγω του ηλεκτρικού πεδίου των q_1 και q_2 είναι $V_\Delta = 21,6$ kV. Μεταφέρω το φορτίο q από το σημείο Δ σε κάποιο σημείο Ζ όπου το δυναμικό λόγω του ηλεκτρικού πεδίου των q_1 και q_2 είναι $V_Z = 25,6$ kV.

Δ4) Να υπολογίσετε το έργο της δύναμης που δέχεται το ηλεκτρικό φορτίο q από το ηλεκτρικό πεδίο των q_1 και q_2 κατά την μετακίνηση αυτή.

ΘΕΜΑ Δ (15447)

Δύο ακίνητα σημειακά ηλεκτρικά φορτία $q_1 = 20\mu\text{C}$ και $q_2 = -80\mu\text{C}$ βρίσκονται στις θέσεις Α και Β αντίστοιχα. Τα φορτία απέχουν μεταξύ τους απόσταση r . Το σύστημα των δύο φορτίων εξαιτίας της μεταξύ τους ηλεκτρικής αλληλεπίδρασης, έχει δυναμική ενέργεια -24 J.

Δ1) Να υπολογίσετε την απόσταση r .

Δ2) Να υπολογίσετε το δυναμικό του ηλεκτρικού πεδίου που δημιουργούν τα δύο φορτία, στο μέσον Μ του τμήματος ΑΒ.

Δ3) Σε περιοχή που υπάρχει το ηλεκτρικό πεδίο που δημιουργείται από τα φορτία q_1 και q_2 , να υπολογίσετε τις θέσεις δύο σημείων Κ και Λ, πάνω στην ευθεία που ενώνει τα δύο φορτία, στις οποίες το δυναμικό είναι μηδέν.

Σε μία από αυτές τις δύο θέσεις (στο σημείο Κ ή Λ) που βρίσκεται πιο μακριά από το q_1 , τοποθετούμε αρνητικό δοκιμαστικό φορτίο q .

Δ4) Να αιτιολογήσετε αν το φορτίο q θα παραμείνει ακίνητο ή αν θα κινηθεί και προς ποια κατεύθυνση.

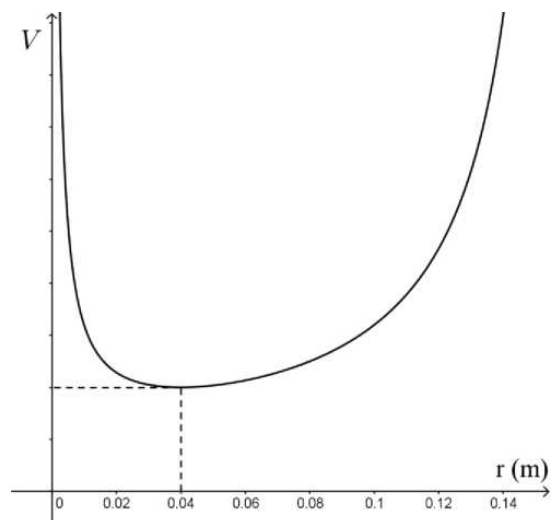
ΘΕΜΑ Δ (15453)

Δύο σημειακά φορτία $q_1 = +2\mu\text{C}$ και $q_2 = +18\mu\text{C}$ βρίσκονται αντίστοιχα στις θέσεις Α και Β ευθυγράμμου τμήματος ΑΒ = 16 cm.

Δ1) Να υπολογίσετε την ένταση του ηλεκτρικού πεδίου των δύο φορτίων σε σημείο Σ του ευθυγράμμου τμήματος που απέχει 4cm από το Α.

Δ2) Να υπολογίσετε το δυναμικό του ηλεκτρικού πεδίου στο σημείο Σ.

Δ3) Στο διάγραμμα παριστάνεται η τιμή του δυναμικού στο ευθύγραμμο τμήμα ΑΒ συναρτήσει της απόστασης r από το Α. Να εξηγήσετε γιατί στο σημείο Σ του ευθυγράμμου τμήματος ΑΒ ένα θετικό φορτίο (υπόθεμα) $q = +1\mu\text{C}$ έχει την ελάχιστη δυναμική ενέργεια.



Δ4) Ο μαθητής διάβασε σε μια ιστοσελίδα στο διαδίκτυο ότι «Όταν φέρουμε ένα δοκιμαστικό φορτίο q μέσα σε ένα ηλεκτρικό πεδίο και σε κάποια θέση το φορτίο q έχει την ελάχιστη δυναμική ενέργεια και είναι και ακίνητο τότε αυτό δεν πρόκειται να κινηθεί αυθόρμητα». Αξιοποιώντας την απάντηση που δώσατε στο ερώτημα Δ1 να δικαιολογήσετε κατά πόσο η προηγούμενη πρόταση είναι βάσιμη.

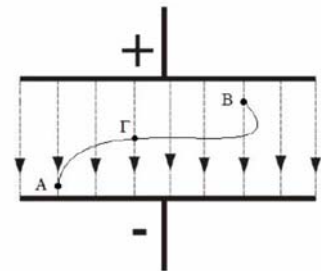
ΘΕΜΑ Δ (15459)

Σε ένα σημείο A, που απέχει απόσταση r από ακίνητο θετικό σημειακό φορτίο Q , η ένταση του ηλεκτρικού πεδίου που δημιουργεί το φορτίο Q έχει τιμή $E_A = 36 \cdot 10^5 \text{ N/C}$.

- Δ1) Να σχεδιάσετε τις δυναμικές γραμμές του ηλεκτρικού πεδίου του φορτίου Q και να υπολογίσετε τη δύναμη που θα δεχτεί σημειακό φορτίο $q = 10^{-6} \text{ C}$, αν το τοποθετήσουμε στο σημείο A.
- Δ2) Να υπολογίσετε τη τιμή του φορτίου Q το οποίο δημιουργεί το πεδίο, αν γνωρίζετε ότι το δυναμικό στο σημείο A είναι $V_A = 36 \cdot 10^4 \text{ V}$.
- Δ3) Το φορτίο q μετακινείται από τη θέση A στη θέση B, η οποία απέχει κατά $r' = 2r$ από το Q . Να υπολογίσετε τη τιμή της δύναμης που δέχεται το q στη νέα θέση B από το ηλεκτρικό πεδίο.
- Δ4) Να υπολογίσετε το έργο της δύναμης του ηλεκτρικού πεδίου κατά τη μεταφορά του q από το A στο B.

ΘΕΜΑ Δ (15510)

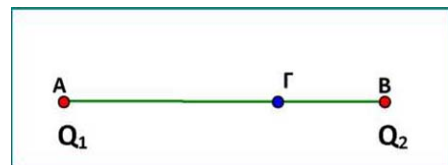
Στο ομογενές ηλεκτρικό πεδίο που απεικονίζεται στο πιο κάτω σχήμα, μετακινείται ένα σημειακό ηλεκτρικό φορτίο $q = -10^{-6} \text{ C}$, από το σημείο A στο σημείο B, κατά μήκος της καμπυλόγραμμης διαδρομής AΓB. Η μετακίνηση του ηλεκτρικού φορτίου q , γίνεται υπό την επίδραση της δύναμης του ηλεκτρικού πεδίου και μιας εξωτερικής δύναμης. Η τιμή του δυναμικού στο σημείο A είναι $V_A = 100 \text{ V}$ και στο σημείο B είναι V_B . Δίνεται ότι το έργο της δύναμης του ηλεκτρικού πεδίου κατά την μετακίνηση του φορτίου q από το σημείο A στο σημείο B είναι $W_{A \rightarrow B} = 7 \cdot 10^{-4} \text{ J}$ και ότι το μέτρο της έντασης του ηλεκτρικού πεδίου είναι $E = 10^4 \text{ N/C}$.



- Δ1) Να υπολογίσετε τη τιμή του δυναμικού του ηλεκτρικού πεδίου στο σημείο B.
- Δ2) Να υπολογίσετε το μέτρο της δύναμης που δέχεται το φορτίο q από το ηλεκτρικό πεδίο και να σχεδιάσετε το διάνυσμά της όταν το φορτίο q βρίσκεται στο σημείο Γ.
- Δ3) Να αποδείξετε ότι το έργο της δύναμης, που ασκείται στο φορτίο q από το ηλεκτρικό πεδίο, αν αυτό αναγκαστεί να μετακινηθεί κατά μήκος της ίδιας καμπυλόγραμμης διαδρομής αλλά αντίστροφα από το B προς το A ($B \rightarrow \Gamma \rightarrow A$) είναι αντίθετο από το έργο W_{AB} .

ΘΕΜΑ Δ (15512)

Δύο ακίνητα σημειακά φορτία $Q_1 = -12 \cdot 10^{-6} \text{ C}$ και $Q_2 = -4 \cdot 10^{-6} \text{ C}$ βρίσκονται στα σημεία A και B ενός ευθυγράμμου τμήματος AB με μήκος $AB = 4 \text{ m}$. Μεταξύ των φορτίων παρεμβάλλεται αέρας.



- Δ1) Να βρείτε το μέτρο της ηλεκτρικής δύναμης που ασκείται μεταξύ των φορτίων Q_1 και Q_2 .
- Δ2) Να υπολογίσετε τη τιμή του δυναμικού του ηλεκτρικού πεδίου στο σημείο Γ του ευθύγραμμου τμήματος AB αν $(A\Gamma) = 3(\Gamma B)$.
- Δ3) Να υπολογίσετε την ένταση του πεδίου των δύο φορτίων στο σημείο Γ.
- Δ4) Να υπολογίσετε το έργο της δύναμης του πεδίου για την μεταφορά ενός δοκιμαστικού φορτίου $q = 2 \mu\text{C}$ από το σημείο Γ στο άπειρο.

ΘΕΜΑ Δ (15515)

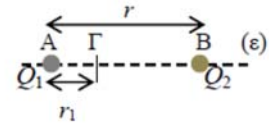
Ακίνητο σημειακό φορτίο Q δημιουργεί γύρω του ηλεκτρικό πεδίο. Ένα σημείο A του πεδίου απέχει απόσταση $r = 0,3 \text{ m}$ από το φορτίο αυτό. Η τιμή του δυναμικού του ηλεκτρικού πεδίου στο σημείο A είναι $V_A = 300 \text{ V}$.

- Δ1) Να βρείτε το φορτίο Q .
- Δ2) Να υπολογίσετε το μέτρο της έντασης του ηλεκτρικού πεδίου στο A.
- Δ3) Στο σημείο A τοποθετείται σημειακό θετικό φορτίο $q = 10^{-10} \text{ C}$. Το ηλεκτρικό φορτίο q μετακινείται από το σημείο A σε ένα άλλο σημείο B του πεδίου. Κατά τη μετακίνηση αυτή παράγεται έργο από τη δύναμη του ηλεκτρικού πεδίου $W_{A \rightarrow B} = 15 \cdot 10^{-9} \text{ J}$. Να βρείτε τη διαφορά δυναμικού $V_A - V_B$.

Δ4) Αν F_A είναι το μέτρο της δύναμης που δέχεται το φορτίο q όταν βρίσκεται στο σημείο A, και F_B το μέτρο της δύναμης που δέχεται το φορτίο q όταν βρίσκεται στο σημείο B να υπολογίσετε το λόγο $\frac{F_A}{F_B}$.

ΘΕΜΑ Δ (15520)

Δύο πολύ μικρά ηλεκτρικά φορτισμένα σφαιρίδια, με ηλεκτρικά φορτία $Q_1 = +2 \mu\text{C}$ και Q_2 αντίστοιχα, είναι ακίνητα πάνω σε μονωτικό οριζόντιο δάπεδο, στα σημεία A και B όπως φαίνεται στο διπλανό σχήμα. Τα φορτισμένα σφαιρίδια απέχουν μεταξύ τους $r = 90 \text{ cm}$. Το δυναμικό του συνολικού ηλεκτρικού πεδίου που δημιουργούν τα δύο φορτία είναι μηδέν σε σημείο Γ, το οποίο βρίσκεται στο εσωτερικό του ευθυγράμμου τμήματος AB. Δίνεται η απόσταση $AG = r_1 = 30 \text{ cm}$. (Θεωρούμε τα ηλεκτρικά φορτισμένα σφαιρίδια σαν σημειακά).



Δ1) Να προσδιορίσετε το ηλεκτρικό φορτίο Q_2 (τιμή και πρόσημο).

Δ2) Να υπολογίσετε την ένταση \vec{E}_Γ , του ηλεκτρικού πεδίου στο σημείο Γ.

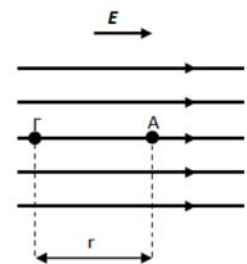
Στο σημείο Γ τοποθετούμε ένα σημειακό ηλεκτρικό φορτίο $q = -2 \mu\text{C}$, ενώ τα Q_1, Q_2 διατηρούνται ακίνητα.

Δ3) Να υπολογίσετε τη δύναμη \vec{F} που δέχεται το φορτίο q , από το συνολικό ηλεκτρικό πεδίο που δημιουργούν τα φορτία Q_1 και Q_2 .

Δ4) Να βρείτε το έργο της δύναμης του ηλεκτρικού πεδίου κατά την μετακίνηση του φορτίου q από το σημείο Γ στο μέσο M του ευθύγραμμου τμήματος (AB).

ΘΕΜΑ Δ (15521)

Ομογενές ηλεκτρικό πεδίο έχει ένταση μέτρου $E = 8 \cdot 10^5 \text{ N/C}$. Σε ένα σημείο A του πεδίου αυτού, που παριστάνεται στο διπλανό σχήμα, τοποθετούμε ακίνητο ένα σημειακό ηλεκτρικό φορτίο Q . Τότε, σε ένα σημείο Γ της δυναμικής γραμμής του αρχικού πεδίου που περνάει από το A, σε απόσταση $(AG) = r = 30 \text{ cm}$ από το A και σε κατεύθυνση αντίθετη με τη φορά της δυναμικής γραμμής, όπως φαίνεται και στο σχήμα, η ένταση του συνολικού ηλεκτρικού πεδίου που προκύπτει, μηδενίζεται. (Θεωρούμε ότι η ύπαρξη του φορτίου Q δεν επηρεάζει την κατανομή φορτίου που δημιουργεί το ομογενές ηλεκτρικό πεδίο)



Δ1) Να προσδιορίσετε το ηλεκτρικό φορτίο Q .

Δ2) Να βρείτε την ένταση του συνολικού ηλεκτρικού πεδίου στο μέσο Δ του ευθύγραμμου τμήματος (AG).

Κάποια στιγμή καταργούμε το ομογενές ηλεκτρικό πεδίο. Στη συνέχεια τοποθετούμε στο σημείο Δ, ένα σημειακό ηλεκτρικό φορτίο $q = -10 \mu\text{C}$.

Δ3) Να υπολογίσετε το έργο της δύναμης που δέχεται το ηλεκτρικό φορτίο q , από το ηλεκτρικό πεδίο που δημιουργεί το φορτίο Q , κατά τη μετακίνηση του φορτίου q από το σημείο Δ στο σημείο Γ.

ΘΕΜΑ Δ (15534)

Ένα ακίνητο σημειακό ηλεκτρικό φορτίο $Q = -10 \mu\text{C}$ βρίσκεται σε σημείο A ευθείας (ε) και απέχει 0,1 m από ένα άλλο σημείο B της ίδιας ευθείας. Στο σημείο B τοποθετούμε ένα δοκιμαστικό σημειακό ηλεκτρικό φορτίο $q = +1 \mu\text{C}$.

Δ1) Να σχεδιάσετε και να υπολογίσετε την ένταση του ηλεκτροστατικού πεδίου που δημιουργεί το ηλεκτρικό φορτίο Q στο σημείο B.

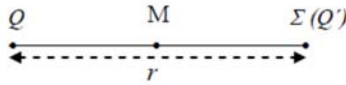
Δ2) Να σχεδιάσετε και να υπολογίσετε τη δύναμη που δέχεται το δοκιμαστικό σημειακό ηλεκτρικό φορτίο q , όταν το τοποθετούμε στο σημείο B.

Δ3) Να υπολογίσετε το δυναμικό του ηλεκτροστατικού πεδίου που δημιουργεί το ηλεκτρικό φορτίο Q στο σημείο B, αλλά και σε σημείο Γ που απέχει 0,3 m από το φορτίο Q .

Δ4) Να υπολογίσετε το έργο της δύναμης που ασκείται από το ηλεκτροστατικό πεδίο του φορτίου Q στο δοκιμαστικό ηλεκτρικό φορτίο q , για τη μετακίνηση του q από το B στο Γ.

ΘΕΜΑ Δ (15542)

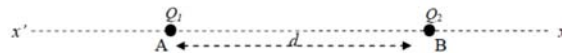
Σε ένα σημείο Σ ηλεκτροστατικού πεδίου, που δημιουργείται από ακίνητο σημειακό ηλεκτρικό φορτίο Q , το δυναμικό είναι $V_{\Sigma} = + 600 \text{ V}$ και το μέτρο της έντασης είναι $E_{\Sigma} = 200 \text{ N/C}$



- Δ1) Να υπολογίσετε την απόσταση r του σημείου Σ από το ηλεκτρικό φορτίο Q .
- Δ2) Να βρείτε τη τιμή και το πρόσημο του ηλεκτρικού φορτίου Q .
Στο σημείο Σ τοποθετείται ένα άλλο σημειακό ηλεκτρικό φορτίο Q' το οποίο δέχεται απωστική δύναμη από το ηλεκτρικό φορτίο Q . Το ηλεκτρικό φορτίο Q' συγκρατείται στο Σ ακίνητο.
- Δ3) Να υπολογίσετε τη τιμή του ηλεκτρικού φορτίου Q' , ώστε το συνολικό δυναμικό στο μέσο Μ του ευθύγραμμου τμήματος που ενώνει τα Q και Q' να είναι 6000 V .
- Δ4) Να βρείτε το μέτρο και τη κατεύθυνση της έντασης του ηλεκτρικού πεδίου που δημιουργούν τα δύο ηλεκτρικά φορτία στο σημείο Μ.

ΘΕΜΑ Δ (15549)

Δύο ακίνητα σημειακά ηλεκτρικά φορτία $Q_1 = 3 \mu\text{C}$ και $Q_2 = - 6 \mu\text{C}$, βρίσκονται αντίστοιχα στα σημεία Α, Β της ευθείας $x'x$ όπως φαίνεται στο σχήμα που ακολουθεί. Η απόσταση ανάμεσα στα δύο ηλεκτρικά φορτία είναι $d = 3 \text{ cm}$.



- Δ1) Να σχεδιάσετε τις δυνάμεις που αναπτύσσονται ανάμεσα στα δύο ηλεκτρικά φορτία Q_1 και Q_2 και στη συνέχεια να υπολογίσετε το μέτρο τους.
- Δ2) Να βρείτε ανάμεσα στα σημεία Α και Β, το σημείο Σ της ευθείας $x'x$, όπου το δυναμικό του ηλεκτρικού πεδίου των δύο ηλεκτρικών φορτίων Q_1 και Q_2 μηδενίζεται.
Τοποθετούμε στο σημείο Σ ένα σημειακό ηλεκτρικό φορτίο που φέρει φορτίο $q = 2 \cdot 10^{-9} \text{ C}$.
- Δ3) Να υπολογίσετε τη συνισταμένη δύναμη που δέχεται το ηλεκτρικό φορτίο η, από το ηλεκτρικό πεδίο των δύο ηλεκτρικών φορτίων Q_1 και Q_2 .
Μετακινούμε το ηλεκτρικό φορτίο q από το σημείο Σ στο άπειρο (σε σημείο εκτός του ηλεκτρικού πεδίου των δύο ηλεκτρικών φορτίων Q_1 και Q_2).
- Δ4) Να υπολογίσετε το έργο της δύναμης που δέχεται το ηλεκτρικό φορτίο q , από το ηλεκτρικό πεδίο των ηλεκτρικών φορτίων Q_1 και Q_2 , κατά τη μετακίνηση αυτή.


ΘΕΜΑ Δ (15552)

Ένα σωματίδιο είναι ακίνητο και φέρει ηλεκτρικό φορτίο $Q = 4 \mu\text{C}$.

- Δ1) Να υπολογίσετε την ένταση και το δυναμικό σε ένα σημείο Α του πεδίου που δημιουργεί το φορτίο Q και απέχει 2 cm από αυτό.
- Δ2) Στο σημείο Α τοποθετούμε σημειακό φορτίο $q_1 = - 2 \text{ nC}$. Να υπολογίσετε το μέτρο της δύναμης που θα δεχθεί το σημειακό φορτίο από το πεδίο.
- Δ3) Σε ένα δεύτερο σημείο Β, η ένταση του πεδίου που δημιουργεί το φορτίο Q , είναι υποτετραπλάσια από την ένταση του πεδίου στο σημείο Α. Να υπολογίσετε το δυναμικό στο σημείο Β.
- Δ4) Για ένα τρίτο σημείο Γ, ισχύει ότι το έργο της δύναμης του πεδίου για τη μετακίνηση ενός δοκιμαστικού ηλεκτρικού φορτίου q από το Α στο Γ, είναι το μισό από το έργο της δύναμης του πεδίου για τη μετακίνηση του ίδιου δοκιμαστικού φορτίου q από το Α στο Β. Να βρείτε την απόσταση του σημείου Γ από τη πηγή του πεδίου.

ΘΕΜΑ Δ (15554)

Ένα θετικό σημειακό ηλεκτρικό φορτίο $Q = 0,1 \mu\text{C}$ τοποθετείται ακίνητο στο σημείο Α, όπως φαίνεται στο παρακάτω σχήμα. Το σημείο Α απέχει $r_1 = 3 \text{ cm}$ από το σημείο Κ και $r_2 = 6 \text{ cm}$ από το σημείο Λ. Δίνεται ότι η ηλεκτρική σταθερά είναι:
Δίνεται η ηλεκτρική σταθερά $k = 9 \cdot 10^9 \text{ N} \cdot \text{m}^2/\text{C}^2$



- Δ1) Να υπολογίσετε το μέτρο της έντασης του ηλεκτροστατικού πεδίου που δημιουργεί το ηλεκτρικό φορτίο Q , στα σημεία Κ και Λ.
- Δ2) Να σχεδιάσετε τα αντίστοιχα διανύσματα της έντασης του ηλεκτροστατικού πεδίου στα σημεία Κ και Λ.
- Δ3) Να υπολογίσετε τη διαφορά δυναμικού $V_{ΚΛ}$ μεταξύ των σημείων Κ και Λ.
- Δ4) Ένα άλλο αρνητικό σημειακό ηλεκτρικό φορτίο $q = -2 \mu\text{C}$ μετακινείται από το σημείο Κ στο σημείο Λ. Να υπολογίσετε το έργο της δύναμης που δέχεται το ηλεκτρικό φορτίο q , από το ηλεκτρικό πεδίο του ηλεκτρικού φορτίου Q , κατά τη μετακίνηση αυτή.

ΘΕΜΑ Δ (15555)

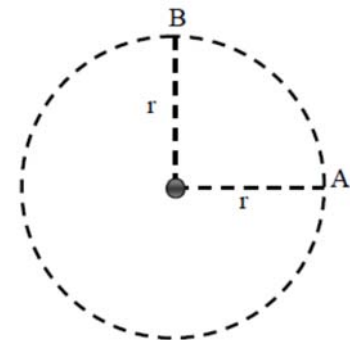
Ένα σημειακό και ακίνητο θετικό ηλεκτρικό φορτίο $q_1 = 16 \mu\text{C}$ βρίσκεται στο άκρο Α ευθυγράμμου τμήματος ΑΒ και ασκεί ηλεκτρική δύναμη σε ένα άλλο σημειακό και ακίνητο θετικό ηλεκτρικό φορτίο $q_2 = 1 \mu\text{C}$ που βρίσκεται στο άκρο Β του ευθυγράμμου τμήματος ΑΒ. Η απόσταση ΑΒ είναι ίση με 12 cm.

Δίνεται η ηλεκτρική σταθερά $k = 9 \cdot 10^9 \text{ N} \cdot \text{m}^2/\text{C}^2$

- Δ1) Να κάνετε ένα σχήμα όπου να φαίνονται τα ηλεκτρικά φορτία και οι ηλεκτρικές δυνάμεις που αναπτύσσονται ανάμεσά τους.
- Δ2) Να υπολογίσετε το μέτρο της ηλεκτρικής δύναμης που δέχεται κάθε ηλεκτρικό φορτίο.
- Δ3) Αν θεωρήσετε σαν πηγή του ηλεκτρικού πεδίου το φορτίο q_1 , να υπολογίσετε το μέτρο της έντασης του ηλεκτρικού πεδίου στο σημείο Β.
- Δ4) Να σχεδιάσετε το διάνυσμα της έντασης του ηλεκτρικού πεδίου στο μέσο Μ του ευθυγράμμου τμήματος ΑΒ και να υπολογίσετε το μέτρο της.

ΘΕΜΑ Δ (15558)

Το αρνητικό σημειακό και ακίνητο φορτίο Q του σχήματος έχει τιμή $-2 \mu\text{C}$. Δημιουργεί γύρω του ηλεκτρικό πεδίο. Για την απόσταση r ισχύει ότι $r = 10 \text{ cm}$



- Δ1) Να σχεδιάσετε τα διανύσματα της έντασης του πεδίου στα σημεία Α και Β και να υπολογίσετε το μέτρο τους.
- Δ2) Να βρείτε το δυναμικό στο σημείο Α.
- Δ3) Αν στο σημείο Α τοποθετήσουμε δοκιμαστικό φορτίο $q = -1 \mu\text{C}$, να υπολογίσετε και να σχεδιάσετε τη δύναμη που δέχεται το φορτίο αυτό.
- Δ4) Μετακινούμε το φορτίο η κατά μήκος της διαδρομής ΑΒ. Να υπολογίσετε το έργο της δύναμης του πεδίου για τη μετακίνηση του φορτίου η από το σημείο Α στο σημείο Β.

Δίνεται η ηλεκτρική σταθερά $k = 9 \cdot 10^9 \text{ N} \cdot \text{m}^2/\text{C}^2$

ΘΕΜΑ Δ (15580)

Δύο σημειακά ηλεκτρικά φορτία $Q_1 = 2 \mu\text{C}$ και $Q_2 = 8 \mu\text{C}$ συγκρατούνται ακλόνητα πάνω σε οριζόντιο μονωτικό δάπεδο, στα σημεία Α και Β αντίστοιχα, σε απόσταση $r = 30 \text{ cm}$ μεταξύ τους.

- Δ1) Να σχεδιάσετε το διάνυσμα της έντασης του συνολικού ηλεκτρικού πεδίου των δύο φορτίων στο μέσο Μ του ευθύγραμμου τμήματος ΑΒ και να υπολογίσετε το μέτρο της.
- Τοποθετούμε στο σημείο Μ ένα αρνητικό σημειακό ηλεκτρικό φορτίο $q = -2,5 \mu\text{C}$.
- Δ2) Να σχεδιάσετε το διάνυσμα της συνισταμένης δύναμης που δέχεται το φορτίο η και να υπολογίσετε το μέτρο της.
- Δ3) Να προσδιορίσετε το σημείο Σ εντός του ευθυγράμμου τμήματος ΑΒ, στο οποίο η ένταση του ηλεκτρικού πεδίου που οφείλεται στα δύο φορτία Q_1 και Q_2 είναι μηδέν.
- Δ4) Να υπολογίσετε το έργο της δύναμης του ηλεκτρικού πεδίου αν μετακινήσουμε το ηλεκτρικό φορτίο η από το σημείο Μ μέχρι το σημείο Σ.

Να υποθέσετε ότι μεταξύ των ηλεκτρικών φορτίων παρεμβάλλεται κενό (αέρας), οπότε η ηλεκτρική σταθερά είναι $k_{\eta\lambda} = 9 \cdot 10^9 \text{ N} \cdot \text{m}^2/\text{C}^2$ και ότι η παρουσία και κίνηση του τρίτου φορτίου η, δεν μεταβάλλει τα ηλεκτρικά πεδία των ακίνητων φορτίων και Q_1 και Q_2 .