

ΘΕΜΑ Δ (15652)

Δύο σφαίρες ίδιας μάζας, $m = 0,2 \text{ kg}$, κινούνται ευθύγραμμα και ομαλά σε λείο οριζόντιο επίπεδο σε αντίθετες κατευθύνσεις και με ταχύτητες μέτρων $v_1 = 6 \text{ m} \cdot \text{s}^{-1}$, $v_2 = 2 \text{ m} \cdot \text{s}^{-1}$ αντίστοιχα, ώστε να πλησιάζουν η μια την άλλη. Τη χρονική στιγμή $t = 0$ οι σφαίρες απέχουν μεταξύ τους 4 m. Η κρούση τους είναι πλαστική και η χρονική της διάρκεια θεωρείται αμελητέα.

- Δ1) Σχεδιάστε τις σφαίρες τη χρονική στιγμή $t = 0$ και υπολογίστε τα μέτρα των ορμών τους.
- Δ2) Ποια χρονική στιγμή θα γίνει η κρούση ;
- Δ3) Ποιο το μέτρο της ταχύτητας του συσσωματώματος αμέσως μετά την κρούση ;
- Δ4) Σχεδιάστε (σε κοινό διάγραμμα) τις γραφικές παραστάσεις για τις τιμές των ταχυτήτων των δύο σφαιρών και του συσσωματώματος σε συνάρτηση με το χρόνο, για το χρονικό διάστημα από 0 μέχρι 1 s. Να θεωρήσετε ως θετική την αρχική φορά κίνησης της σφαίρας με ταχύτητα v_1 .

ΘΕΜΑ Δ (15948)

Δύο σώματα με μάζες $m_1 = 0,4 \text{ kg}$ και $m_2 = 0,6 \text{ kg}$ κινούνται πάνω σε οριζόντιο επίπεδο με συντελεστή τριβής ολίσθησης $\mu = 0,2$. Τα σώματα κινούνται σε αντίθετες κατευθύνσεις και συγκρούονται πλαστικά, έχοντας ακριβώς πριν τη στιγμή της σύγκρουσης ταχύτητες μέτρων $v_1 = 20 \text{ m/s}$ και $v_2 = 5 \text{ m/s}$ αντίστοιχα.

- Δ1) Να υπολογίσετε και να σχεδιάσετε τις ορμές των δύο σωμάτων ακριβώς πριν την κρούση.
- Δ2) Να υπολογίσετε την ταχύτητα του συσσωματώματος αμέσως μετά την κρούση.
- Δ3) Να υπολογίσετε το χρονικό διάστημα για το οποίο το συσσωμάτωμα θα κινηθεί μετά την κρούση.
- Δ4) Να υπολογίσετε την αύξηση της θερμικής ενέργειας μετά την κρούση των σωμάτων λόγω της τριβής στο τραχύ δάπεδο.

Δίνεται η επιτάχυνση της βαρύτητας στην επιφάνεια της Γης $g = 10 \text{ m/s}^2$

ΘΕΜΑ Δ (15952)

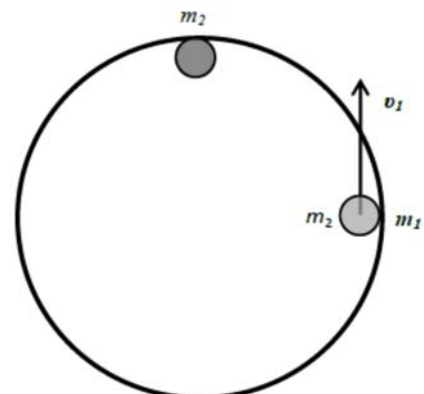
Μπαλάκι του τένις, μάζας m , αφήνεται να πέσει από ύψος h_1 από την επιφάνεια του εδάφους. Αφού χτυπήσει στο έδαφος αναπηδά και φτάνει σε ύψος h_2 από την επιφάνεια του εδάφους. Να υπολογίσετε :

- Δ1) το μέτρο της ταχύτητας που έχει το μπαλάκι ακριβώς πριν προσκρούσει στο έδαφος,
 - Δ2) τη μεταβολή της ορμής του (μέτρο και κατεύθυνση) κατά τη διάρκεια της πρόσκρουσης του στο έδαφος.
 - Δ3) Αν η μέση συνισταμένη δύναμη που ασκείται στο μπαλάκι κατά τη διάρκεια της πρόσκρουσης έχει μέτρο 6 N να υπολογιστεί η χρονική διάρκεια της πρόσκρουσης.
- Στη συνέχεια το μπαλάκι αναπηδά στο έδαφος για δεύτερη φορά.
- Δ4) Εάν γνωρίζετε ότι κατά τη διάρκεια της δεύτερης αυτής πρόσκρουσης χάνεται στο περιβάλλον το 50% της ενέργειας που είχε το μπαλάκι πριν την πρόσκρουση, να υπολογίσετε το νέο μέγιστο ύψος από το έδαφος h_3 , στο οποίο θα ανέβει.

Δίνεται η επιτάχυνση της βαρύτητας στην επιφάνεια της Γης $g = 10 \text{ m/s}^2$, $m = 100 \text{ g}$, $h_1 = 80 \text{ cm}$, $h_2 = 20 \text{ cm}$. Η αντίσταση του αέρα θεωρείται αμελητέα.

ΘΕΜΑ Δ (15955)

Δύο σφαιρίδια Σ_1 και Σ_2 με μάζες $m_1 = 4 \text{ kg}$ και $m_2 = 6 \text{ kg}$ αντίστοιχα μπορούν να κινούνται στο εσωτερικό κυκλικού δακτυλίου ακτίνας $R = 2 \text{ m}$ που είναι ακλόνητα στερεωμένος σε λείο οριζόντιο τραπέζι (κάτοψη του οποίου εικονίζεται στο σχήμα). Οι τριβές μεταξύ των σφαιριδίων και του κυκλικού δακτυλίου θεωρούνται αμελητέες, όπως και οι διαστάσεις τους. Αρχικά το σφαιρίδιο Σ_2 είναι ακίνητο, ενώ το Σ_1 εκτελεί ομαλή κυκλική κίνηση με φορά αντίθετη εκείνης των δεικτών του ρολογιού με ταχύτητα, μέτρου $v_1 = 5 \text{ m/s}$. Αν τα σφαιρίδια Σ_1 και Σ_2 συγκρουστούν πλαστικά, να υπολογίσετε :



- Δ1) Το μέτρο της ταχύτητας του συσσωματώματος μετά την κρούση καθώς και την περίοδο της κίνησης του.
- Δ2) Την απώλεια της μηχανικής ενέργειας κατά την διάρκεια της πλαστικής κρούσης.
- Δ3) Σε κάποια άλλη περίπτωση, αλλάζοντας το υλικό των σφαιριδίων, αλλά διατηρώντας τις μάζες τους, τα σφαιρίδια συγκρούονται χωρίς να δημιουργηθεί συσσωμάτωμα. Αν η ταχύτητα της σφαίρας m_2 αμέσως μετά την κρούση είναι 4 m/s , να υπολογίσετε την ταχύτητα της σφαίρας m_1 αμέσως μετά την κρούση. Να ελέγξετε αν στην κρούση αυτή διατηρείται η μηχανική ενέργεια του συστήματος των δύο σφαιρών.
- Δ4) Ποιο είναι το μήκος του τόξου που διανύει το κάθε ένα από τα δύο σώματα μέχρι την επόμενη σύγκρουσή τους;

ΘΕΜΑ Δ (15956)



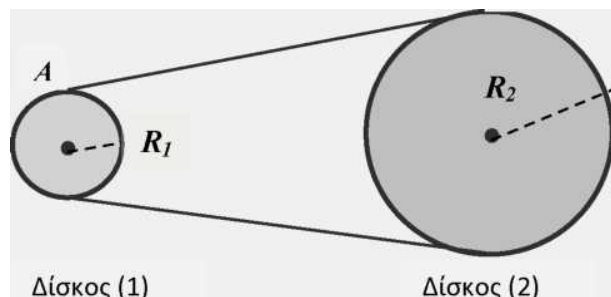
Σε οριζόντιο επίπεδο βρίσκεται ακίνητο ένα μήλο μάζας $M = 200 \text{ g}$. Ένα μικρό βέλος μάζας $m = 40 \text{ g}$ κινείται οριζόντια με ταχύτητα μέτρου, $v_1 = 10 \text{ m/s}$, χτυπά το μήλο με αποτέλεσμα να το διαπεράσει. Αν γνωρίζετε ότι η χρονική διάρκεια της διάτρησης είναι $\Delta t = 0,1 \text{ s}$ και ότι το βέλος εξέρχεται από μήλο με ταχύτητα, μέτρου $v_2 = 2 \text{ m/s}$, να υπολογίσετε :

- Δ1) το μέτρο της ορμής του μήλου ακριβώς μετά την έξοδο του βέλους από αυτό,
- Δ2) τη μεταβολή της ορμής του βέλους εξαιτίας της διάτρησης,
- Δ3) τη μέση δύναμη που ασκείται από το βέλος στο μήλο κατά τη χρονική διάρκεια της διάτρησης καθώς και τη μέση δύναμη που ασκείται από το μήλο στο βέλος στην ίδια χρονική διάρκεια,
- Δ4) Το ποσοστό της αρχικής κινητικής ενέργειας του βέλους που μεταφέρεται στο περιβάλλον του συστήματος μήλο-βέλος κατά τη διάρκεια της διάτρησης.

Για την επίλυση του προβλήματος θεωρήστε το βέλος αλλά και το μήλο ως υλικά σημεία.

ΘΕΜΑ Δ

Στο σχήμα φαίνονται δύο δίσκοι με ακτίνες $R_1 = 0,2 \text{ m}$ και $R_2 = 0,4 \text{ m}$ αντίστοιχα, οι οποίοι συνδέονται μεταξύ τους με μη ελαστικό λουρί. Οι δίσκοι περιστρέφονται γύρω από σταθερούς άξονες που διέρχονται από το κέντρο τους και είναι κάθετοι στο επίπεδο τους. Αν η περίοδος περιστροφής του δίσκου (2) είναι σταθερή και ίση με $T_2 = 0,05\pi \text{ s}$, να υπολογίσετε :



- Δ1) το μέτρο της ταχύτητας των σημείων A και B της περιφέρειας των δίσκων,
- Δ2) το μέτρο της γωνιακής ταχύτητας του δίσκου (1),
- Δ3) το λόγο των μέτρων των κεντρομόλων επιταχύνσεων των σημείων A και B : $\frac{\alpha_{1,A}}{\alpha_{2,B}}$,
- Δ4) τον αριθμό των περιστροφών που έχει εκτελέσει ο δίσκος (1), όταν ο δίσκος (2) έχει εκτελέσει 10 περιστροφές.

ΘΕΜΑ Δ (15961)

Μια βόμβα μάζας $m = 3 \text{ kg}$ βρίσκεται στιγμιαία ακίνητη σε ύψος $H = 500 \text{ m}$ από την επιφάνεια της Γης. Τη στιγμή εκείνη εκρήγνυται σε δύο κομμάτια. Το πρώτο κομμάτι έχει μάζα $m_1 = 2 \text{ kg}$ και εκτοξεύεται οριζόντια με αρχική ταχύτητα $v_1 = 40 \text{ m/s}$.

- Δ1) Να υπολογίσετε με πόση ταχύτητα εκτοξεύεται το δεύτερο κομμάτι.
- Δ2) Να υπολογίσετε την ταχύτητα, σε μέτρο και κατεύθυνση, του δεύτερου κομματιού, 6 s μετά από την έκρηξη.
- Δ3) Ποια χρονική στιγμή φτάνει το κάθε κομμάτι στο έδαφος; Σχολιάστε το αποτέλεσμα.
- Δ4) Εάν το πρώτο κομμάτι φτάνει στο έδαφος στο σημείο A και το άλλο στο σημείο B να υπολογίσετε την απόσταση AB.

ΘΕΜΑ Δ (15965)

Ανεμογεννήτρια οριζοντίου άξονα περιστροφής έχει τα εξής χαρακτηριστικά: Ύψος πύργου $H = 18 \text{ m}$ (δηλαδή απόσταση από το έδαφος μέχρι το κέντρο της κυκλικής τροχιάς), ακτίνα έλικας $R = 2 \text{ m}$, ενώ πραγματοποιεί 60 περιστροφές ανά λεπτό.

Δ1) Να υπολογίσετε τη γωνιακή ταχύτητα περιστροφής της έλικας.

Στην άκρη της έλικας έχει κολλήσει ένα (σημειακό) κομμάτι λάσπης.

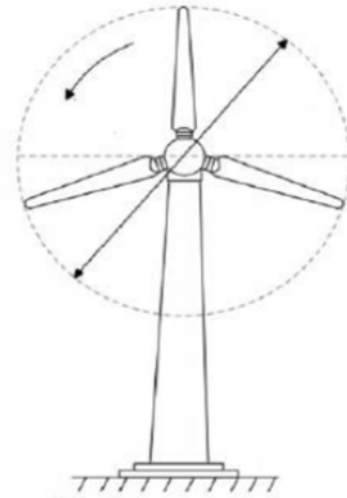
Δ2) Να υπολογίσετε τη γραμμική ταχύτητα και την κεντρομόλο επιτάχυνση του κομματιού της λάσπης.

Τη στιγμή που η λάσπη περνάει από το ανώτερο σημείο της τροχιάς της ξεκολλάει κι εγκαταλείπει την έλικα.

Δ3) Τι είδους κίνηση θα εκτελέσει;

Δ4) Μετά από πόσο χρόνο θα φτάσει στο έδαφος και με τι ταχύτητα;

Δίνεται η επιτάχυνση της βαρύτητας στην επιφάνεια της Γης $g = 10 \text{ m/s}^2$. Θεωρήστε $\pi^2 = 10$. Επίσης θεωρήστε αμελητέα την αντίσταση του αέρα.



ΘΕΜΑ Δ (15967)

Τη χρονική στιγμή $t_0 = 0$ σώμα μάζας $m_1 = 0,4 \text{ kg}$ βάλλεται οριζόντια με ταχύτητα μέτρου $v_1 = 30 \text{ m/s}$ από ύψος 160 m από το έδαφος. Ταυτόχρονα από το έδαφος βάλλεται κατακόρυφα προς τα επάνω ένα δεύτερο σώμα μάζας $m_2 = 0,1 \text{ kg}$ με ταχύτητα μέτρου $v_2 = 40 \text{ m/s}$. Όταν το m_2 φτάσει στο μέγιστο ύψος της τροχιάς του, τα δύο σώματα συγκρούονται πλαστικά. Να υπολογίσετε:

Δ1) Το μέγιστο ύψος που φτάνει το m_2 και τη χρονική στιγμή t_1 της κρούσης.

Δ2) Την ταχύτητα του σώματος m_1 (σε μέτρο και κατεύθυνση, υπολογίζοντας τη γωνία που σχηματίζει το διάνυσμα της ταχύτητας του σώματος m_1 με τον οριζόντιο άξονα) τη χρονική στιγμή t_1

Δ3) Να αποδείξετε ότι τη χρονική στιγμή που το σώμα μάζας m_2 φτάνει στο μέγιστο ύψος του, το σώμα m_1 βρίσκεται επίσης στο ίδιο ύψος.

Δ4) Την ταχύτητα του συσσωματώματος (σε μέτρο και κατεύθυνση, υπολογίζοντας τη γωνία που σχηματίζει το διάνυσμα της ταχύτητας του συσσωματώματος με τον οριζόντιο άξονα) αμέσως μετά την κρούση.

Δίνεται η επιτάχυνση της βαρύτητας στην επιφάνεια της γης $g = 10 \text{ m/s}^2$. Η αντίσταση του αέρα θεωρείται αμελητέα.

ΘΕΜΑ Δ (15969)

Σώμα μάζας $m_1 = 2 \text{ kg}$ αφήνεται από κάποιο ύψος και μετά από 3 s χτυπάει με ταχύτητα μέτρου v_1 στο έδαφος. Το σώμα αναπηδά με ταχύτητα μέτρου $v_2 = 20 \text{ m/s}$. Καθώς ανεβαίνει και σε ύψος 15 m από το έδαφος, συγκρούεται πλαστικά με άλλο σώμα μάζας $m_2 = 3 \text{ kg}$ που συγκρατείται ακίνητο στο ύψος αυτό, και τη στιγμή της κρούσης απελευθερώνεται. Να υπολογίσετε:

Δ1) την ταχύτητα v_1 καθώς και το αρχικό ύψος από το οποίο αφέθηκε το σώμα m_1 ,

Δ2) τη μέση συνισταμένη δύναμη που δέχτηκε το σώμα μάζας m_1 κατά την κρούση του με το έδαφος, εάν ο χρόνος επαφής με αυτό ήταν $0,1 \text{ s}$,

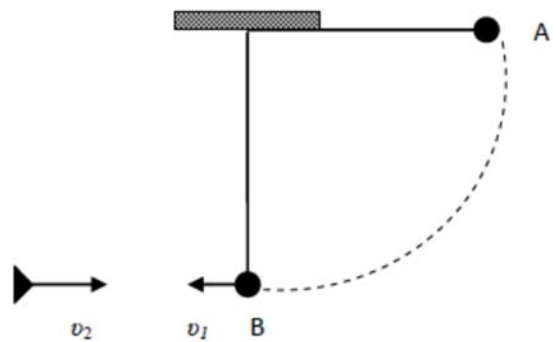
Δ3) την ταχύτητα του συσσωματώματος αμέσως μετά την κρούση,

Δ4) το μέγιστο ύψος από το έδαφος που θα φθάσει το συσσωμάτωμα,

Δίνεται η επιτάχυνση της βαρύτητας στην επιφάνεια της γης $g = 10 \text{ m/s}^2$. Η αντίσταση του αέρα θεωρείται αμελητέα.

ΘΕΜΑ Δ (15971)

Σώμα μάζας $m_1 = 2 \text{ kg}$ είναι δεμένο στο άκρο νήματος μήκους $l = 1,25 \text{ m}$. Το σώμα αφήνεται από το σημείο A, με το νήμα οριζόντιο, και διαγράφει το τεταρτοκύκλιο που φαίνεται στο σχήμα. Διερχόμενο από το κατώτερο σημείο της τροχιάς του B, όπου η ταχύτητά του έχει μέτρο v_1 , συγκρούεται πλαστικά με σώμα μάζας $m_2 = 3 \text{ kg}$ που κινείται με ταχύτητα \vec{v}_2 αντίθετης κατεύθυνσης από την \vec{v}_1 . Το συσσωμάτωμα που δημιουργείται κινείται με ταχύτητα μέτρου $V = 4 \text{ m/s}$, με κατεύθυνση ίδια με την κατεύθυνση της ταχύτητας \vec{v}_2 . Να υπολογίσετε:



Δ1) Το μέτρο της ταχύτητας \vec{v}_1 .

Δ2) Την τάση του νήματος καθώς το σώμα m_1 διέρχεται από το σημείο B.

Δ3) Το μέτρο της ταχύτητας \vec{v}_2 .

Δ4) Την αύξηση της θερμικής ενέργειας κατά την κρούση.

ΘΕΜΑ Δ (15974)

Ένας ξύλινος στόχος μάζας $M = 5 \text{ kg}$ βρίσκεται ακίνητος σε λείο οριζόντιο δάπεδο. Βλήμα μάζας $m = 0,1 \text{ kg}$ λίγο πριν την κρούση με το στόχο, έχει οριζόντια προς τα δεξιά ταχύτητα με μέτρο 200 m/s . Το βλήμα διαπερνά το στόχο και εξέρχεται από αυτόν με οριζόντια ταχύτητα μέτρου 100 m/s , ομόρροπη της αρχικής του ταχύτητας.

Δ1) Να βρεθεί η ταχύτητα την οποία αποκτά ο στόχος αμέσως μετά τη σύγκρουση.

Δ2) Να βρεθεί το ποσό της κινητικής ενέργειας που μετατράπηκε σε θερμότητα εξ αιτίας της συγκρούσεως.

Υποθέτουμε ότι οι δυνάμεις που αναπτύσσονται μεταξύ του στόχου και του βλήματος, όταν το βλήμα διαπερνά το στόχο, είναι χρονικά σταθερές.

Δ3) Αν ο χρόνος που χρειάστηκε το βλήμα να διαπεράσει το στόχο είναι $\Delta t = 0,01 \text{ s}$, να βρείτε το μέτρο της δύναμης που ασκείται από το βλήμα στο στόχο.

Δ4) Ο στόχος βρίσκεται στην άκρη ενός τραπέζιου, οπότε μετά την κρούση εκτελεί οριζόντια βολή. Όταν ο στόχος πέφτει στο δάπεδο, τότε το μέτρο της ταχύτητάς του είναι διπλάσιο από το μέτρο της ταχύτητας που έχει αμέσως μετά τη σύγκρουσή του με το βλήμα. Να βρεθεί το ύψος του τραπέζιου.

ΘΕΜΑ Δ (15978)

Ένα τρένακι αποτελείται από δύο μικρά βαγόνια και μπορεί να κινείται με ομαλή κυκλική κίνηση σε κυκλικές ράγες ακτίνας $r = \frac{2}{\pi} \text{ m}$ με περίοδο $T = 2 \text{ s}$.

Δ1) Να υπολογίσετε το μέτρο της γραμμικής ταχύτητας περιστροφής του αντικειμένου.

Κάποια χρονική στιγμή το τρένο υφίσταται μια μικρή έκρηξη και τα δύο βαγόνια αποχωρίζονται μεταξύ τους, ενώ συνεχίζουν να κινούνται στις κυκλικές ράγες. Η μάζα και των δύο μαζί είναι $m = 3 \text{ kg}$ ενώ η μάζα του μπροστινού βαγονιού είναι $m = 1 \text{ kg}$. Το μπροστινό βαγόνι μετά την έκρηξη κινείται με ταχύτητα μέτρου $v = 12 \text{ m/s}$ στην ίδια κατεύθυνση με την κατεύθυνση κίνησης του τρένου.

Δ2) Να υπολογίσετε την τιμή της ταχύτητας του άλλου βαγονιού.

Δ3) Να βρείτε το ποσό της ενέργειας που ελευθερώνεται κατά την έκρηξη.

Δ4) Πόση γωνία θα έχει διαγράψει το κάθε βαγόνι μέχρι να συναντηθούν για πρώτη φορά, μετά την έκρηξη;

Στην επίλυση του προβλήματος θεωρούμε τα βαγόνια ως υλικά σημεία.

ΘΕΜΑ Δ (15979)

Ένα βλήμα μάζας $m = 0,1 \text{ kg}$ κινείται με οριζόντια ταχύτητα μέτρου $v = 100 \text{ m/s}$ και προσκρούει σε ακίνητο στόχο μάζας $M = 4,9 \text{ kg}$ οπότε και δημιουργείται συσσωμάτωμα. Να βρείτε:

- Δ1) Την ταχύτητα του συσσωματώματος.
- Δ2) Τη θερμότητα η οποία ελευθερώθηκε λόγω της σύγκρουσης.
- Δ3) Το μέτρο της μεταβολής της ορμής για κάθε σώμα ξεχωριστά κατά τη διάρκεια της σύγκρουσης.
- Δ4) Το βλήμα διανύει μέσα στο στόχο απόσταση 1 m . Να βρεθεί η μέση δύναμη που ασκείται από το στόχο στο βλήμα κατά της διάρκεια της ενσωμάτωσής του, αν υποθεθεί ότι το βλήμα και ο στόχος εκτελούν ευθύγραμμες ομαλά μεταβαλλόμενες κινήσεις κατά τη χρονική διάρκεια της σύγκρουσης.

ΘΕΜΑ Δ (15980)

Δύο σώματα με μάζες $m_1 = 1 \text{ kg}$ και $m_2 = 2 \text{ kg}$ κινούνται το ένα προς το άλλο, σε λείο οριζόντιο επίπεδο με ταχύτητες μέτρου 4 m/s και 3 m/s και σε αντίθετες κατευθύνσεις. Τα σώματα κουβαλούν μικροποσότητες εκρηκτικών, τα οποία ενδέχεται να εκραγούν κατά τη μεταξύ τους σύγκρουση. Παρατηρούμε ότι μετά τη σύγκρουσή τους η ταχύτητα του σώματος 1 έχει μέτρο 8 m/s και κατεύθυνση αντίθετη από την αρχική κατεύθυνση κίνησης του σώματος 1. Να βρείτε:

- Δ1) Την ταχύτητα του σώματος 2 μετά τη σύγκρουση.
- Δ2) Τη μεταβολή της ορμής κατά μέτρο για κάθε σώμα ξεχωριστά.
- Δ3) Τη μέση δύναμη που ασκεί το κάθε σώμα στο άλλο, αν η σύγκρουση διαρκεί $\Delta t = 0,01 \text{ s}$.
- Δ4) Κατά τη σύγκρουση εξερράγη κάποια ποσότητα εκρηκτικού ή απλώς παράχθηκε κάποιο ποσό θερμικής ενέργειας λόγω της σύγκρουσης;

Να προσδιορίσετε το ποσό της θερμότητας που παράχθηκε λόγω της σύγκρουσης ή της ελάχιστης ενέργειας που ελευθερώθηκε από το εκρηκτικό, με βάση την απάντησή σας στο προηγούμενο ερώτημα.

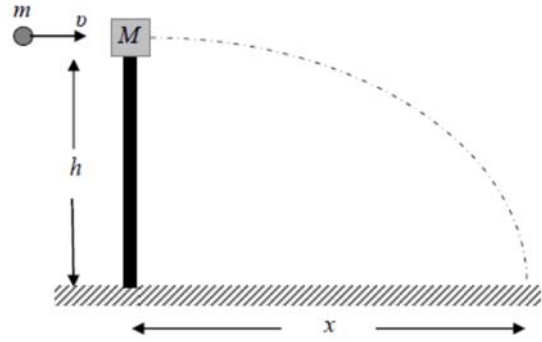
ΘΕΜΑ Δ (15982)

Σώμα βρίσκεται στην οριζόντια ταράτσα ουρανοξύστη και εκτελεί ομαλή κυκλική κίνηση σε κύκλο ακτίνας $r = \frac{5}{\pi} \text{ m}$ με περίοδο $T = 0,5 \text{ s}$. Να βρείτε:

- Δ1) Το μέτρο της γραμμικής ταχύτητας του σώματος.
Κάποια χρονική στιγμή το σκοινί το οποίο κρατάει το σώμα στην κυκλική τροχιά κόβεται, με αποτέλεσμα αυτό να διαφύγει εκτελώντας οριζόντια βολή. Να βρείτε:
- Δ2) Την ταχύτητα του σώματος κατά μέτρο και κατεύθυνση 2 s αφού εγκαταλείψει την οροφή της πολυκατοικίας.
- Δ3) Την απόσταση από το σημείο που διέφυγε από την ταράτσα μέχρι το σημείο που βρίσκεται τη χρονική στιγμή που περιγράφεται στο ερώτημα Δ2.
- Δ4) Παρατηρούμε ότι το σώμα πέφτει στο οριζόντιο έδαφος με γωνία ως προς αυτό θ για την οποία ισχύει: $\varepsilon\phi \theta = 2$. Να βρείτε το ημίγιο της κατακόρυφης απόστασης του σημείου βολής από το έδαφος προς τη μέγιστη οριζόντια μετατόπιση (βεληνεκές) του σώματος .

ΘΕΜΑ Δ (15985)

Ο καθηγητής της φυσικής μιας σχολής αξιωματικών του στρατού θέτει ένα πρόβλημα σχετικά με το πώς οι φοιτητές, αξιοποιώντας τις γνώσεις τους από το μάθημα, θα μπορούσαν να υπολογίσουν την ταχύτητα v του βλήματος ενός πιστολιού. Ο καθηγητής υποδεικνύει στους φοιτητές την παρακάτω διαδικασία: Το βλήμα μάζας m εκτοξεύεται οριζόντια και σφηνώνεται σε ένα κομμάτι ξύλου, μάζας M , που ισορροπεί ελεύθερο στην κορυφή ενός στύλου ύψους h . Οι μάζες m και M μετρώνται με ζύγισμα και το ύψος h μετράται με μετροταινία. Το συσσωμάτωμα αμέσως μετά την κρούση εκτελεί οριζόντια βολή και χτυπάει στο έδαφος σε οριζόντια απόσταση x από τη βάση του στύλου, αφήνοντας ένα σημάδι στο χώμα ώστε να είναι δυνατή η μέτρηση αυτής της απόστασης x . Οι φοιτητές έκαναν τη διαδικασία και τις μετρήσεις που τους υπέδειξε ο καθηγητής τους και βρήκαν τις τιμές $m = 0,1$ kg, $M = 1,9$ kg, $h = 5$ m και $x = 10$ m. Λαμβάνοντας υπόψη τις προηγούμενες τιμές των μεγεθών που μετρήθηκαν από τους φοιτητές, και θεωρώντας την αντίσταση του αέρα αμελητέα, να υπολογίσετε:



Δ1) Το χρονικό διάστημα που πέρασε από την στιγμή της κρούσης μέχρι το συσσωμάτωμα να αγγίξει το έδαφος.
 Δ2) Το μέτρο της οριζόντιας ταχύτητας V την οποία απέκτησε το συσσωμάτωμα αμέσως μετά την κρούση.
 Δ3) Το μέτρο της ταχύτητας v του βλήματος πριν σφηνωθεί στο ξύλο.
 Δ4) Την απώλεια της μηχανικής ενέργειας του συστήματος βλήμα-ξύλο κατά την κρούση.

ΘΕΜΑ Δ (15986)

Μία οβίδα μάζας 3 kg εκτοξεύεται από το σημείο Α του οριζώντιου εδάφους κατακόρυφα προς τα πάνω. Όταν φθάνει στο ανώτερο σημείο Ο της τροχιάς της, δηλαδή έχει στιγμιαία ταχύτητα μηδέν, σπάει ακαριαία, λόγω εσωτερικής έκρηξης, σε δύο κομμάτια με μάζες $m_1 = 1$ kg και $m_2 = 2$ kg. Το σημείο Ο βρίσκεται σε ύψος 20 m από το έδαφος. Το κομμάτι μάζας m_1 αποκτά αμέσως μετά την έκρηξη οριζόντια ταχύτητα μέτρου 10 m/s με φορά προς τα δεξιά ενός παρατηρητή. Τα κομμάτια m_1 και m_2 κινούνται και πέφτουν στο έδαφος στα σημεία Κ και Λ αντιστοίχως. Να υπολογίσετε:

- Δ1) Το μέτρο και την κατεύθυνση της ταχύτητας που αποκτά το κομμάτι μάζας m_2 αμέσως μετά την έκρηξη.
 Δ2) Το χρονικό διάστημα που κινείται κάθε κομμάτι από τη στιγμή της έκρηξης μέχρι να αγγίξει το έδαφος.
 Δ3) Την απόσταση ΚΛ.
 Δ4) Το μέτρο της ταχύτητας του κομματιού μάζας m_1 ακριβώς πριν ακουμπήσει στο σημείο Κ του εδάφους.

ΘΕΜΑ Δ (15988)

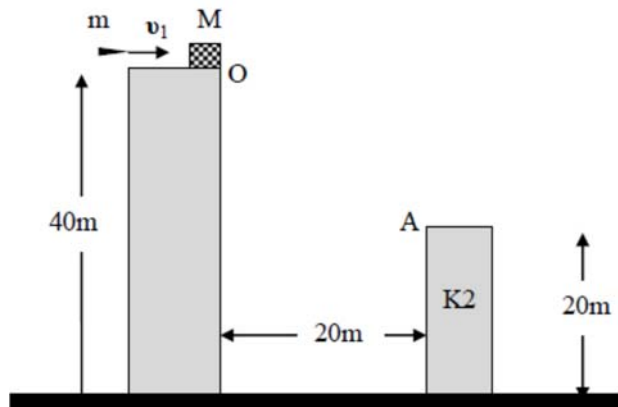
Μικρή σφαίρα μάζας 0,1 kg αφήνεται από ύψος h να πέσει ελεύθερα πάνω σε οριζόντιο δάπεδο. Η σφαίρα προσκρούει στο δάπεδο με ταχύτητα μέτρου $v_1 = 5$ m/s και αναπηδά κατακόρυφα έχοντας αμέσως μόλις χάσει την επαφή της με το δάπεδο, ταχύτητα μέτρου $v_2 = 2$ m/s. Η χρονική διάρκεια της επαφής της σφαίρας με το δάπεδο είναι 0,1 s. Να υπολογιστούν:

- Δ1) Η μεταβολή της ορμής της σφαίρας (κατά μέτρο και κατεύθυνση) κατά την κρούση της με το δάπεδο.
 Δ2) Η μέση τιμή της δύναμης που ασκήθηκε από το δάπεδο στη σφαίρα κατά την κρούση.
 Δ3) Το ύψος h από το οποίο αφέθηκε η σφαίρα.
 Δ4) Το % ποσοστό της αρχικής μηχανικής ενέργειας της σφαίρας που μεταφέρθηκε στο περιβάλλον κατά την κρούση.

Δίνονται η επιτάχυνση της βαρύτητας στην επιφάνεια της Γης $g = 10$ m/s² και ότι η αντίσταση του αέρα θεωρείται αμελητέα. Θεωρήστε ως επίπεδο δυναμικής ενέργειας μηδέν, το επίπεδο του δαπέδου.

ΘΕΜΑ Δ (15989)

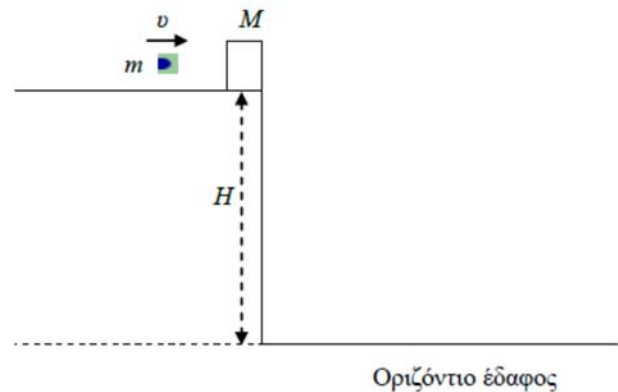
Ένας ξύλινος κύβος μάζας $M = 1 \text{ kg}$ ισορροπεί στην άκρη της ταράτσας στο σημείο O ενός κτηρίου $K1$ ύψους 40 m . Κάποια στιγμή, που τη θεωρούμε ως αρχή μέτρησης του χρόνου $t = 0$, ένα βλήμα μάζας $m = 0,1 \text{ kg}$, το οποίο κινείται με οριζόντια ταχύτητα μέτρου $v_1 = 200 \text{ m/s}$, διαπερνά ακαριαία τον κύβο και εξέρχεται από αυτόν με οριζόντια ταχύτητα μέτρου v_2 , ενώ ο κύβος αποκτά οριζόντια ταχύτητα μέτρου V . Ο κύβος εκτελεί στη συνέχεια οριζόντια βολή και καθώς κινείται συναντά ένα κτήριο $K2$ ύψους 20 m , οπότε προσκρούει στο σημείο A της ταράτσας, που είναι το πλησιέστερο σημείο της στο κτήριο $K1$. Τα κτήρια απέχουν 20 m , όπως φαίνεται στο σχήμα. Να υπολογιστούν:



- Δ1) η χρονική στιγμή της πρόσκρουσης του κύβου στο σημείο A ,
- Δ2) το μέτρο V της ταχύτητας του κύβου αμέσως μετά τη διέλευση του βλήματος,
- Δ3) το μέτρο της ταχύτητας του κύβου πριν ακριβώς προσκρούσει στο σημείο A ,
- Δ4) η απώλεια της μηχανικής ενέργειας του συστήματος βλήμα-κύβος κατά τη διέλευση του βλήματος από τον κύβο.

ΘΕΜΑ Δ (15992)


Ένα ξύλινο κιβώτιο μάζας $M = 20 \text{ kg}$ βρίσκεται ακίνητο στην άκρη της ταράτσας ενός ουρανοξύστη η οποία βρίσκεται σε ύψος $H = 80 \text{ m}$ πάνω από το οριζόντιο έδαφος, όπως φαίνεται στο παρακάτω σχήμα. Ένα βλήμα μάζας $m = 500 \text{ g}$, που κινείται με οριζόντια ταχύτητα μέτρου $v = 200 \text{ m/s}$, συγκρούεται με το ακίνητο κιβώτιο, το διαπερνά και εξέρχεται απ' αυτό με ταχύτητα \vec{v}_1 που έχει μέτρο υποδιπλάσιο της ταχύτητας v . Αμέσως μετά τη κρούση και τα δύο σώματα (ξύλινο κιβώτιο και βλήμα), εκτελούν οριζόντια βολή.



- Δ1) Να υπολογίσετε την ταχύτητα του κιβωτίου αμέσως μετά την κρούση.
 - Δ2) Να υπολογίσετε τη θερμότητα που απελευθερώθηκε στο περιβάλλον λόγω της κρούσης του βλήματος με το κιβώτιο.
 - Δ3) Αν υποθέσετε ότι η χρονική διάρκεια της κίνησης του βλήματος μέσα στο κιβώτιο είναι $\Delta t = 0,1 \text{ s}$, να υπολογίσετε τη μέση δύναμη F , που δέχθηκε το βλήμα από το κιβώτιο.
- Το κιβώτιο αλλά και το βλήμα μετά την οριζόντια βολή που εκτελούν, πέφτουν στο έδαφος στα σημεία A και B αντίστοιχα.
- Δ4) Να υπολογίσετε την απόσταση AB .

ΘΕΜΑ Δ (15993)

Ένα κιβώτιο μάζας $M = 970 \text{ g}$ βρίσκεται ακίνητο πάνω σε οριζόντιο δάπεδο με το οποίο εμφανίζει συντελεστή τριβής ολίσθησης $\mu = 0,2$. Βλήμα μάζας $m = 30 \text{ g}$ κινείται με οριζόντια ταχύτητα μέτρου $v = 200 \text{ m/s}$, συγκρούεται με το ακίνητο κιβώτιο και σφηνώνεται σ' αυτό, οπότε δημιουργείται συσσωμάτωμα.



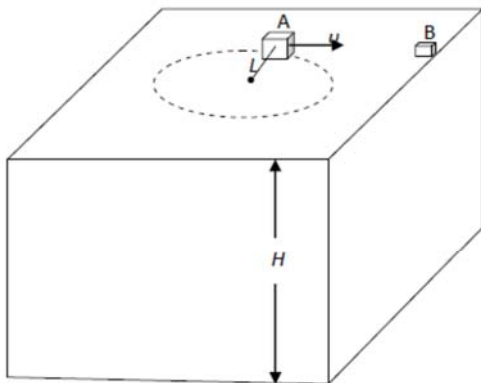
- Δ1) Να υπολογίσετε το μέτρο της ταχύτητας με την οποία ξεκινά να κινείται το συσσωμάτωμα.
- Δ2) Να βρείτε το μέτρο της μέσης δύναμης F που ασκείται από το βλήμα στο κιβώτιο, αν το βλήμα ακινητοποιήθηκε μέσα στο κιβώτιο σε χρονικό διάστημα $\Delta t = 0,01 \text{ s}$.

- Δ3) Να υπολογίσετε την απώλεια της κινητικής ενέργειας του συστήματος κιβώτιο-βλήμα λόγω της κρούσης.
 Δ4) Να βρείτε το διάστημα που θα διανύσει το συσσωμάτωμα, αμέσως μετά την κρούση, μέχρι να σταματήσει.

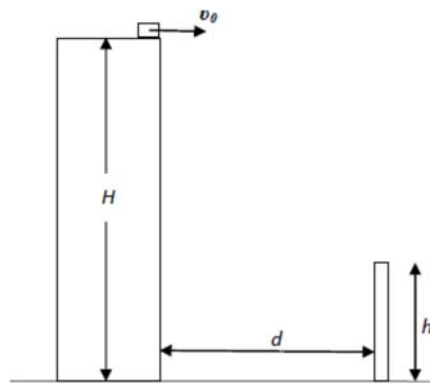
ΘΕΜΑ Δ (15997)

Η ταράτσα ενός κτιρίου βρίσκεται σε ύψος $H = 20$ m από το έδαφος. Ένα κουτί A μάζας $m_1 = 3$ kg είναι δεμένο σε σχοινί μήκους L και κάνει ομαλή κυκλική κίνηση κινούμενο πάνω στην επιφάνεια της ταράτσας (βλ. σχήμα 1). Το κουτί κινείται με ταχύτητα $v = 20$ m/s και κάνει μία πλήρη περιστροφή σε χρόνο $0,2\pi$ s. Στην κατάλληλη θέση το σχοινί κόβεται ώστε το κουτί A αφού ολισθήσει να συγκρουστεί πλαστικά με ένα άλλο κουτί B μάζας $m_2 = 1$ kg που βρίσκεται στην άκρη της ταράτσας. Αμέσως μετά την σύγκρουση το συσσωμάτωμα εγκαταλείπει την ταράτσα με οριζόντια ταχύτητα μέτρου v_0 .

- Δ1) Να υπολογίσετε το μήκος του σχοινού που είναι δεμένο το κουτί A.
 Δ2) Να υπολογίσετε την ταχύτητα v_0 με την οποία το συσσωμάτωμα εγκαταλείπει την ταράτσα καθώς και πόσο μακριά από το κτίριο το συσσωμάτωμα χτυπά το έδαφος.
 Δ3) Να υπολογίσετε την ταχύτητα με την οποία το συσσωμάτωμα χτυπά το έδαφος (μέτρο και κατεύθυνση).
 Δ4) Έστω ότι σε απόσταση $d = 15$ m από την βάση του κτιρίου βρίσκεται στύλος ύψους $h = 6$ m (Σχήμα 2). Ο στύλος βρίσκεται στο ίδιο επίπεδο με την τροχιά του συσσωματώματος. Να αιτιολογήσετε αν το συσσωμάτωμα θα χτυπήσει στο στύλο ή αν θα περάσει πάνω από αυτόν. Να θεωρήσετε την αντίσταση του αέρα αμελητέα και να αγνοήσετε την τριβή για όλη την κίνηση του κουτιού A πάνω στην ταράτσα.



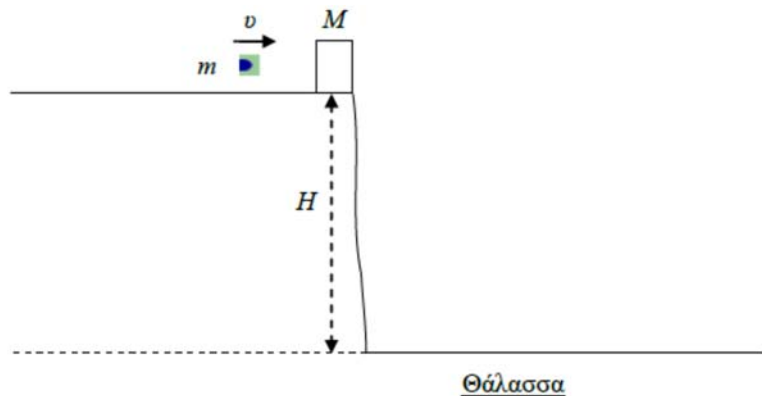
Σχήμα 1.



Σχήμα 2.

ΘΕΜΑ Δ (15995)

Ένα ξύλινο κιβώτιο μάζας $M = 1,95$ kg βρίσκεται ακίνητο στην άκρη κατακόρυφης χαραδράς η οποία βρίσκεται σε ύψος $H = 45$ m, πάνω από την επιφάνεια της θάλασσας, όπως φαίνεται στο παρακάτω σχήμα. Βλήμα μάζας $m = 50$ g, που κινείται με οριζόντια ταχύτητα $v = 100$ m/s συγκρούεται με το ακίνητο κιβώτιο και σφηνώνεται σ' αυτό. Στη συνέχεια, το συσσωμάτωμα κιβώτιο-βλήμα που δημιουργείται, εκτελεί οριζόντια βολή με την ταχύτητα που απέκτησε και πέφτει προς την θάλασσα αμέσως μετά την κρούση. Να υπολογίσετε:



Θάλασσα

- Δ1) Την ταχύτητα V_S του συσσωματώματος κιβώτιο-βλήμα αμέσως μετά την κρούση.
 Δ2) Την απώλεια της κινητικής ενέργειας του συστήματος κιβώτιο-βλήμα λόγω της κρούσης.
 Δ3) Το χρόνο που διαρκεί η κάθοδος του συσσωματώματος, μέχρι αυτό να φτάσει στην επιφάνεια της θάλασσας.
 Δ4) Την μέγιστη οριζόντια απόσταση s , που θα διανύσει το συσσωμάτωμα (βεληνεκές), φτάνοντας στην επιφάνεια της θάλασσας.

ΘΕΜΑ Δ (16000)

Σε κινηματογραφική ταινία ένα Μπόιγκ 777 μετά από διαδοχικές βλάβες πέφτει κατακόρυφα κάνοντας ελεύθερη πτώση (οι κινητήρες του αεροπλάνου δεν λειτουργούν). Στην ταινία αυτή ένας υπερήρωας σταματάει το αεροπλάνο ασκώντας του κατακόρυφη δύναμη προς τα επάνω (βλ. φωτογραφία). Το αεροπλάνο έχει μάζα 200.000 kg και όταν ο υπερήρωας αρχίζει να του ασκεί δύναμη έχει ταχύτητα 270 m/s. Το αεροπλάνο σταματά σε 30 s.

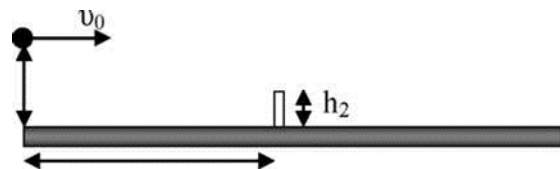


Να υπολογίσετε :

- Δ1) το μέτρο της μεταβολής της ορμής του αεροπλάνου από τη στιγμή που δέχεται τη δύναμη από τον υπερήρωα μέχρι να σταματήσει,
 Δ2) τη μέση δύναμη που δέχεται το αεροπλάνο στο χρονικό διάστημα των 30 s,
 Δ3) τη μέση δύναμη που ασκείται στο αεροπλάνο από τον υπερήρωα,
 Δ4) την απόσταση που κινήθηκε το αεροπλάνο από τη στιγμή που δέχθηκε τη δύναμη μέχρι να σταματήσει.

ΘΕΜΑ Δ (16001)

Το 2014 η τενίστρια Sabine Lisicki έκανε ένα σερβίς στο οποίο η μπάλα έφυγε από την ρακέτα με ταχύτητα $v_0 = 58$ m/s. Η ταχύτητα αυτή είναι η μεγαλύτερη καταγεγραμμένη ταχύτητα για τις γυναίκες τενίστριες. Το μπαλάκι του τένις ζυγίζει 60 g και ο χρόνος επαφής του με την ρακέτα ήταν 5 ms. Θεωρούμε ότι πριν χτυπήσει η ρακέτα το μπαλάκι του τένις είχε στιγμιαία ταχύτητα μηδέν και ότι η τελική του ταχύτητα ήταν οριζόντια. Να υπολογίσετε:

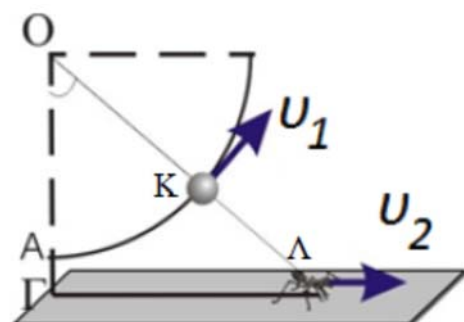


Δ1) τη μεταβολή της ορμής στο μπαλάκι,
 Δ2) τη μέση δύναμη που δέχτηκε το μπαλάκι από την ρακέτα,
 Δ3) την εφαπτομένη της γωνίας που σχηματίζει η ταχύτητα της μπάλας με την κατακόρυφο όταν η μπάλα χτυπάει στο έδαφος,

- Όταν η τενίστρια χτύπησε το μπαλάκι απείχε από το δίχτυ απόσταση $d = 17,4$ m και το ύψος από το οποίο ξεκίνησε την κίνησή του το μπαλάκι ήταν $h_1 = 2$ m. Το δίχτυ έχει ύψος $h_2 = 1$ m.
 Δ4) Να υπολογίσετε σε πόσο ύψος πάνω από το δίχτυ πέρασε το μπαλάκι.

ΘΕΜΑ Δ (16002)

Η σφαίρα του σχήματος ξεκίνησε την ομαλή κυκλική κίνησή της σε κύκλο ακτίνας $OA = 2$ m από τη θέση A με σταθερού μέτρου γραμμική ταχύτητα v_1 . Το έντομο ξεκίνησε την ευθύγραμμη ομαλή κίνησή του από το σημείο Γ, που βρίσκεται στην ίδια κατακόρυφη με την ακτίνα OA και σε απόσταση $AΓ = 0,5$ m κάτω από το A, με ταχύτητα, μέτρου $v_2 = 0,1$ m/s.



Η έναρξη των κινήσεων ήταν ταυτόχρονη. Το στιγμιότυ-

πο της κίνησης που φαίνεται στο σχήμα αντιστοιχεί σε χρόνο 25 s μετά την έναρξη των κινήσεων. Στο στιγμιότυπο οι θέσεις των κινητών και το κέντρο του κύκλου είναι στην ίδια ευθεία την ΟΚΛ.

Δ1) Πόση είναι απόσταση ΓΛ που διένυσε το έντομο μέχρι τη θέση που φαίνεται στο στιγμιότυπο του σχήματος;

Δ2) Ποια είναι η επίκεντρη γωνία ΓΟΛ που διέγραψε η σφαίρα;

Δ3) Πόση είναι η περίοδος, η γωνιακή ταχύτητα και η γραμμική ταχύτητα της σφαίρας;

Δ4) Πόση είναι η κεντρομόλος επιτάχυνση της σφαίρας;

Να θεωρήσετε για την άσκηση ότι $\pi^2 = 10$.

ΘΕΜΑ Δ (16003)

Δύο σφαίρες με μάζες $m_1 = 6 \text{ kg}$ και $m_2 = 4 \text{ kg}$ κινούνται σε οριζόντιο δάπεδο με αντίθετη φορά και συγκρούονται πλαστικά. Τη στιγμή της σύγκρουσης τα μέτρα των ταχυτήτων των σφαιρών ήταν $v_1 = 20 \text{ m/s}$ και $v_2 = 10 \text{ m/s}$.

Δ1) Να βρεθεί η ταχύτητα του συσσωματώματος αμέσως μετά την κρούση.


Δ2) Να βρεθεί η απώλεια της μηχανικής ενέργειας του συστήματος των δύο σφαιρών κατά την πλαστική κρούση.

Δ3) Αν η κρούση διαρκεί 0,1 s, να βρεθεί το μέτρο της μέσης δύναμης που ασκεί το ένα σώμα στο άλλο.

Δ4) Να βρεθεί το διάστημα για το οποίο κινήθηκε το συσσωμάτωμα μετά την κρούση. Θεωρείστε ότι κατά τη διάρκεια της κρούσης η μετατόπιση του συσσωματώματος είναι αμελητέα, ενώ ο συντελεστής τριβής συσσωματώματος - δαπέδου είναι $\mu = 0,32$.

ΘΕΜΑ Δ (16004)

Ένα πουλί και ένα έντομο διέρχονται ταυτόχρονα από το σημείο επαφής των δύο εφαπτόμενων κύκλων του σχήματος. Το πουλί διαγράφει ομαλά την τροχιά του κύκλου σε χρονικό διάστημα 2 s. Το έντομο διαγράφει τον άλλο κύκλο ομαλά σε χρονικό διάστημα 3 s.



Δ1) Να υπολογίσετε τον λόγο της συχνότητας του πουλιού, προς τη συχνότητα του εντόμου.

Δ2) Να υπολογίσετε τον λόγο της γραμμικής ταχύτητας του πουλιού προς τη γραμμική ταχύτητα του εντόμου, αν ο λόγος των αντίστοιχων ακτίων κίνησης πουλιού - εντόμου είναι $R_{\text{πουλ}}/R_{\text{εντ}} = 3/2$.

Δ3) Υπολογίστε πόσους κύκλους θα έχει κάνει το πουλί και πόσους το έντομο μέχρι να ξανασυναντηθούν για πρώτη φορά, μετά από τη στιγμή που διήλθαν ταυτόχρονα, από το σημείο επαφής.

Δ4) Σε πόσο χρόνο θα ξανασυναντηθούν για δεύτερη φορά;

ΘΕΜΑ Δ (16005)

Σε σώμα μάζας m που κινείται με ταχύτητα μέτρου v_0 , σε λείο οριζόντιο δάπεδο, δρα δύναμη σταθερού μέτρου F , με κατεύθυνση αντίθετη της v_0 . Θεωρούμε θετική την κατεύθυνση της v_0 .

Όταν η μεταβολή της ορμής του σώματος είναι $-3mv_0$ να υπολογιστούν:

Δ1) Η ταχύτητα του σώματος.

Δ2) Η χρονική διάρκεια κατά την οποία προκλήθηκε η προηγούμενη μεταβολή ορμής.

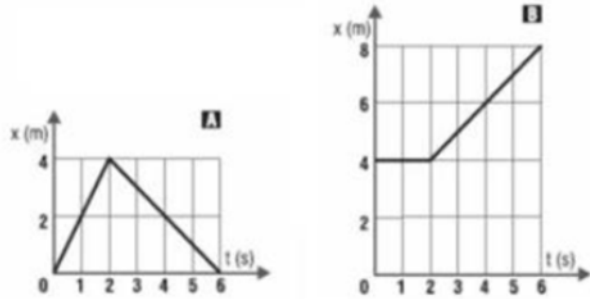
Δ3) Το έργο της δύναμης F για την μετατόπιση κατά την οποία η δύναμη F είναι ομόρροπη με την ταχύτητα του σώματος.

Δ4) Το μέτρο της μετατόπισης που αντιστοιχεί στο έργο που υπολογίσατε στο ερώτημα Δ3.

Οι απαντήσεις σας θα πρέπει να είναι εκφράσεις των m , F , και v_0 .

ΘΕΜΑ Δ (16006)

Στις παρακάτω γραφικές παραστάσεις φαίνονται οι θέσεις δύο σωμάτων, Α και Β που συγκρούονται στη θέση $x = 4$ m, σε συνάρτηση με το χρόνο. Η μάζα του σώματος Α είναι $m_A = 1$ kg και η μάζα του σώματος Β είναι $m_B = 3$ kg.



Δ1) Να μεταφέρετε στο απαντητικό σας φύλλο και να συμπληρώσετε τον πίνακα που ακολουθεί.

Δ2) Με βάση τον διπλανό πίνακα, να εξηγήσετε ποιες αρχές διατήρησης ισχύουν στη συγκεκριμένη κρούση.

Δ3) Αν η χρονική διάρκεια του φαινομένου της κρούσης είναι $\Delta t = 0,01$ s, (που είναι τόσο

μικρό ώστε δεν μπορεί να παρασταθεί στην κλίμακα του χρόνου που έχουμε διαλέξει για τα διαγράμματα θέσης - χρόνου) να βρεθεί η δύναμη που άσκησε το σώμα Α στο σώμα Β κατά τη διάρκεια της κρούσης.

Δ4) Να βρεθεί το ποσοστό της κινητικής ενέργειας του κινούμενου σώματος που μεταφέρθηκε στο ακίνητο ως αποτέλεσμα της κρούσης.

| | Πριν την Κρούση | | Μετά την κρούση | |
|-------------------|-----------------|---|-----------------|---|
| | A | B | A | B |
| Ταχύτητα | | | | |
| Ορμή | | | | |
| Κινητική Ενέργεια | | | | |

ΘΕΜΑ Δ (16007)

Δύο σώματα κινούνται με σταθερές ταχύτητες στην ίδια οριζόντια ευθεία. Στον πίνακα, φαίνονται οι θέσεις από τις οποίες διέρχονται τα σώματα Α και Β κάθε δευτερόλεπτο.

Δ1) Σε ποια θέση συγκρούονται τα σώματα;

Δ2) Ποιες είναι οι ταχύτητες των σωμάτων πριν και μετά τη σύγκρουσή τους;

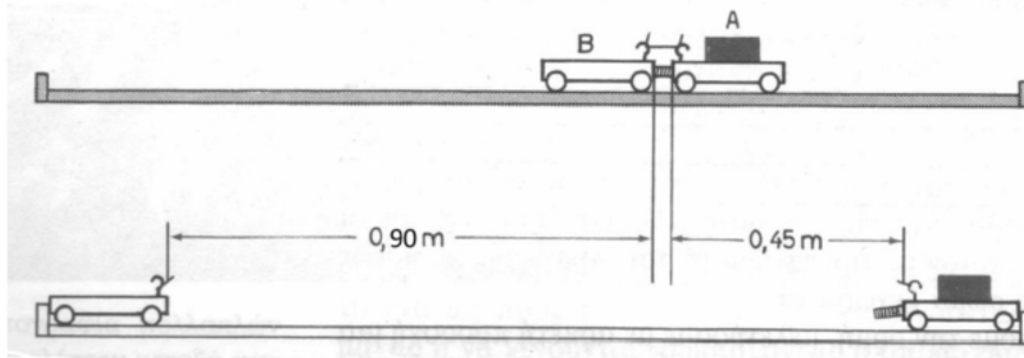
Δ3) Να βρείτε τη σχέση που ικανοποιούν οι μάζες των δύο σωμάτων.

Δ4) Να ελέγξετε αν διατηρείται η μηχανική ενέργεια του συστήματος.

| | ΣΩΜΑ (Α) | ΣΩΜΑ (Β) |
|--------|----------|----------|
| ΧΡΟΝΟΣ | ΘΕΣΗ (m) | ΘΕΣΗ (m) |
| 0 | 20 | 0 |
| 1 | 18 | 3 |
| 2 | 16 | 6 |
| 3 | 14 | 9 |
| 4 | 12 | 12 |
| 5 | 15 | 10 |
| 6 | 18 | 8 |
| 7 | 21 | 6 |
| 8 | 24 | 4 |
| 9 | 27 | 2 |
| 10 | 30 | 0 |

ΘΕΜΑ Δ (16008)

Τα καρότσια που φαίνονται στην πιο κάτω εικόνα βρίσκονται ακίνητα πάνω στην οριζόντια επιφάνεια του πάγκου στο εργαστήριο Φυσικών Επιστημών, και συνδέονται μεταξύ τους με νήμα.

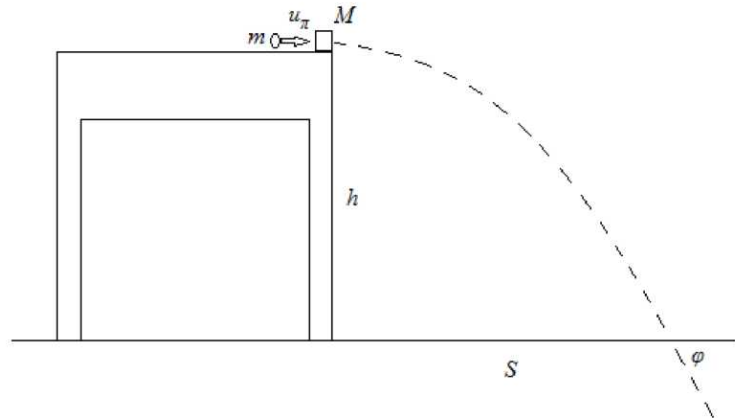


Ένα ελατήριο ελάχιστης μάζας, το οποίο είναι σταθερά συνδεδεμένο στο καρότσι Α, βρίσκεται συμπιεσμένο ανάμεσά τους. Κάποια στιγμή κόβουμε το νήμα που συνδέει τα δύο καρότσια, τα καρότσια απελευθερώνονται, κινούνται αντίθετα και φτάνουν ταυτόχρονα στις άκρες του πάγκου. Αν αγνοήσουμε τις τριβές κατά την κίνηση των καροτσιών, να υπολογίσετε:

- Δ1) Το λόγο του μέτρου της ταχύτητα του A προς το μέτρο της ταχύτητας του B, v_A/v_B , κατά τη διάρκεια της κίνησης των καροτσιών.
- Δ2) Το λόγο των μαζών τους, m_A/m_B καθώς και το λόγο των μέτρων των ορμών τους p_A/p_B των καροτσιών A και B.
- Δ3) Το λόγο των μέσων τιμών των δυνάμεων F_A/F_B που αναπτύχθηκαν στα καρότσια αμέσως μετά την καύση του νήματος και για όσο χρονικό διάστημα τα καρότσια ήταν σε επαφή με το ελατήριο.
- Δ4) Το λόγο των κινητικών ενεργειών K_A/K_B , που απέκτησαν τα καρότσια.

ΘΕΜΑ Δ (16010)

Ένας μικρός ξύλινος κύβος μάζας $M = 30 \text{ g}$ ηρεμεί αρχικά στο άκρο A του πάγκου του σχολικού εργαστηρίου, που έχει ύψος $h = 0,8 \text{ m}$ από το οριζόντιο δάπεδο. Εκτοξεύουμε ένα κομμάτι πλαστελίνης μάζας $m = 10 \text{ g}$ ώστε να συγκρουστεί με οριζόντια ταχύτητα v_π με τον ξύλινο κύβο. Η κρούση είναι πλαστική και αμέσως μετά το συσσωμάτωμα εκτελεί οριζόντια βολή. Το συσσωμάτωμα έπεσε στο πάτωμα σε οριζόντια απόσταση $s = 0,8 \text{ m}$ από το σημείο βολής.



- Δ1) Να υπολογίσετε την οριζόντια ταχύτητα του συσσωματώματος αμέσως μετά την κρούση.
- Δ2) Ποια η ταχύτητα v_π με την οποία συγκρούστηκε η πλαστελίνη με το ξύλινο σώμα;
- Δ3) Να υπολογίσετε την απώλεια κινητικής ενέργειας για το σύστημα πλαστελίνη-ξύλινο κύβος λόγω της κρούσης.
- Δ4) Ένας συμμαθητής σας ισχυρίζεται, πως «είδε» ότι το συσσωμάτωμα έπεσε υπό γωνία $\varphi = 45^\circ$ ως προς το πάτωμα. Όμως είναι πολύ δύσκολο να μετρηθεί άμεσα η γωνία αυτή για να ελεγχθεί ο ισχυρισμός του. Με τα δεδομένα που έχετε, να αναπτύξετε κάποια άλλη μέθοδο για να ελέγξετε τον παραπάνω ισχυρισμό. Ποιο από τα επόμενα συμπεράσματα είναι αυτό στο οποίο καταλήγετε; α. $\varphi = 45^\circ$, β. $\varphi < 45^\circ$, γ. $\varphi > 45^\circ$. Δίνεται ότι $\varepsilon\varphi 45^\circ = 1$

ΘΕΜΑ Δ (16011)

Συμπαγής ελαστική μπάλα μάζας $m = 0,5 \text{ kg}$ αφήνεται ελεύθερη από ύψος $h = 1,25 \text{ m}$ πάνω από οριζόντιο μαρμάρινο δάπεδο. Αν μετά από την πρώτη αναπήδηση η μπάλα φτάνει στην ίδια θέση απ' όπου αφέθηκε μετά από χρόνο $1,1 \text{ s}$, τότε :

- Δ1) Να υπολογιστεί η ορμή της μπάλας αμέσως πριν και αμέσως μετά την κρούση με το δάπεδο,
- Δ2) Να σχεδιαστούν τα διανύσματα: της αρχικής και τελικής ορμής καθώς και της μεταβολής της ορμής. Να υπολογιστεί το μέτρο της μεταβολής της ορμής της μπάλας κατά την κρούση,
- Δ3) Να σχεδιαστούν ποιοτικά τα διανύσματα των δυνάμεων που ασκούνται στη μπάλα κατά τη διάρκεια της κρούσης και να βρεθεί η μέση δύναμη που δέχεται το δάπεδο κατά τη διάρκεια της σύγκρουσης μπάλας και δαπέδου.

ΘΕΜΑ Δ (16013)

Βλήμα μάζας $m_1 = 100 \text{ g}$ κινείται με ταχύτητα μέτρου, $v = 160 \text{ m/s}$ και σφηνώνεται σε ξύλινο κιβώτιο μάζας $m_2 = 1,9 \text{ kg}$, που βρίσκεται αρχικά ακίνητο σε λείο οριζόντιο επίπεδο. Το βλήμα σφηνώνεται στο κιβώτιο σε χρονικό διάστημα $\Delta t = 0,02 \text{ s}$.

Να βρεθούν:

- Δ1) Η τιμή της τελικής ορμής του συσσωματώματος.
- Δ2) Η μείωση της κινητικής ενέργειας του βλήματος κατά τη διάρκεια της κρούσης

Δ3) Ο ρυθμός με τον οποίο μεταβάλλεται η ορμή του κιβωτίου κατά τη διάρκεια της ενσφήνωσης του βλήματος στο κιβώτιο εάν θεωρηθεί ότι είναι σταθερός σε όλη τη διάρκεια της ενσφήνωσης λίγο μετά την κρούση το συσσωμάτωμα εισέρχεται σε μη λείο οριζόντιο επίπεδο και αφού κινηθεί για κάποιο χρονικό διάστημα πάνω στο μη λείο οριζόντιο επίπεδο, σταματά.

Δ4) Σε πόσο χρόνο από τη στιγμή της εισόδου στο μη λείο δάπεδο θα σταματήσει το συσσωμάτωμα και πόσο διάστημα θα έχει διανύσει;

Δίνονται: ο συντελεστής της τριβής ολίσθησης μεταξύ κιβωτίου και μη λείου επιπέδου $\mu = 0,2$.

ΘΕΜΑ Δ (16014)

Σώμα μάζας m_1 κινούμενο σε οριζόντιο επίπεδο συγκρούεται με ταχύτητα μέτρου, $v_1 = 10 \text{ m/s}$ ελαστικά με ακίνητο σώμα μάζας m_2 , με το οποίο βρίσκεται στην ίδια ευθεία. Η χρονική διάρκεια της κρούσης θεωρείται αμελητέα. Αμέσως μετά την κρούση, το σώμα μάζας m_1 κινείται αντίρροπα με ταχύτητα μέτρου, $v'_1 = 5 \text{ m/s}$ ενώ το σώμα μάζας m_2 αποκτά ταχύτητα μέτρου $v'_2 = 5 \text{ m/s}$

Δ1) Να προσδιορίσετε το λόγο των μαζών m_1/m_2 .

Δ2) Να βρεθεί το ποσοστό της αρχικής κινητικής ενέργειας του σώματος μάζας m_1 που μεταβιβάστηκε στο σώμα μάζας m_2 λόγω της κρούσης.

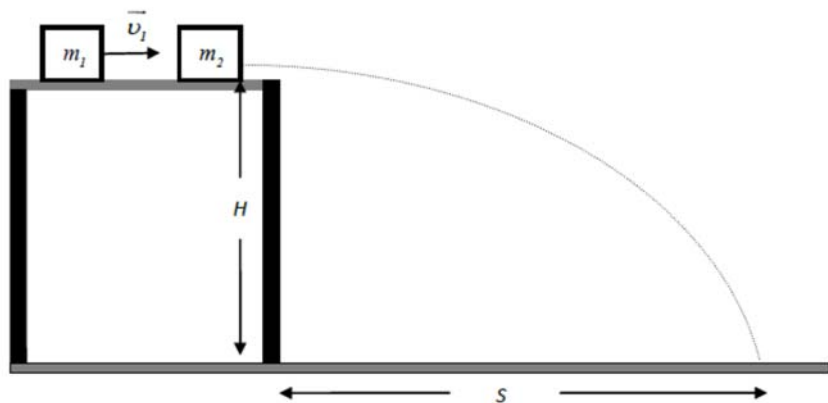
Δ3) Αν $m_1 = 0,5 \text{ kg}$ να βρεθεί ο ρυθμός με τον οποίο μεταβάλλεται η ορμή του σώματος αυτού κατά τη διάρκεια της ολίσθησης του πάνω στο δάπεδο μετά την κρούση, εάν θεωρηθεί ότι είναι σταθερός σε όλη τη διάρκεια της ολίσθησης.

Δ4) Να υπολογισθεί πόσο θα απέχουν τα σώματα όταν σταματήσουν.

Ο συντελεστής τριβής ολίσθησης μεταξύ του επιπέδου και κάθε σώματος είναι $\mu = 0,1$

ΘΕΜΑ Δ (16015)

Σώμα μάζας $m_1 = 4 \text{ kg}$ κινείται με οριζόντια ταχύτητα μέτρου $v_1 = 2,5 \text{ m/s}$ σε λείο οριζόντιο δάπεδο που βρίσκεται σε ύψος H πάνω από το έδαφος. Το σώμα συγκρούεται πλαστικά με ακίνητο σώμα που βρίσκεται στην ίδια ευθεία, μάζας $m_2 = 6 \text{ kg}$. Η χρονική διάρκεια της κρούσης θεωρείται αμελητέα.



Αμέσως μετά την κρούση, το συσσωμάτωμα εγκαταλείπει το οριζόντιο δάπεδο και προσκρούει στο έδαφος σε οριζόντια απόσταση $s = 0,4 \text{ m}$ από το σημείο που το εγκατέλειψε.

Δ1) Να υπολογίσετε την κινητική ενέργεια του συσσωματώματος.

Δ2) Να βρεθεί το ύψος H .

Δ3) Να βρεθεί ο ρυθμός με τον οποίο μεταβάλλεται η ορμή του συσσωματώματος κατά τη διάρκεια της πτώσης του.

Δ4) Να βρεθεί η ταχύτητα που έπρεπε να έχει το σώμα m_1 ώστε το συσσωμάτωμα να φτάσει στο έδαφος, έχοντας ταχύτητα μέτρου $v = 5 \text{ m/s}$.

ΘΕΜΑ Δ (16018)

Ένας σκοπευτής έχει την κάνη του όπλου του οριζόντια και σημαδεύει στο κέντρο ενός μεγάλου στόχου που βρίσκεται σε απόσταση $s = 200 \text{ m}$ από την έξοδο της κάνης. Η σφαίρα κτυπά το στόχο σε απόσταση $y = 1,25 \text{ m}$ πιο κάτω από το κέντρο του. Η μάζα του όπλου είναι $M = 4 \text{ kg}$ (χωρίς τη σφαίρα) και η μάζα της σφαίρας $m = 0,005 \text{ kg}$. Να υπολογιστούν:

Δ1) το μέτρο της ταχύτητας της σφαίρας τη στιγμή που φεύγει από την κάνη του όπλου,

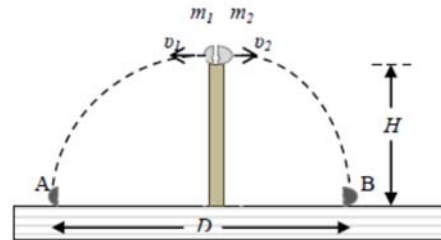
Δ2) η ενέργεια που εκλύεται κατά την εκपुरσοκρότηση αν θεωρηθεί ότι όλη η εκλυόμενη ενέργεια εμφανίζεται με τη μορφή κινητικής ενέργειας του συστήματος όπλο-σφαίρα μετά την κρούση,

Δ3) η μέση τιμή της δύναμης που επιταχύνει τη σφαίρα όσο αυτή βρίσκεται μέσα στην κάνη του όπλου, αν το χρονικό διάστημα μεταξύ της εκपुरσοκρότησης και της εξόδου της από την κάνη είναι $\Delta t = 0,004 \text{ s}$.

Δ4) το μέτρο της μεταβολής της ορμής της σφαίρας από τη στιγμή που εγκαταλείπει την κάνη μέχρι τη στιγμή που κτυπά το στόχο.

ΘΕΜΑ Δ (16084)

Μικρή σφαίρα μάζας $m = 300 \text{ g}$ είναι τοποθετημένη πάνω σε κατακόρυφο στύλο μεγάλου ύψους H στις εγκαταστάσεις μιας κεραίας τηλεπικοινωνιών. Ξαφνικά μια έκρηξη χωρίζει τη σφαίρα σε δύο κομμάτια που φεύγουν σε οριζόντια διεύθυνση αμέσως μετά την έκρηξη. Οι μάζες των δύο κομματιών είναι m_1 και m_2 , για τις οποίες ισχύει $m_2 = 2m_1$.

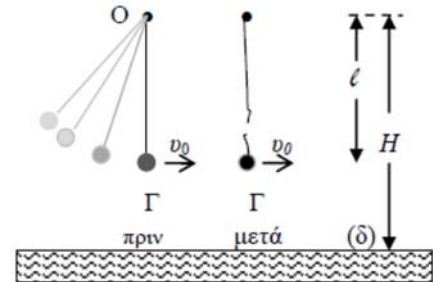


Τα δύο κομμάτια m_1 , m_2 , εκτελούν οριζόντιες βολές και πέφτουν στο οριζόντιο δάπεδο που βρίσκεται στη βάση του στύλου, μετά από χρόνο 3 s από τη στιγμή της έκρηξης, στα σημεία A και B αντίστοιχα, που απέχουν μεταξύ τους $D = 180 \text{ m}$, όπως φαίνεται και στο σχήμα. Να υπολογίσετε:

Δ1) Το ύψος του στύλου.
 Δ2) Τα μέτρα των ταχυτήτων που έχουν τα δύο κομμάτια, αμέσως μετά την έκρηξη.
 Δ3) Την απόσταση μεταξύ των δύο κομματιών μετά από 2 s από τη στιγμή της έκρηξης.
 Δ4) Την ενέργεια που ελευθερώθηκε λόγω της έκρηξης.

ΘΕΜΑ Δ (16086)

Μικρή σφαίρα μάζας 200 g κρέμεται δεμένη στο κάτω άκρο μη ελαστικού νήματος, μήκους L . Το πάνω άκρο το νήματος είναι δεμένο σε ακλόνητο σημείο O, το οποίο απέχει από οριζόντιο δάπεδο (δ), ύψους $H = 1,25 \text{ m}$.



Θέτουμε το σύστημα σε αιώρηση με τέτοιο τρόπο ώστε τελικά το σώμα να κινείται σε κατακόρυφο επίπεδο με το νήμα τεντωμένο.

Τη στιγμή που η σφαίρα περνάει από την κατώτερη θέση Γ της κυκλικής τροχιάς της, με το νήμα

τεντωμένο και κατακόρυφο, η κεντρομόλος επιταχυνσή της

έχει μέτρο 20 m/s^2 . Ακριβώς αυτή τη στιγμή το νήμα κόβεται και η σφαίρα με την ταχύτητα που είχε στη θέση Γ, πραγματοποιεί μια οριζόντια βολή μέχρι το οριζόντιο δάπεδο, όπου φτάνει μετά από χρόνο $0,3 \text{ s}$ από τη στιγμή που κόπηκε το νήμα. Να υπολογίσετε:

Δ1) Το μήκος του νήματος.

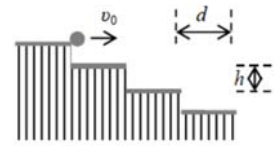
Δ2) Την οριζόντια απόσταση από το σημείο Γ, του σημείου στο οποίο θα χτυπήσει η σφαίρα στο δάπεδο.

Δ3) Τη βαρυτική δυναμική ενέργεια της σφαίρας ως προς το οριζόντιο δάπεδο (δ) μετά από χρόνο $0,2 \text{ s}$ από τη στιγμή που κόπηκε το νήμα.

Δ4) Το μέτρο της ταχύτητας \vec{v} καθώς και την εφαπτομένη της γωνίας που σχηματίζει το διάνυσμα της ταχύτητας με το οριζόντιο δάπεδο, τη στιγμή κατά την οποία η σφαίρα χτυπάει σε αυτό.

ΘΕΜΑ Δ (16087)

Τα σκαλοπάτια μιας σκάλας είναι όλα όμοια μεταξύ τους και έχουν ύψος $h = 20 \text{ cm}$ και πλάτος $d = 40 \text{ cm}$. Από το πλατύσκαλο στο επάνω μέρος της σκάλας, ρίχνουμε τη χρονική στιγμή $t = 0$ ένα μικρό σφαιρίδιο πλαστελίνης, με οριζόντια αρχική ταχύτητα \vec{v}_0 όπως φαίνεται στη διπλανή εικόνα. Το μικρό σφαιρίδιο περνά «ξυστά» στο άκρο (ακμή) του πρώτου (από πάνω) σκαλοπατιού τη χρονική στιγμή t_1 .



Δ1) Υπολογίστε τη χρονική στιγμή t_1 .

Δ2) Να προσδιορίσετε την ταχύτητα του σφαιριδίου τη χρονική στιγμή t_1 .

Δ3) Να δείξετε ότι το σφαιρίδιο πλαστελίνης θα σταματήσει οπωσδήποτε στο δεύτερο (μετρώντας από το πάνω μέρος της σκάλας) σκαλοπάτι.

Δ4) Να προσδιορίσετε το σημείο του σκαλοπατιού που θα προσκρούσει το σφαιρίδιο της πλαστελίνης.

Να θεωρήσετε κατά προσέγγιση ότι ισχύει $\sqrt{2} = 1,4$.

ΘΕΜΑ Δ (16089)

Ένας πύραυλος μάζας $M = 4 \cdot 10^4 \text{ kg}$, κινείται ευθύγραμμα, σε περιοχή ασήμαντης βαρύτητας, με σταθερή ταχύτητα μέτρου $v_0 = 200 \text{ m/s}$. Ξαφνικά, με μια έκρηξη ο πύραυλος χωρίζεται σε δύο κομμάτια με μάζες m_1 και m_2 για τις οποίες ισχύει $m_1 = 3m_2$. Το πρώτο, κομμάτι μάζας m_1 , αμέσως μετά την έκρηξη έχει ταχύτητα \vec{v}_1 μέτρου $v_1 = 400 \text{ m/s}$, στην ίδια κατεύθυνση με την αρχική ταχύτητα v_0 . Να προσδιορίσετε:

Δ1) Την ταχύτητα v_2 του δεύτερου κομματιού.

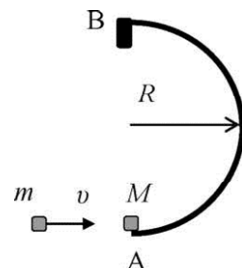
Δ2) Τη μεταβολή ορμής $\Delta \vec{p}_1$, και $\Delta \vec{p}_2$ του κάθε κομματιού εξαιτίας της έκρηξης. Τι παρατηρείτε;

Δ3) Την ενέργεια που ελευθερώθηκε λόγω της έκρηξης.

Δ4) Αν υποθέσετε ότι η έκρηξη, δηλαδή η διάσπαση του πυραύλου στα δύο κομμάτια του διαρκεί χρονικά $\Delta t = 0,2 \text{ s}$, να προσδιορίσετε τη μέση δύναμη που δέχτηκε κάθε ένα από τα δύο κομμάτια στα οποία χωρίστηκε ο πύραυλος κατά τη διάρκεια της κρούσης.

ΘΕΜΑ Δ (16091)

Πάνω σε λείο οριζόντιο επίπεδο (την κάτοψη του οποίου βλέπετε στο σχήμα) υπάρχει ακλόνητα στερεωμένο ένα σιδερένιο έλασμα, ημικυκλικού σχήματος ακτίνας $R = 20 \text{ cm}$. Στο ένα άκρο του ελάσματος (σημείο A) είναι τοποθετημένο (ακίνητο) ένα σώμα μάζας $M = 1 \text{ kg}$. Ένα σώμα μάζας $m = 1 \text{ kg}$ κινείται με ταχύτητα $v = 20 \text{ m/s}$ και συγκρούεται με το σώμα M . Μετά την κρούση δημιουργείται συσσωμάτωμα που κινείται κυκλικά, λόγω του ελάσματος και χωρίς να χάνει την επαφή του με αυτό, με ταχύτητα σταθερού μέτρου.



Δ1) Να υπολογίσετε την ταχύτητα του συσσωματώματος αμέσως μετά την κρούση.

Δ2) Ποιο είναι το μέτρο της δύναμης που δέχεται το συσσωμάτωμα από το έλασμα κατά την διάρκεια της κυκλικής του κίνησης;

Δ3) Πόσο χρόνο διαρκεί η κίνηση του συσσωματώματος από το A στο B;

Δ4) Στο σημείο B το συσσωμάτωμα προσκρούει σε ακλόνητο στήριγμα και ο χρόνος για να σταματήσει είναι $\Delta t = 0,1 \text{ s}$. Πόση είναι η μέση δύναμη που ασκήθηκε από το ακλόνητο στήριγμα στο συσσωμάτωμα;

ΘΕΜΑ Δ (16092)

Ένα βλήμα μάζας $m = 2 \text{ kg}$ εκτοξεύεται κατακόρυφα από το έδαφος με ταχύτητα $v_0 = 100 \text{ m/s}$. Το βλήμα, 2 δευτερόλεπτα μετά την εκτόξευσή του διασπάται (λόγω έκρηξης) σε δύο ίσα κομμάτια. Το ένα από αυτά συνεχίζει να κινείται προς τα πάνω και φτάνει σε ύψος $h = 5 \text{ m}$ από το σημείο της έκρηξης. Η αντίσταση του αέρα θεωρείται αμελητέα.

Δ1) Ποια η ταχύτητα του βλήματος ελάχιστα πριν την έκρηξη;

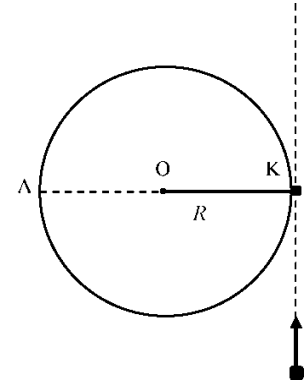
Δ2) Να υπολογιστούν τα μέτρα των ταχυτήτων των δύο κομματιών αμέσως μετά την έκρηξη;

Δ3) Να ελέγξετε αν κατά την έκρηξη διατηρείται η μηχανική ενέργεια του συστήματος.

Δ4) Τα δύο θραύσματα από την έκρηξη κάποια στιγμή θα πέσουν στο έδαφος και θα ακινητοποιηθούν. Να βρείτε το ποσό της εκλυόμενης θερμότητας, συνολικά και για τα δύο θραύσματα, κατά την πρόσκρουσή τους στο έδαφος.

ΘΕΜΑ Δ (16094)

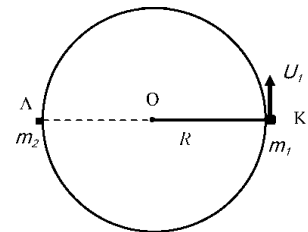
Ένα σώμα Σ_1 , μάζας $m_1 = 2 \text{ kg}$, είναι στερεωμένο στο άκρο Κ μη εκτατού και αβαρούς νήματος και βρίσκεται πάνω σε λείο οριζόντιο επίπεδο (κάτοψη του οποίου φαίνεται στο σχήμα). Το άλλο άκρο του νήματος, είναι στερεωμένο σε ακλόνητο σημείο Ο. Το μήκος του νήματος είναι 1 m. Ένα δεύτερο σώμα Σ_2 μάζας $m_2 = 1 \text{ kg}$ κινείται πάνω στο λείο επίπεδο με ταχύτητα σταθερού μέτρου $v = 40 \text{ m/s}$. Η διεύθυνση της ταχύτητας είναι εφαπτόμενη στο σημείο Κ (όπως φαίνεται στο σχήμα). Όταν το σώμα Σ_2 φτάνει στο σημείο Κ συγκρούεται μετωπικά με το σώμα Σ_1 . Μετά την κρούση το σώμα Σ_2 αποκτά ταχύτητα ίση με $v_2 = 8 \text{ m/s}$ και συνεχίζει να κινείται ευθύγραμμα στην ίδια διεύθυνση. Να θεωρήσετε ότι η κρούση γίνεται ακαριαία.



- Δ1) Να βρεθεί η ταχύτητα του σώματος Σ_1 αμέσως μετά την κρούση.
- Δ2) Να δικαιολογήσετε γιατί μετά την κρούση το σώμα Σ_1 εκτελεί ομαλή κυκλική κίνηση και να υπολογίσετε το χρόνο που κάνει για να φτάσει στο σημείο Λ για πρώτη φορά.
- Δ3) Να υπολογίσετε την απόσταση μεταξύ των δύο σωμάτων όταν το σώμα Σ_1 έχει εκτελέσει δύο πλήρεις περιστροφές.
- Δ4) Να μελετήσετε αν κατά την κρούση διατηρείται η κινητική ενέργεια του συστήματος των δύο σωμάτων Σ_1 και Σ_2 .

ΘΕΜΑ Δ (16095,16090)

Μια ράβδος μήκους $R = 1 \text{ m}$ και αμελητέας μάζας βρίσκεται πάνω σε λείο οριζόντιο επίπεδο και μπορεί να περιστρέφεται γύρω από το σημείο Ο. Στο άλλο άκρο της είναι στερεωμένο σώμα Σ_1 μάζας $m_1 = 2 \text{ kg}$ το οποίο εκτελεί ομαλή κυκλική κίνηση με γραμμική ταχύτητα μέτρου $v_1 = 20 \text{ m/s}$, ξεκινώντας από το σημείο Κ. Στο σημείο Λ (αντιδιαμετρικό του Κ) βρίσκεται ακίνητο σώμα Σ_2 μάζας $m_2 = 1 \text{ kg}$.



- Δ1) Να σχεδιαστεί και να υπολογιστεί το μέτρο της κεντρομόλου δύναμης που ασκείται στο σώμα Σ_1 από τη ράβδο.
 - Όταν το σώμα Σ_1 φτάνει στο σημείο Λ συγκρούεται με το σώμα Σ_2 . Μετά την κρούση το σώμα Σ_2 αποκτά ταχύτητα μέτρου $v_2 = 20 \text{ m/s}$ και κινείται ευθύγραμμα πάνω στο λείο επίπεδο στη διεύθυνση της εφαπτομένης του κύκλου στο σημείο Λ. Να θεωρήσετε ότι η κρούση είναι ακαριαία.
 - Δ2) Να βρεθεί το μέτρο της ταχύτητας του σώματος Σ_1 αμέσως μετά την κρούση.
 - Δ3) Να βρεθεί ο λόγος T_1/T_2 , όπου T_1 η περίοδος της ομαλής κυκλικής κίνησης πριν την κρούση και T_2 η περίοδος της ομαλής κυκλικής κίνησης μετά την κρούση.
 - Δ4) Να βρεθεί η απόσταση μεταξύ των δύο σωμάτων Σ_1 και Σ_2 την χρονική στιγμή που το σώμα Σ_1 μετά τη κρούση φτάνει στο σημείο Κ για πρώτη φορά.
- Θεωρήστε για διευκόλυνση των πράξεων ότι $\pi^2 = 10$.

ΘΕΜΑ Δ (16097)

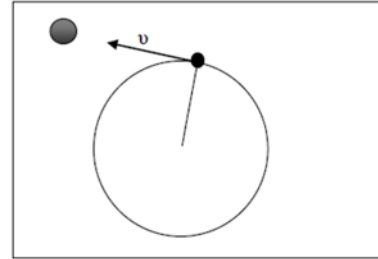
Δύο μοτοσυκλέτες αγώνων, με μάζες m_1 και m_2 , μαζί με τους αναβάτες, κινούνται σε κυκλική πίστα ακτίνας $R = 400/\pi \text{ m}$ με ταχύτητες σταθερού μέτρου $v_1 = 40 \text{ m/s}$ και $v_2 = 50 \text{ m/s}$ αντίστοιχα.

- Δ1) Να υπολογιστούν οι περίοδοι περιστροφής των δύο μοτοσυκλετών T_1 και T_2 .
 - Δ2) Να βρεθεί το χρονικό διάστημα μεταξύ δύο διαδοχικών συναντήσεων των μοτοσυκλετών, δεδομένου ότι κινούνται κατά την ίδια φορά.
- Ξαφνικά η μοτοσυκλέτα με τη μεγαλύτερη ταχύτητα ξεφεύγει από την πορεία της και κινούμενη ευθύγραμμα προσκρούει κάθετα στον προστατευτικό ελαστικό τοίχο της πίστας και γυρίζει προς τα πίσω με ταχύτητα μέτρου $v_3 = 2 \text{ m/s}$. Αν η μοτοσυκλέτα μαζί με τον αναβάτη έχει μάζα $m_2 = 300 \text{ kg}$ και η πρόσκρουση διαρκεί $\Delta t = 2 \text{ s}$, να υπολογιστούν:

- Δ3) Η μέση δύναμη κατά μέτρο διεύθυνση και φορά που δέχθηκε η μοτοσικλέτα από τον προστατευτικό τοίχο της πίστας κατά την πρόσκρουση,
 Δ4) το ποσοστό της κινητικής ενέργειας που μετατράπηκε σε θερμική ενέργεια (θερμότητα) κατά την πρόσκρουση.

ΘΕΜΑ Δ (16101)

Ένα σώμα, μάζας $m_1 = 0,2 \text{ kg}$ είναι δεμένο στο άκρο νήματος του οποίου το άλλο άκρο είναι στερεωμένο σε σταθερό σημείο, εκτελεί κυκλική κίνηση πάνω σε λείο οριζόντιο τραπέζι (κάτοψη του οποίου βλέπετε στο σχήμα).



Το μήκος του νήματος είναι $L = 0,5 \text{ m}$ και η γραμμική ταχύτητα του σώματος έχει σταθερό μέτρο $v = 10 \text{ m/s}$.

- Δ1) Να βρεθούν η γωνιακή ταχύτητα ω , η περίοδος T και η κεντρομόλος επιτάχυνση a_c του σώματος.

Κάποια στιγμή το νήμα κόβεται και το σώμα κινείται ευθύγραμμα. Στην πορεία του συναντάει δεύτερο σώμα από πλαστελίνη μάζας $m_2 = 0,8 \text{ kg}$ και συγκρούεται με αυτό πλαστικά.

- Δ2) Να υπολογιστεί το ποσοστό της κινητικής ενέργειας του σώματος μάζας m_1 το οποίο έχει το συσσωμάτωμα.

Το συσσωμάτωμα, φθάνει στην άκρη του τραπεζιού και εκτελεί οριζόντια βολή. Η μέγιστη οριζόντια μετατόπιση του συσσωματώματος από το σημείο από το οποίο βάλλεται είναι $s = 0,8 \text{ m}$.

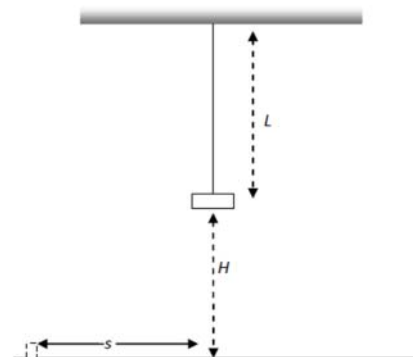


- Δ3) Να βρεθεί το ύψος του τραπεζιού

- Δ4) Να βρεθεί η χρονική στιγμή t_1 κατά την οποία η ταχύτητα του συσσωματώματος είναι $v_\sigma = V\sqrt{2}$.

ΘΕΜΑ Δ (16102)

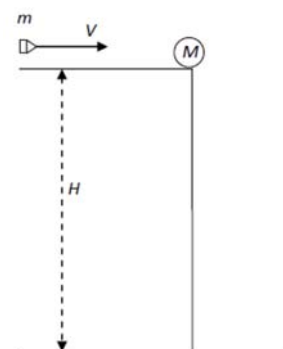
Ένα σώμα μάζας $M = 9 \text{ kg}$ είναι δεμένο στην άκρη νήματος μήκους $L = 2 \text{ m}$ και ισορροπεί κατακόρυφα όπως φαίνεται στο σχήμα που ακολουθεί. Το σώμα φέρει έναν εκρηκτικό μηχανισμό, αποτελούμενο από ένα ελατήριο, που όταν ενεργοποιείται διασπά το αρχικό σώμα σε δύο μέρη που το ένα έχει μάζα $m_1 = 6 \text{ kg}$ και παραμένει δεμένο στην άκρη του νήματος, ενώ το άλλο μάζας m_2 , εκτοξεύεται με οριζόντια ταχύτητα. Αν το σώμα M βρίσκεται σε ύψος $H = 1,8 \text{ m}$ από την επιφάνεια του εδάφους, και μετά την έκρηξη το m_2 φθάνει σε οριζόντια απόσταση $s = 6 \text{ m}$ από την αρχική θέση να υπολογίσετε



- Δ1) Την ταχύτητα εκτόξευσης του σώματος m_2 .
 Δ2) Την ταχύτητα με την οποία ξεκινά την κίνησή του, το σώμα μάζας m_1 .
 Δ3) Την ενέργεια που απελευθερώθηκε από τον εκρηκτικό μηχανισμό.
 Δ4) Να βρεθεί η κεντρομόλος δύναμη που ασκείται στο σώμα.

ΘΕΜΑ Δ (16103)

Σώμα μάζας $M = 5 \text{ kg}$ βρίσκεται στην άκρη ενός επίπλου ύψους $H = 1,8 \text{ m}$ όπως φαίνεται στο σχήμα που ακολουθεί. Ένα βλήμα μάζας $m = 200 \text{ g}$ κινείται με οριζόντια ταχύτητα $V = 200 \text{ m/s}$ και διαπερνά το σώμα M ακαριαία, εξερχόμενο με ταχύτητα $v = 50 \text{ m/s}$.



- Δ1) Υπολογίστε την ταχύτητα v_0 που θα αποκτήσει αμέσως μετά τη διάτρηση το σώμα M .
 Δ2) Υπολογίστε την απώλεια μηχανικής ενέργειας κατά την διάτρηση του σώματος M από το m .
 Δ3) Με τι χρονική διαφορά θα φθάσουν στο έδαφος τα δύο σώματα; Υπολογίστε την διαφορά των οριζόντιων αποστάσεων στις οποίες τα δύο σώματα θα συναντήσουν το έδαφος.

Δ4) Κάποια χρονική στιγμή t_1 η κινητική ενέργεια του σώματος M είναι 1,25 φορές μεγαλύτερη από την κινητική ενέργεια του σώματος M αμέσως μετά τη διάτρηση. Υπολογίστε τη συγκεκριμένη χρονική στιγμή.

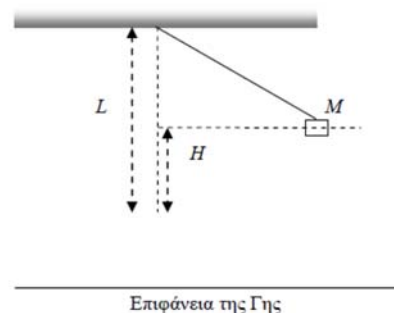
ΘΕΜΑ Δ (16104)

Ένας αθλητής του βόλεϊ, εκτελεί σερβίς με άλμα. Το χέρι του αθλητή χτυπά την μπάλα όταν αυτή βρίσκεται στο ανώτερο σημείο, όπου έχει μηδενική ταχύτητα, ασκώντας της μέση οριζόντια δύναμη $F = 600 \text{ N}$ για χρονικό διάστημα $\Delta t = 0,01 \text{ s}$. Αυτό έχει ως αποτέλεσμα η μπάλα να φεύγει από το χέρι του αθλητή με οριζόντια ταχύτητα v_0 , καθώς δεχόμαστε ότι η επιτάχυνση της βαρύτητας μεταβάλλει ασήμαντα την ταχύτητα στον κατακόρυφο άξονα στο χρονικό διάστημα Δt .

- Δ1) Αν η μάζα της μπάλας του βόλεϊ είναι περίπου ίση με 300 g , υπολογίστε την ταχύτητα v_0 .
- Δ2) Αν θεωρήσετε ότι το ύψος του φιλέ είναι ίσο με $2,5 \text{ m}$ και ότι ο αθλητής χτυπά το σερβίς από απόσταση ίση με 10 m πίσω από το φιλέ, υπολογίστε από ποιο ύψος πρέπει να φύγει η μπάλα ώστε να περάσει εφαπτομενικά από το φιλέ.
- Δ3) Υπολογίστε την ταχύτητα που έχει η μπάλα τη στιγμή που διέρχεται εφαπτομενικά από το φιλέ του βόλεϊ.
- Δ4) Υπολογίστε το έργο της δύναμης του βάρους καθώς και την μέση ισχύ του βάρους από τη στιγμή που η μπάλα φεύγει από το χέρι του αθλητή μέχρι τη στιγμή που διέρχεται εφαπτομενικά από το φιλέ.

ΘΕΜΑ Δ (16106)

Σώμα μάζας $M = 4 \text{ kg}$ είναι δεμένο στην άκρη νήματος μήκους $L = 1 \text{ m}$ και ισορροπεί κατακόρυφα. Κάποια στιγμή ανυψώνουμε το σώμα, σε κατακόρυφη απόσταση $H = 45 \text{ cm}$ από την αρχική του θέση, όπως φαίνεται στο διπλανό σχήμα, και το αφήνουμε ελεύθερο.



- Δ1) Υπολογίστε την ταχύτητα που έχει το σώμα μάζας M όταν περνά από την κατακόρυφο.
- Δ2) Τη στιγμή που το σώμα μάζας M διέρχεται από την κατακόρυφο, δεύτερο σώμα μάζας $m = 0,5 \text{ kg}$ κινούμενο οριζόντια και αντίθετα από το σώμα μάζας M σφηνώνεται σε αυτό, με αποτέλεσμα να δημιουργηθεί συσσωμάτωμα. Ποια πρέπει να είναι η ταχύτητα του σώματος μάζας m ώστε το συσσωμάτωμα να παραμείνει ακίνητο αμέσως μετά την κρούση;
- Δ3) Υπολογίστε τη μεταβολή του μέτρου της δύναμης που ασκεί το νήμα στο σώμα μάζας M και στο συσσωμάτωμα αμέσως πριν και αμέσως μετά την κρούση.
- Δ4) Με ποια ταχύτητα θα πρέπει να κινείται το σώμα μάζας m πριν από την κρούση, ώστε το συσσωμάτωμα που θα προκύψει να κινηθεί αμέσως μετά την κρούση στην ίδια κατεύθυνση με αυτή που κινούταν το σώμα μάζας M πριν την κρούση και να φθάσει σε θέση που να σχηματίζει με την κατακόρυφο γωνία θ , για την οποία $\sin \theta = 0,8$;

ΘΕΜΑ Δ (16425)

Ένα σώμα A μάζας 2 kg κινείται σε λείο οριζόντιο επίπεδο με ταχύτητα μέτρου $v_1 = 12 \text{ m/s}$ και συγκρούεται με ακίνητο σώμα B . Μετά την κρούση τα δύο σώματα κινούνται σαν ένα σώμα με την ίδια ταχύτητα. Κατά τη κρούση αυτή, το σώμα A σώμα χάνει το 75% της κινητικής του ενέργειας.

- Δ1) Να υπολογισθεί το μέτρο της ταχύτητας των δύο σωμάτων μετά την κρούση.
- Δ2) Να βρεθεί η μάζα του σώματος B .
- Δ3) Να βρεθεί η μεταβολή του μέτρου της ταχύτητας και το μέτρο της μεταβολής της ορμής του σώματος A .
- Δ4) Αν τα δύο σώματα μετά την κρούση δεν είχαν την ίδια ταχύτητα, αλλά το σώμα A εκκινείτο ομόρροπα με την αρχική κατεύθυνση κίνησής και με ταχύτητα μέτρου $v'_1 = 1 \text{ m/s}$, ποια θα ήταν η ταχύτητα του σώματος B (μέτρο και κατεύθυνση);