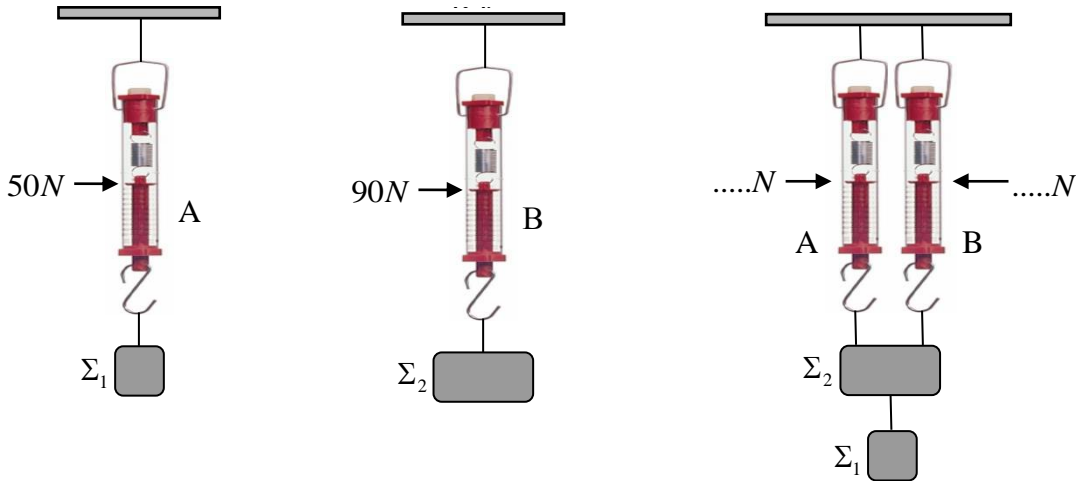


ΘΕΜΑ 2

2.1 Τα βάρη των σωμάτων Σ_1 και Σ_2 , με τη βοήθεια των δυναμόμετρων A και B, βρέθηκαν ίσα με 50 N και 90 N αντίστοιχα.

Στη συνέχεια χρησιμοποιώντας τα δύο δυναμόμετρα A και B κρεμάμε τα σώματα όπως στο τρίτο σχήμα.



A) Να επιλέξετε την σωστή απάντηση.

Αν τα βάρη των δυναμόμετρων και των νημάτων είναι αμελητέα, οι ενδείξεις των δυναμόμετρων A και B είναι:

(α) Δυναμόμετρο A: 50 N, Δυναμόμετρο B: 90 N

(β) Δυναμόμετρο A: 70 N, Δυναμόμετρο B: 70 N

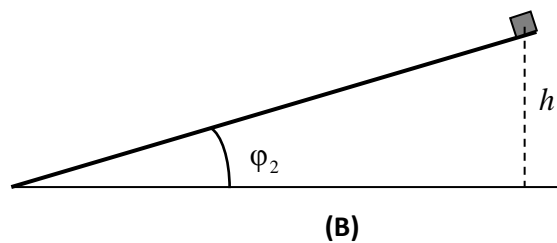
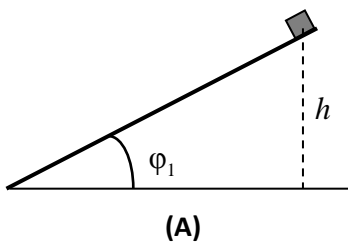
(γ) Δυναμόμετρο A: 90 N, Δυναμόμετρο B: 50 N

Μονάδες 4

B) Να αιτιολογήσετε την επιλογή σας.

Μονάδες 8

2.2 Δύο κιβώτια ίσων μαζών αφήνονται να ολισθήσουν από την κορυφή δύο λείων κεκλιμένων επιπέδων διαφορετικής κλίσης ($\phi_1=2\phi_2$), αλλά από το ίδιο ύψος h .



A) Να επιλέξετε την σωστή απάντηση.

Αν W_A και W_B τα έργα του βάρους στις δύο περιπτώσεις, τότε:

(α) $W_A=W_B$

(β) $W_A=2W_B$

(γ) $W_B=2W_A$

Μονάδες 4

B) Να αιτιολογήσετε την επιλογή σας.

Μονάδες 9