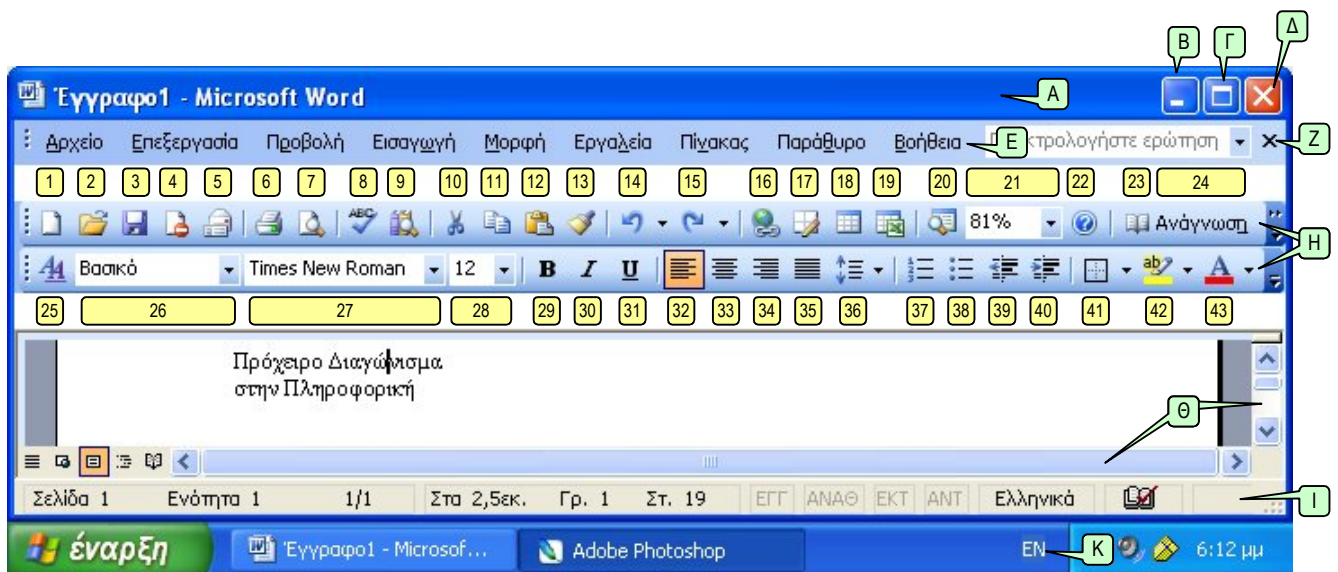





Γνωριμία με το Word

Συντομεύσεις Πληκτρολογίου-Word

<p>Γενικά</p> <p>Άνοιγμα Εγγράφου Ctrl + O</p> <p>Αποθήκευση Εγγράφου Ctrl + S</p> <p>Εκτύπωση Εγγράφου Ctrl + P</p> <p>Κλείσιμο Εγγράφου Ctrl + W</p> <p>Αναίρεση Ctrl + Z</p> <p>Ακύρωση Αναίρεσης Ctrl + Y</p> <p>Βοήθεια F1</p> <p>Εναλλαγή μεταξύ εφαρμογών Alt + Tab</p>	<p>Περιήγηση – Για να πάτε:</p> <p>Πάνω μία οθόνη Page Up</p> <p>Κάτω μία οθόνη Page Down</p> <p>Αρχή μιας γραμμής Home</p> <p>Τέλος μιας γραμμής End</p> <p>Αρχή Εγγράφου Ctrl + Home</p> <p>Τέλος Εγγράφου Ctrl + End</p> <p>Ενεργοποίηση της εντολής Μετάβαση... F5</p>
<p>Επεξεργασία</p> <p>Αποκοπή Ctrl + X</p> <p>Αντιγραφή Ctrl + C</p> <p>Επικόλληση Ctrl + V</p> <p>Λειτουργία Αντικατάστασης Insert</p>	<p>Μορφοποίηση</p> <p>Έντονα Ctrl + B</p> <p>Πλάγια Ctrl + I</p> <p>Υπογράμμιση Ctrl + U</p> <p>Στοίχιση Αριστερά Ctrl + L</p> <p>Στοίχιση στο Κέντρο Ctrl + E</p> <p>Στοίχιση Δεξιά Ctrl + R</p>
<p>Επιλογή Κειμένου</p> <p>Για επιλογή Λέξης: Διπλό κλικ στη λέξη.</p> <p>Πρότασης Αριστερό κλικ στην πρόταση κρατώντας πατημένο το Ctrl.</p> <p>Γραμμής Αριστερό κλικ στο αριστερό περιθώριο δίπλα της.</p> <p>Παραγράφου Τριπλό Αριστερό κλικ στην παράγραφο.</p> <p>Όλων Ctrl + A</p>	



Εικόνα 1 - Το παράθυρο της εφαρμογής Microsoft Word 2003

1. Τι κάνει το κουμπί  που βρίσκεται στην πάνω δεξιά γωνία του παραθύρου; _____
2. Τι κάνει το κουμπί  που βρίσκεται στην πάνω δεξιά γωνία του παραθύρου; _____
3. Τι κάνει το κουμπί  που βρίσκεται στην πάνω δεξιά γωνία του παραθύρου; _____
4. Να αναφέρετε τα κουμπιά (εντολές) που κάνουν στοίχιση:
 Α) Αριστερά.....Β) Κέντρο.....γ) Δεξιά.....δ) Πλήρη.....
5. Τι κάνει το κουμπί (27) της εικόνας 1; _____
6. Τι κάνει το κουμπί (28) της εικόνας 1; _____
7. Με ποιο κουμπί αλλάζουμε το χρώμα της γραμματοσειράς; _____
8. Πώς γράφουμε **έντονα** γράμματα; *Με το κουμπί* _____
9. Πώς γράφουμε *πλάγια* γράμματα; *Με το κουμπί* _____
10. Με ποιο κουμπί υπογραμμίζουμε; *Με το κουμπί* _____
11. Τι κάνει το κουμπί με το νούμερο 3; _____
12. Τι κάνει το κουμπί με το νούμερο 6; _____
13. Ποια ενέργεια πραγματοποιείται αν πατήσετε το κουμπί 7; _____
14. Τι κάνει το κουμπί (14) της εικόνας 1; _____
15. Ποια η διαφορά της αποκοπής από την αντιγραφή και ποια είναι τα κουμπιά που κάνουν αυτές τις λειτουργίες; _____

-
-
16. Ποιο κουμπί θα πατήσετε για να δημιουργήσετε νέο έγγραφο; _____
 17. Ποιο κουμπί θα πατήσετε για να πραγματοποιήσετε ορθογραφικό έλεγχο; _____
 18. Τι θα εμφανιστεί αν πατήσετε το κουμπί με το νούμερο 22; _____
 19. Ποιο κουμπί θα πατήσετε για αρίθμηση; _____
 20. Ποιο κουμπί θα πατήσετε για εισαγωγή κουκκίδων; _____
 21. Ποια ενέργεια πραγματοποιείται αν πατήσετε το κουμπί 8; _____
 22. Με ποιο κουμπί μπορούμε να αλλάξουμε τη μεγέθυνση; _____
 23. Με ποιο συνδυασμό πλήκτρων μπορείτε να μεταβείτε στην αρχή του εγγράφου; _____
 24. Με ποιο συνδυασμό πλήκτρων μπορείτε να μεταβείτε στο τέλος του εγγράφου; _____
 25. Με ποιο πλήκτρο μπορείτε να μεταβείτε στο τέλος της γραμμής που βρίσκεται ο κέρσορας; _____
 26. Με ποιο πλήκτρο μπορείτε να μεταβείτε στην αρχή της γραμμής που βρίσκεται ο κέρσορας; _____
 27. Που βρίσκονται οι ράβδοι κύλισης; _____