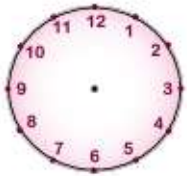




Διαβάζω το διπλανό πρόγραμμα του ραδιοφωνικού σταθμού «ΡΑΔΙΟ ΚΟΣΜΟΣ» και συμπληρώνω τους δείκτες στα ρολόγια με την ώρα έναρξης των εκπομπών.

### ΡΑΔΙΟ ΚΟΣΜΟΣ

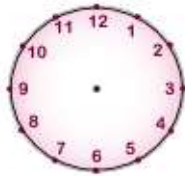
- 06:00 Καλημέρα όλη μέρα
- 09:00 Πρωινές ειδήσεις
- 10:00 Τι είχαμε, τι χάσαμε;
- 12:00 Σουτ και γκοφ
- 15:00 Μεσημεριανές ειδήσεις
- 16:00 Σε δουλειά να βρισκόμαστε
- 18:00 Πολιτικά μαγειρέματα
- 20:30 Βραδινές ειδήσεις
- 22:00 Μουσικά ταξίδια
- 00:00 Είσαι στον αέρα
- 03:00 Λαϊκή παρέα



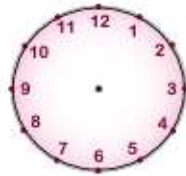
Πολιτικά  
μαγειρέματα



Λαϊκή  
παρέα



Σε δουλειά να  
βρισκόμαστε



Βραδινές  
ειδήσεις

Συμπληρώνω τον πίνακα όπως στο παράδειγμα.

▶	3 και μισή το μεσημέρι	15:30	3:30 μ.μ.
α)	5 και μισή το ξημέρωμα		
β)		18:20	
γ)			10:30 π.μ.
δ)	9 παρά τέταρτο το βράδυ		
ε)		23:40	



Αντιστοιχίζω τα ρολόγια με τις ώρες.



α.		•	• 17:00	1.
β.		•	• 5:30	2.
γ.		•	• 00:30	3.
δ.		•	• 20:30	4.
ε.		•	• 3:00	5.